

Escuela: Dr.: Pablo .A. Ramella -Primer Grado- Áreas: Lengua- Matemática- Ciencias Sociales- Formación Ética y Ciudadana

GUÍA N.º 24 DE RETROALIMENTACIÓN-ESCENARIO 1

ESCUELA: DR. PABLO .A. RAMELLA

CUE: 700064-300

DOCENTES: SONIA MORENO- CAROLINA VALDEZ

GRADOS: 1º "A" Y "B"

TURNO: MAÑANA

DESAFÍO: "CONSTRUIR UN JUEGO DE MESA, QUE INVOLUCREN FIGURAS GEOMÉTRICAS Y SEÑALES VIALES, PARA REALIZAR CÁLCULOS"

CONTENIDOS: LENGUA: LA ESCUCHA, COMPRENSIÓN Y DISFRUTE DE POEMAS. LA ESCUCHA

COMPRENSIÓN DE TEXTOS LEÍDOS O EXPRESADOS EN FORMA ORAL, POR OTROS ADULTOS. LA ESCRITURA

DE PALABRAS Y DE ORACIONES, QUE CONFORMAN UN TEXTO. **MATEMÁTICA:** NÚMEROS ORDINALES Y

CARDINALES. **CIENCIAS SOCIALES:** PAISAJES RURALES Y URBANOS. CARACTERÍSTICAS. MEDIOS DE

TRANSPORTES. **FORMACIÓN ÉTICA Y CIUDADANA:** EL CONOCIMIENTO DE LAS NORMAS Y SEÑALES

VIALES BÁSICOS.

INDICADORES DE EVALUACIÓN PARA LA NIVELACIÓN: LENGUA: LEE CON ENTUSIASMO E INTERÉS

EL TEXTO. COMPRENDE LA LECTURA DEL TEXTO. ESCRIBE LAS REGLAS DE UN JUEGO DIDÁCTICO.

MATEMÁTICA: DISTINGUE LOS NÚMEROS ORDINALES. RECONOCE Y CONSTRUYE FIGURAS

GEOMÉTRICAS. CONFECCIONA SU TABLERO NUMÉRICO. **CIENCIAS SOCIALES:** RECONOCE

CARACTERÍSTICAS DEL PAISAJE URBANO Y RURAL. IDENTIFICA MEDIOS DE TRANSPORTES. **FORMACIÓN**

ÉTICA Y CIUDADANA: IDENTIFICA NORMAS Y SEÑALES DE SEGURIDAD VIAL

ACTIVIDADES DE GUÍA Nº24

FECHA: 24/11/2.020

ÁREA: LENGUA

ACTIVIDAD 1: LEER EL POEMA.

LOS MEDIOS DE TRANSPORTE

SON MUCHOS LOS MEDIOS DE TRANSPORTE:

LOS HAY TERRESTRES,
COMO EL CAMIÓN.
OTROS SON ACUÁTICOS,
COMO EL GRAN BARCO BLANCO,
Y DE LOS AÉREOS,
EL MAYOR DE TODOS,
ES EL AVIÓN.



ÁREA: CIENCIAS SOCIALES

ACTIVIDAD 2: ESCRIBIR ¿QUÉ CARACTERÍSTICAS TIENE CADA ESPACIO?

RURAL:



URBANO:



EFEMÉRIDE 20 DE NOVIEMBRE
DÍA DE LA SOBERANÍA NACIONAL
ARGENTINA



¿TE PREGUNTARÁS...QUÉ ES LA SOBERANÍA?
SE REFIERE A EJERCER LA AUTORIDAD, EN UN CIERTO TERRITORIO.
EL INCUMPLIMIENTO DE LA SOBERANÍA DE UN PAÍS, PUEDE PROVOCAR EL INICIO DE UN CONFLICTO.

FECHA: 25 /11/2.020

ÁREA: MATEMÁTICA

ACTIVIDAD 1: UNIR LA SEÑAL VIAL CON LA FIGURA GEOMÉTRICA CORRECTA.ESCRIBIR LOS NOMBRES DE LAS FIGURAS GEOMÉTRICAS.





NO
ADELANTAR



ESTACIÓN DE
SERVICIO



PROHIBIDO
GIRAR A LA
IZQUIERDA



ÁREA: CIENCIAS SOCIALES

ACTIVIDAD 2: RESPONDER LAS PREGUNTAS

(RECORDAR, EL TEXTO TRABAJADO EL DÍA MARTES)

A-¿CUÁLES SON LOS MEDIOS DE TRANSPORTES, QUE SE NOMBRAN?

B-¿POR DÓNDE, TRANSITA CADA UNO?

C-DIBUJA EL TRANSPORTE QUE MÁS TE GUSTA.

FECHA: 26 /11/2.020

ÁREA: FORMACIÓN ÉTICA Y CIUDADANA

ACTIVIDAD 1: OBSERVAR CADA VIÑETA Y RESPONDER ¿QUÉ SUCEDE EN CADA UNA?



ÁREA: MATEMÁTICA

ACTIVIDAD 2: ORDENAR LOS MEDIOS DE TRANSPORTES, DESDE EL 1º AL 10º. ESCRIBIR EL NOMBRE DE TRES DE ELLOS.



FECHA: 27 /11/2.020

¡HA LLEGADO EL DÍA VIERNES, TRABAJAREMOS LO APRENDIDO A TRAVÉS DE UN GRAN DESAFÍO!

JUGAR, LE PERMITE AL NIÑO EXPERIMENTAR SUS EMOCIONES Y EXPRESAR SUS SENTIMIENTOS.

ÁREA: LENGUA- MATEMÁTICA- CIENCIAS SOCIALES

1-ESCRIBIR TUS PROPIAS REGLAS DE JUEGO.

NOMBRE:

MATERIALES:

REGLAS:

JUGADORES:

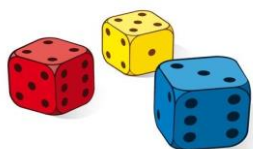
SEÑALES VIALES (LA DEBES INVENTAR Y DIBUJAR EN CADA FORMA GEOMÉTRICA)



2- CONSTRUIR TU TABLERO NUMÉRICO.

PUEDES OCUPAR UNA HOJA BLANCA, CARTULINA O CARTÓN.

DEBES BUSCAR DOS DADOS O PUEDES ARMARLOS CON UNA CAJITA, PEGARLE PAPELES O PINTAR LOS PUNTOS DEL 1 AL 6.



DEBES ESCRIBIR LOS CÁLCULOS QUE HAS REALIZADO

JUGADOR/NOMBRE	CÁLCULOS
1º JUGADOR.....	
2º JUGADOR.....	
3º JUGADOR.....	
GANADOR.....	
...	

AL FINALIZAR PUEDES ENVIAR, UN VIDEO O AUDIO Y FOTOS, EXPLICANDO TU TRABAJO FINAL.

DIRECTORA: M. ELENA FERNANDES

VICEDIRECTORA.SANDRA HERRERA