

CensRim22_Segundoaño1°y2°divisionelectromecanica_historia_geografia

Cens Rim 22

Docente: Flores Héctor

Curso: 2ºaño, 1º y 2º división Electromecánica

Ciclo Superior, Turno Tarde

Área: Historia-Geografía

Tema: Continente Americano

Capacidad a Desarrollar:

- a) Capacidad para redactar y comunicar
- b) Lectura y análisis del documento de Información.

Objetivo: Desarrollar una actitud reflexiva y crítica

Contenidos: Continente Americano

_Ubicación Geográfica, Superficie División, Política, Ríos, Lagos y Cordones Montañosos.

Actividades:

1_ Lee reflexivamente el siguiente texto.

2_ Responde y trabaja en mapa

- a) ¿Cuál es la superficie del continente Americano y qué lugar ocupa en relación a los otros?
- b) Nombre los países que conforman el continente Americano y su capital
- c) Nombre y Marque los principales cordones montañosos que figuran en el mapa (Mapa continental Americano)
- d) ¿Marque en un Mapa del continente Americano las placas tectónicas?
- e) Nombre y explique las principales vertientes de América y en un mapa del continente Americano.

Marque los papeles Ríos y lagos que salen en el Mapa.

Se evaluará:

_Producción Individual, y su presentación Prolija, ortografía.

_ Presentación en forma y tiempo.

Bibliografía:

Ciencias Sociales 8 E.G.B BERTONCELLO y Otros. Ed Santillana Hoy. 2004.
Argentina. Pág. 7, 9, 16, 21

Director: Victorina González



Ríos, lagos y lagunas


Las condiciones del relieve y del clima definen, en gran medida, las características de la red de ríos, lagos y lagunas del continente. Por ejemplo, los elevados volúmenes de precipitaciones y la escasa pendiente del relieve configuran las particularidades de la cuenca del Amazonas: ríos de gran caudal, que corren lentamente y en zigzag, y forman, en algunos casos, meandros o curvas.

En cambio, el relieve montañoso define otras características, como ocurre con los ríos del área cuyana, en la Argentina; se trata de cursos rápidos, alimentados principalmente por el agua de los deshielos más que de las lluvias.

El continente también presenta **grandes cuencas lacustres** de origen glaciario, como la de los Grandes Lagos, los lagos del norte de Canadá y los lagos del sur de la cordillera entre la Argentina y Chile.

Cuencas y vertientes

En esta página podemos ver un mapa hidrográfico, que representa los principales ríos y vertientes de América. Si lo comparamos con el mapa físico de la página 16, podemos determinar que la mayor parte de los ríos del continente nace en las áreas montañosas, sobre todo en las del oeste, y desemboca en los océanos y mares. También podemos observar que, de acuerdo con el recorrido de los ríos, pueden distinguirse diferentes vertientes, es decir, conjuntos de **cuencas hidrográficas** que desembocan en un mismo lugar, como un mar, océano, lago u otra depresión.

 **cuenca hidrográfica.** Es la superficie recorrida por el río principal, sus afluentes y subafluentes; también forman parte de ella los lagos, las lagunas y las aguas subterráneas.

23

Principales ríos de América



Principales vertientes

- * **Vertiente del Pacífico:** reúne todos los ríos que nacen en las cadenas montañosas del oeste del continente y desembocan en el océano Pacífico.
- * **Vertiente del Ártico:** incluye un reducido grupo de ríos que desembocan en ese océano; por su clima riguroso, las aguas de estos ríos permanecen congeladas la mayor parte del año.
- * **Vertiente del Golfo de México:** abarca aquellos ríos que nacen en el sector oriental de las Montañas Rocosas y en los Montes Apalaches occidentales y desembocan en el Golfo de México.
- * **Vertiente del Atlántico:** en América del Norte incluye aquellos ríos que nacen en los Montes Apalaches orientales y en algunos de los Grandes Lagos; en América del Sur comprende un conjunto de ríos de gran longitud, muchos de los cuales nacen en la Cordillera de los Andes.



Meandros en el río Amazonas.

Para empezar

- ◆ Cuando nos referimos a América podemos decir muchas cosas. Por ejemplo, que es un continente, que está formado por distintos países, que tiene una gran variedad de lugares, de gente, de actividades, etcétera.
- * Para comenzar, te proponemos que te reúnas con algunos compañeros y juntos preparen una lista de lugares de América que les resulten conocidos. ¿Qué características tienen esos lugares? ¿Cómo se distinguen de otros?

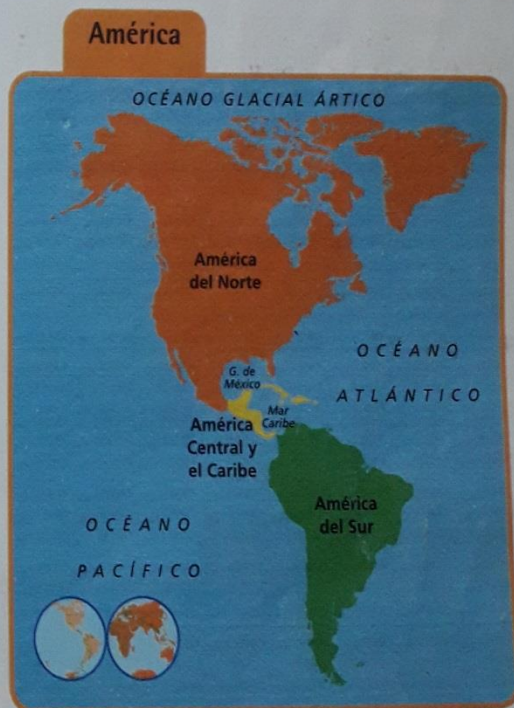
El continente americano

América es uno de los continentes que se encuentran en la superficie terrestre. Los **continentes** son grandes masas de tierras emergidas, es decir que están en contacto directo con la atmósfera. Los continentes ocupan aproximadamente el 30 % de la superficie del planeta; el resto está ocupado por grandes masas de agua que forman los océanos y mares.

La superficie del continente americano es de alrededor de 42 millones de kilómetros cuadrados. Si consideramos el total de tierras emergidas, el continente americano representa el 28 % de ellas, y ocupa el segundo lugar, después de Asia, que es el continente de mayor superficie. Siempre teniendo en cuenta la extensión, le siguen en importancia África, la Antártida, Europa y, por último, Oceanía, que representa sólo el 6 % de las tierras emergidas.

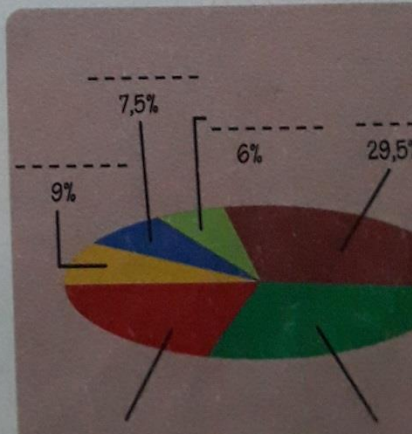
Si observamos el continente americano en un mapa como el de esta página, vemos que presenta una forma particular. Es posible reconocer dos grandes masas de tierras, una al norte y otra al sur, unidas por un sector más pequeño, compuesto por un estrecho brazo

de tierras y un conjunto de islas. En general, cada uno de estos conjuntos se denomina **subcontinente**. Los tres juntos constituyen el continente americano.



ACTIVIDADES

1. Observá el gráfico. En él se representa la proporción del total de tierras emergidas que ocupa cada uno de los continentes. Volvé a leer el texto de esta página y, con la ayuda de las cifras que se incluyen, colocá el nombre del continente que corresponda.
2. Observá el mapa de esta página y respondé.
 - a) ¿Cuáles son los nombres de los tres subcontinentes que integran América?
 - b) ¿Qué océanos bañan las costas de este continente?




Los países de América


En el continente americano encontramos una gran cantidad de países. Para comprender qué es un país, tenemos que tener en cuenta: la gente que vive en él, es decir, su **sociedad**; el conjunto de instituciones de gobierno y administración que organizan esa sociedad, es decir, el **Estado**; y, ade-

más, debemos considerar el **territorio**, la porción de superficie terrestre donde vive esa sociedad y en la cual el Estado ejerce su autoridad.

El mapa político de América nos muestra los territorios de los países americanos y también la ubicación y el nombre de la ciudad capital de cada país, donde tienen su sede las autoridades de gobierno.




Cuzco, Perú.



Ciudad de Calgary, Canadá.

Playa en Montezuma, Costa Rica.



© Sardiniana S.A. Prohibida su fotocopia. Ley 11.723