

GUÍA PEDAGÓGICA Nº23 DE RETROALIMENTACIÓN (GRUPO 2)

ESCUELA: Clte. Eleázar Videla

Cue : 700056300

DOCENTES: Johana Ponce Sandra Figueroa

GRADO: 2º TURNO: Jornada completa

ÁREAS INTEGRADAS: Matemática y Ciencias Naturales.

TÍTULO DE LA PROPUESTA: "VIDA SANA PARA COMPARTIR CON LOS DEMÁS"

Contenidos curriculares: **Matemática:** Situaciones problemáticas. Cálculos mentales. La medida. **Cs Naturales:** El ciclo vital. Cambios físicos a lo largo de la vida: peso, talla, dentición, etc. Hábitos que favorecen la salud como la higiene personal, la alimentación, la actividad física y social y el juego.

Indicadores para la evaluación:

Resuelven situaciones problemáticas de suma, resta y multiplicación en forma mental, algorítmica y/o gráfica.

Resuelven problemas que impliquen realizar estimaciones y mediciones.

Identifican figuras geométricas.


Identifican el ciclo de vida, hábitos saludables y medidas básicas para prevenir enfermedades.

Desafío: Elaborar afiches para concientizar sobre hábitos saludables

Actividades

DÍA 1 (9 DE NOVIEMBRE)

LEER LA POESIA



CIENCIAS NATURALES

LAS VERDURAS DE MI BARRIO

CUÁNDO LLEGAN ME SALUDAN
ENSEGUIDAS LOS TOMATES
Y YO ME QUEDO CASI MUDA
AL VER QUE ME OFRECEN MATE.
DESPUÉS ,SON LAS ZANAHORIAS
QUE VIENEN A DARME CHARLA
Y ME CUENTAN SUS HISTORIAS
ANARANJADAS Y LARGAS .
AL RATO ES LA ESPINACA
LA QUE CON RISAS SE ASOMA
MIENTRAS LAS HOJAS DE
ALBAHACA
SE PONEN A INVENTAR BROMAS.
BERENJENAS ,RABANITOS,



LECHUGAS Y COLIFLORES,
 REPOLLO Y ZAPALLITOS,
 CONVERSAN DE SUS AMORES.
 Y AUNQUE ESTO SUCEDE A DIARIO
 SIEMPRE ES GRANDE MI SORPRESA,
 LAS VERDURAS DE MI BARRIO
 SON REALMENTE TRAVIESAS
 ADELA BASCH

RESPONDER EN EL CUADERNO

- ¿CUÁL ES LA VERDURA QUE SE PONE A INVENTAR BROMAS?
- ¿CUÁL ES LA VERDURA QUE OFRECE MATE?
- ¿QUIÉN TOMA MATE EN TU CASA?
- ¿POR QUÉ ES IMPORTANTE COMER FRUTAS Y VERDURAS?

MATEMATICA

COMER FRUTAS Y VERDURAS NOS AYUDA A MANTENER UN PESO Y CRECIMIENTO SALUDABLE

MIRAR CON ATENCIÓN LA LIBRETA DE LUCAS
 LIBRETA MATERNO INFANTIL DE LUCAS



FECHA	EDAD	ALTURA
1/6/2013	1 MES	45CM
3/7/2013	2 MESES	50 CM
3/11/2013	6 MESES	70CM

ANOTAR EN TU CUADERNO

- ¿ESCRIBE EL NÚMERO MÁS GRANDE EN ALTURA? _____
- ¿CUÁNTO MEDISTE AL NACER? _____
- ¿AHORA CUANTO MEDIS? _____

ORDEN

DIA 2 (10 DE NOVIEMBRE)

CIENCIAS NATURALES

UNA ALIMENTACIÓN SALUDABLE ES IMPORTANTE PARA CRECER FUERTES.
 ENUMERAR LAS IMÁGENES (DE 1 AL 4) DEL CICLO DE VIDA DE LAS PERSONAS,
 DESDE QUE NACEMOS HASTA LA MUERTE



MATEMÁTICA

RESOLVER LAS SIGUIENTES SITUACIONES PROBLEMÁTICAS.

MARTÍN TRAÍA 45 CAJONES DE ZANAHORIAS EN SU CAMIÓN Y BAJÓ 5 EN LA VERDULERÍA ¿CUÁNTOS CAJONES LE QUEDARON?

RESPUESTA: _____

SI EN UN KILO ENTRAN 3 TOMATES GRANDES ¿CUÁNTOS TOMATES HABRAN EN 4 KILOS?



RESPUESTA: _____

EN LA VERDULERIA COMPRÉ 1 BROCOLÍ POR \$50 Y DOS KILOS DE CEBOLLAS POR \$100¿CUÁNTO GASTÉ EN TOTAL?

RESPUESTA: _____

DIA 3 (11 DE NOVIEMBRE)

MATEMÁTICA

AL COMENZAR EL DÍA ,EL ALMACENERO DEL BARRIO COLOCÓ 54 BOTELLAS EN LA HELADERA.CUANDO TERMINÓ ELDÍA QUEDABAN 13.¿CUÁNTAS BOTELLAS VENDIÓ?

RESPUESTA: _____

EN LA CASA DE LUCÍA SE REPARTIERON 8 BOTELLAS DE AGUA EN DOS FAMILIAS ¿ CUANTAS BOTELLAS LE CORRESPONDE A CADA FAMILIA?

RESPUESTA: _____

CIENCIAS NATURALES

CUIDAR NUESTRO CUERPO. MIRAR LAS IMÁGENES Y UNIR CADA UNA CON EL CARTEL QUE CORRESPONDE.




DORMIR 8 HORAS

COMER A HORARIO Y SANO



BAÑARSE

IR AL PEDIATRA



DIA 4 (12 DE NOVIEMBRE)

CIENCIAS NATURALES

SEÑALAR CON UNA X LOS HÁBITOS SALUDABLES




¿QUÉ HABITOS SALUDABLES PRÁCTICAS VOS? ESCRIBIRLOS EN EL CUADERNO

MATEMÁTICA:

FABI SE DIBUJÓ CON SU FAMILIA PASANDO TIEMPO AL AIRE LIBRE, YA QUE HACE MUY BIEN PARA MANTENERSE SANO Y USÓ FIGURAS GEOMÉTRICAS.

DESCUBRIRLAS Y ESCRIBIR CUANTAS HAY DE CADA UNA..




CUADRADOS _____



RECTÁNGULOS _____



TRIÁNGULOS _____



CÍRCULOS _____

DIA 5 (13 DE NOVIEMBRE)
MATEMÁTICA

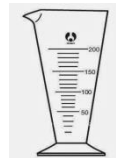


ROMINA LLEVA A SU BEBÉ PARA QUE LA PEDIATRA LO REVISE .
 LA DOCTORA LO DEBE PESAR Y MEDIR PARA CONTROLAR QUE ESTÉ CRECIENDO BIEN.
 UNIR LA IDEA CON EL INSTRUMENTO ADECUADO.

PARA PESAR AL BEBÉ SE NECESITA LA ...

PARA MEDIR CUÁNTO CRECIÓ USARÁ EL....

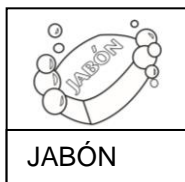
PARA MEDIR LA LECHE QUE VA A TOMAR EL BEBÉ LO HARÁ CON...



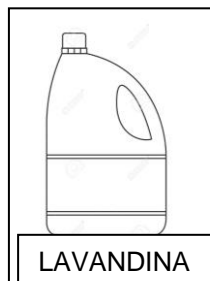
CIENCIAS NATURALES

ESTAMOS VIVIENDO EN ÉPOCA DE PANDEMIA Y DEBEMOS CUIDARNOS ENTRE TODOS

PINTAR LOS ELEMENTOS NECESARIOS PARA PREVENIR EL CORONAVIRUS.



JABÓN



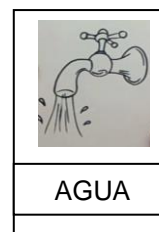
LAVANDINA



ALCOHOL EN GEL



ESPEJO



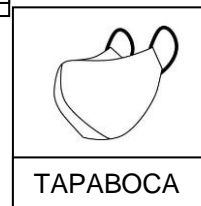
AGUA



PEINE



DETERGENTE



TAPABOCA

ELABORAR UN AFICHE CON CONSEJOS SOBRE EL CUIDADO DE LA SALUD, LOS HÁBITOS DE HIGIENE Y ALIMENTICIOS PARA COMPARTIR EN LOS GRUPOS DE WHATSAPP Y ASÍ CONCIENTIZAR A OTRAS PERSONAS SOBRE LA IMPORTANCIA DE MANTENERNOS SANOS Y FUERTES EN ÉPOCA DE PANDEMIA. ENVIAR EVIDENCIAS A LA SEÑO.



Directora: Norma García