

GUÍA PEDAGÓGICA N° 21 DE RETROALIMENTACIÓN**Grupo N° 1**Escuela: Florentino AmeghinoCUE 7000614-00Docentes: Alejandra Bazán- Julieta TelloGrado: 1º “A” y” B”Turno: MañanaÁreas: Lengua- Matemática- Ciencias Naturales- Ciencias Sociales- Formación Ética y Ciudadana.Título de la propuesta: “Aplicando lo aprendido en los últimos meses”.

Contenidos: Lengua: La escucha comprensiva de textos leídos en forma oral por otros adultos. La lectura, comprensión y el disfrute de textos literarios (adivanzas). Escritura asidua de palabras u oraciones que conforman textos. Matemática: Relaciones numéricas: Doble de mitad de. Figuras geométricas. Cuerpos geométricos. Ciencias Naturales: Cuerpo humano: Hábitos de alimentación saludable. Ciencias Sociales: Lo prohibido y lo permitido. En los espacios públicos, en la escuela y en la calle (seguridad vial) Formación Ética y Ciudadana: Los valores y su puesta en práctica en diferentes situaciones áulicas, familiares y sociales.

Indicadores de evaluación para la nivelación: Lengua: Lee de manera autónoma el texto. Identifica las respuestas de las adivanzas. Escribe palabras y oraciones. Ciencias Naturales: Identifica en las adivanzas alimentos saludables. Reconoce el concepto de alimentos saludables. Clasifica los alimentos saludables y no saludables. Formación Ética y Ciudadana: Reconoce actitudes correctas para estar en la mesa. Matemática: Relaciona la forma del objeto con el cuerpo geométrico al que se le parece. Escribe el nombre de los cuerpos y figuras geométricas. Representa con dibujos la noción de doble y mitad. Ciencias Sociales: Identifica señales viales. Comprende lo prohibido y permitido de las normas de tránsito.

Fecha: 16/11 al 19/11Desafío: “Realizar el juego de adivanzas y acertijos de frutas y verduras”.Actividades:

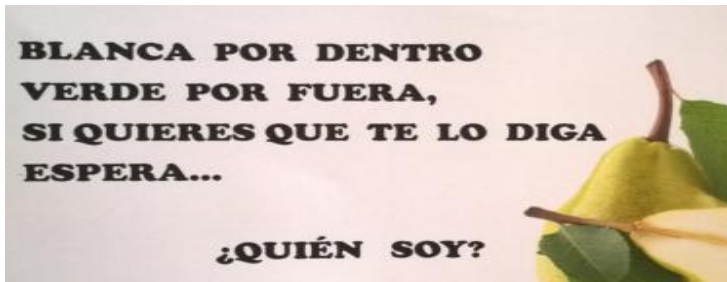
¡¡¡HOLA !!! LOS INVITO A JUGAR EN FAMILIA ¿SE ANIMAN AL JUEGO DE INGENIO?
¡¡¡YO SÉ QUE SÍ!!! ¡¡¡ADIVINEN !!!

NO TOMA TÉ, NI TOMA CAFÉ Y ESTÁ COLORADO, ¿QUIÉN ES?.....

ME ABRIGO CON PAÑOS BLANCOS, LUZCO BLANCA CABELLERA Y POR CAUSA MÍA LLORA HASTA LA MISMA COCINERA ¿QUIÉN SOY?

¿LES GUSTÓ EL JUEGO? ¿LO JUEGAN EN FAMILIA? ¿QUIÉN HACE LLORAR A LA COCINERA?

1- EN EL CUADERNO LEE LAS ADIVINANZAS Y ESCRIBE SUS RESPUESTAS.



ES LA

SOY FLACA Y LARGA,

VERDE, ES SU VESTIDO, TIENE BARBA

LLEVO GORRO VERDE

Y GRANDES DIENTES ÉL NO COME

Y REMERA NARANJA

Y ES COMIDO POR TODOS LOS PRESENTES

SOY UNA

ES EL

2- BUSCA ADIVINANZAS DE FRUTAS Y VERDURAS, PARA EL DESAFÍO.

3- ESCRIBE LAS ADIVINANZAS EN TARJETITAS. ENVIAR EVIDENCIAS DE UN VIDEO LEYENDO TU PRODUCCIÓN ESCRITA (LECTURA ORAL).

4- ESCRIBE EN EL CUADERNO ESAS ADIVINANZAS CON EL DIBUJO DE LAS FRUTAS O VERDURAS.(ENVIAR FOTO A LA SEÑO)

5- ELIGE DE LAS ADIVINANZAS, ALIMENTOS QUE SEAN SALUDABLES Y ESCRÍBELOS EN EL CUADERNO. PIENSA EN OTROS DOS MÁS.

6- RESPONDE:

¿POR QUÉ PIENSAS QUE SON ALIMENTOS SALUDABLES?.....

7- ESCRIBE LOS ALIMENTOS SANOS QUE COMES EN CADA MOMENTO.

1°-DESAYUNO:...../ 2°ALMUERZO:...../ 3°-MERIENDA:...../ 4° CENA:

8-PIENSA Y ESCRIBE ALIMENTOS SALUDABLES Y NO SALUDABLES.

ALIMENTOS SALUDABLES	ALIMENTOS NO SALUDABLES
.....
.....

9- MIRA LAS IMÁGENES Y COMPLETA LAS ORACIONES CON LAS PALABRAS.

SILLA – DESPACIO – ALIMENTO - MANOS – COMER - BIEN



COMER..... Y MASTICAR BIEN CADA.....
 SENTARSE.....EN LA.....
 LAVARSE BIEN LAS.....ANTES Y DESPUÉS DE.....

10- ESCRIBE TRES MODALES INADECUADOS PARA ESTAR EN LA MESA.

ENVIAR FOTO A LA SEÑO DE LOS PUNTOS 6, 8, 9 Y 10

11- ESCRIBE SUS NOMBRES Y UNE. ¿CUÁL ES EL ALIMENTO?

TIENE FORMA DE CONO ES EL.....

TIENE FORMA DE ESFERA ES LA.....

TIENE FORMA DE PRISMA ES LA.....





12- LEE Y UNE. ¿CÓMO SE LLAMAN LOS CUERPOS Y LAS FIGURAS GEOMÉTRICAS?

● **UNI LOS QUE TIENEN FORMAS PARECIDAS.**

¿CÓMO TE DISTE CUENTA?

13- DIBUJA EL DOBLE DE CANTIDAD DE ESOS ALIMENTOS SALUDABLES.




14- LEE Y RESUELVE EL PROBLEMITA:.


LUCAS FUE CAMINANDO HASTA LA VERDULERÍA Y COMPRÓ 30 MANZANAS. SI LE REGALÓ LA MITAD A SU AMIGA. ¿CUÁNTAS MANZANAS LE DIÓ?

REPRESENTA CON DIBUJO.

COMPRÓ



MITAD



¿QUÉ TUVISTE EN CUENTA PARA RESOLVERLOS?

15- COMPLETA: SI LUCAS, CIRCULA POR LA CALLE CAMINANDO.

ES UN.....

16- ENCIERRA EN CÍRCULO SOLAMENTE LA SEÑAL VIAL QUE LUCAS DEBE RESPETAR. DIBÚJALAS Y ESCRIBE LO QUE INDICAN.

SEMÁFORO - PROHIBIDO ESTACIONAR - SENDA PEATONAL – PARE

17- ESCRIBE LO PROHIBIDO Y LO PERMITIDO DE LAS NORMAS DE TRÁNSITO. (DOS DE CADA UNO).

<u>NORMAS DE TRÁNSITO</u>	
<u>PROHIBIDO</u> (LO QUE NO SE DEBE HACER)	<u>PERMITIDO</u> (LO QUE SÍ DEBEMOS HACER).

¿QUÉ LE DIRÍAS A LAS PERSONAS QUE NO RESPETAN LAS SEÑALES VIALES?

18- ENVIAR EVIDENCIA FOTOGRÁFICA DEL PUNTO 12, 13, 14,16 Y 17.

19- RESPONDE:

¿CÓMO TE SENTISTE AL RESOLVER EL DESAFÍO DE LAS ADIVINANZAS?

¿LOGRASTE ADIVINAR MUCHAS?

¡¡¡ATENCIÓN!!! DEBES INGRESAR EN EL LINK QUE ESTÁ ABAJO HACIENDO CLIK, COMPLETAR Y RESOLVER CONSIGNAS PARA VER CUÁNTO APRENDISTE.

<https://forms.gle/Q6k3ZMn1Cf4EZzsu9>

DIRECTORA: PROF. LILIANA CASTILLO