

Escuela: Nocturna Matías Zavalla (Sede)

Docente: Mariela Ardiles

Ciclo: Primero

Áreas: -Lengua-Matemática-Formación Ética -Ciencias Sociales-Ciencias Naturales.

Título de la propuesta: Mis trabajos desde casa.

GUÍA PEDAGÓGICA Nº 16 DE RETROALIMENTACIÓN (Grupo 1)

Contenidos:

Lengua: Lectura inicial, textos sencillos. Estructura y función. El cuento

Matemática: Numeración. Situaciones problemáticas.

Ciencias Naturales: Partes de la planta. Animales Vivíparos y ovíparos.

Ciencias Sociales: Efemérides

Formación Ética y Ciudadana: Normas. Respeto por el prójimo. Adulto mayor.

Indicadores

- Maneja las nociones de espacio y número en situaciones cotidianas. domina las nociones de adición y sustracción

- Resuelve problemas que requieren el uso de las operaciones básicas como sumas y restas.

-Escribe y lee palabras y oraciones breves. Comprende lo que lee.

- Identifica fechas patrias.

- Reconoce partes de una planta y clasifica animales según su tipo de nacimiento.

ACTIVIDADES

Lengua

1-Les pedimos que lean, junto a quienes las y los acompañen, este breve cuento de un hombre mayor que perdió la memoria.

El anciano sin memoria

Estaba con una mano en la frente y a cada

pregunta que le hacían los amigos bajaba la

cabeza, cerraba los ojos para mirar más lejos

y respondía:

- no, no recuerdo.

Y de pronto dijo: –ustedes recuerdan todo.

Debe ser tremendo. Yo no recuerdo nada.

Estoy como si naciera mañana.

2- Ahora les proponemos que copien y respondan en sus cuadernos las siguientes preguntas junto a quienes están con ustedes:

- ¿Qué creen que le sucedió al anciano?
- ¿Un anciano puede nacer mañana?
- Mañana, ¿está antes o después de hoy?
- ¿Qué día es hoy?
- ¿Qué día fue ayer?
- ¿Qué día será mañana?

3- Les pedimos que imaginen qué olvidó el anciano y que elijamos un nombre para ese hombre. ¿Cómo se llama?

Escribimos las respuestas con ayuda, si fuera necesario, en el cuaderno.

4-Marca con una X la oración correcta

-A los abuelos se los cuida y protege.

-A los abuelos se los maltrata.

- A los abuelos se los abandona.

- A los abuelos se los escucha.

5-Escribe solo el nombre de ó que ves



MATEMÁTICA

6-Lee las pistas y colorea los números correctos

Números mayores que 45: 42 47 39 56 12

Números menores que 56: 67 53 69 54 50

Números entre el 42 y 51: 40 56 47 50 60

Menores que 60: 64 44 74 54 24

De 2 en 2: 42,....., 56

De 3 en 3: 21,.....,42

De 4 en 4:.....,64

De 5 en 5:20.....,60

8-Calcula cuánto dinero tiene cada uno de los chicos

Juan tiene:  =\$ _____

Marta tiene:  =\$ _____

Andrea tiene:  =\$ _____

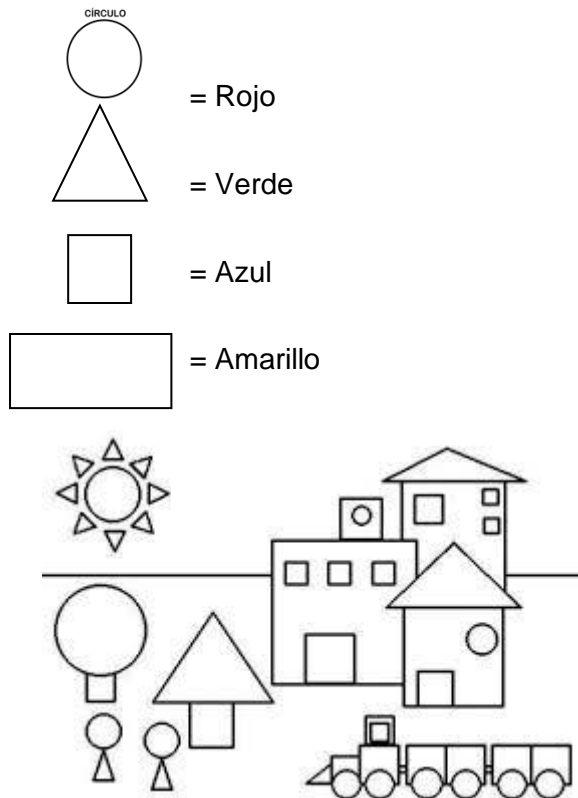
9-Dibuja con los billetes con los que se puede comprar los siguientes productos


CAMISETA \$ 450=


\$ 560=


HELADO \$ 180=

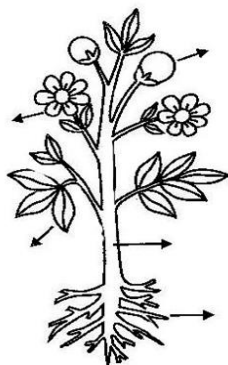
10-Colorea la siguiente imagen según corresponda.



CIENCIAS NATURALES

11-Completa con las partes de la planta donde corresponda


LA PLANTA Y SUS PARTES



raiz tallo hoja flor fruto

Colorea la planta

12-Responde como nacen los siguientes animales (ovíparos- vivíparos)



CIENCIAS SOCIALES

13- Completa las siguientes oraciones con estas palabras (Trabajo y Constitución Nacional, Independencia, Maestro, Bandera.)

El 1ro de Mayo es el día del_____y_____.

El 20 de Junio es el día de nuestra_____

El 9 de Julio es el día de la _____

El 11 de Septiembre es el día del_____

Director: Daniel Manzano