

GUÍA PEDAGÓGICA N° 18 DE RETROALIMENTACIÓNEscuela: José Matías Zapiola**CUE:** 700051900**Docente:** José Luis Muñoz**Grado:** 3ro

turno: Mañana

Áreas: Lengua, Matemática, Ciencias Sociales, Ciencias Naturales, Formación Ética y Ciudadana.**Título de la propuesta:** *Las Tradiciones***Contenidos:****Matemática:** resolución de situaciones problemáticas que impliquen adición, sustracción y multiplicación. Lectura y escritura de los números hasta 8.000. Regularidades numéricas.**Ciencias Sociales:** Las sociedades a través del tiempo. Las tradiciones**Formación ética y ciudadana:** distintas formas de vida, cultural y regional.**Educación Física:** Elaboración y puesta en práctica de respuestas motrices que involucren las habilidades motoras básicas locomotivas y no locomotivas.**Música:** patrimonio cultural local, regional o nacional**Indicadores de evaluación para la nivelación:****Matemática:** resuelve situaciones problemáticas. Reconozco números hasta 8.000. Resuelve operaciones de suma, resta multiplicación. Escribe números de mayor menor sin dificultad. Puede ubicar números según su valor posicional. Completa series numéricas**Ciencias Sociales:** reconozco acontecimientos de la tradición. Identifico características de la tradición.**Formación Ética y Ciudadana:** Identifica distintas formas de vida cultural y regional.**Música:** Conoce y valora el patrimonio musical teniendo en cuenta el contexto de origen y desarrollo, local regional, nacional y/o internacional.**Educación Física:** Identificar los diferentes apoyos corporales, las destrezas gimnásticas y habilidades básicas manipulativas.**Desafío.*****Producir un texto referido a la tradición, a partir de experiencias de padres y abuelos sobre vivencias tradicionales de la zona.***

Desarrollo de actividades:


Área: matemática

Este gaucho debe llegar a su rancho completa el camino.

5.000	5.010									
6.000										
7.000										
8.000										
9000										

Continua la serie para que estos paisanos puedan encontrarse.

Componer el número de cada gaucho y paisana.




2.000

600

50

8




900

3.000

6

40



4.000

300

20

7

El anterior es:.....

El posterior es:.....

Los números de los gauchos y paisana los escribe en letras.

el anterior es:.....

el posterior es:.....

el anterior es:.....

el posterior es:.....

Resuelve los siguientes problemas:

De las 1.740 empanadas que habían preparado, solo sobraron 235 empanadas. ¿Cuántas empanadas vendieron entonces?

Se hicieron para la venta 198 docenas de pastelitos, solo vendieron 167 docenas a \$ 6 cada una. ¿Cuánto dinero recaudaron en total con esta venta?

Si entre las empanadas y los pastelitos recaudaron \$ 2.378. ¿Cuánto ganaron con la venta de empanadas?

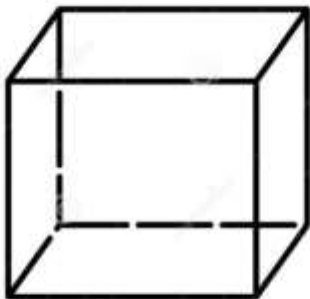
Observa los instrumentos musicales del área música.

¿Se parece a algún cuerpo geométrico que conoces? ¿Cuáles?
Bombo con.....

Escribe y completa el cuadro.

Cuerpos que ruedan	Cuerpos que no ruedan

Observa el cubo, completa con los elementos y colócales el nombre.



Observa el cubo y cuenta la cantidad de:

Aristas	caras	Vértices

Área: Ciencias Sociales

Observa las siguientes imágenes.



Gaucha y paisana José Hernández Buenaventura Luna Fogón de los arrieros

Tienen alguna relación con el día de la tradición.

Con ayuda de mamá, papá o familia busco información sobre cada imagen.

La canción Vallecito de Huaco. ¿Quién es el autor? ¿De qué lugar de Jáchal se habla?

Área: formación Ética y Ciudadana:

Reflexiona:

Que significa la frase:

“Nunca se sabe quién es el ganador hasta que termina la carrera”

En el texto se dice que Juan los esperaba con su amigo **EL Mate**.

¿Qué significado tiene el mate en tu familia o para los argentinos?

Área: Música

Actividades:

San Juan propiamente tiene sus costumbres y tradiciones, entre ellas se destacan el carnaval de chimbas con sus comparsas, la fiesta de la tradición en Jáchal, la fiesta del carrerito en el 25 de Mayo, la fiesta Nacional del Sol, y la cabalga de la Difunta Correa entre otras.

La fiesta del molino viejo de Huaco es ya parte de una tradición y un escenario para homenajear el fallecimiento de Buenaventura Luna.

1) ¿En qué fecha del año se festeja la fiesta del Molino Viejo?

.....

a) ¿Que se festeja el 10 de noviembre en el país y en Jáchal todos los años? Averigua y responde:

.....

b) Ahora observa bien las imágenes y encierra con un círculo de color rojo los instrumentos musicales para la tradición.



Área: Educación física.

Actividades:

1- Observa las figuras y escribe los apoyos que corresponde (tripedia, bipedia o cuadrupedia)



.....



.....



.....

2- Escribe el ejercicio o acción (destreza) que corresponda en las siguientes imágenes.



.....

.....

.....

.....

3- Lea las consignas y rodee con color la acción que corresponda.

- Para conducir una pelota utilizas: **cabeza – rodilla – pie.**
- Al lanzar una pelota usas: **pie – cabeza – mano.**
- Cuando recibes una pelota utilizas: **manos – abdomen – pies.**

Directora: Gricelda Neira