

GUÍA PEDAGÓGICA N° 21 DE RETROALIMENTACIÓN**ESCUELA** LORENZO LUZURIAGA**CUE** 700044600**DOCENTE:** ADRIANA MARIELA LUNA**GRADO:** 1° GRADO DE EDUCACIÓN PRIMARIA**TURNO:** ÚNICO**ÁREAS:** LENGUA -CIENCIAS SOCIALES – MATEMÁTICA – CIENCIAS NATURALES**TÍTULO DE LA PROPUESTA:** “NOS DIVERTIMOS.”**CONTENIDOS:****LENGUA:** LECTURA. COMPRENSIÓN LECTORA. ESCRITURA DE ORACIONES.**CIENCIAS NATURALES** SERES VIVOS PLANTAS: PARTES**CIENCIAS SOCIALES:** RECONOCIMIENTO DE LUGARES SIGNIFICATIVOS. BARRIOS E INSTITUCIONES DEL MISMO.**MATEMÁTICA** NUMERACIÓN: RELACIONES. REGULARIDADES. OPERACIONES. DOBLES**INDICADORES DE VALORACIÓN PARA LA NIVELACIÓN:**


- LEE Y ESCRIBE PALABRAS.
- COMPRENDE TEXTOS BREVES.
- RECONOCE LUGARES SIGNIFICATIVOS DEL BARRIO.
- IDENTIFICA LAS PARTES DE LAS PLANTAS Y LO QUE NECESITAN PARA VIVIR.
- LEE Y ESCRIBE NÚMEROS
- USA LAS OPERACIONES DE ADICIÓN
- CONSTRUYE LOS DOBLES

DESAFÍO ARMA LA MAQUETA RECORTANDO Y PEGANDO SOLAMENTE LOS SERES VIVOS EN EL PAISAJE, LUEGO PINTALO, PEGALO EN UN CARTÓN Y MANDALE UNA FOTO A TU SEÑO. SUERTE.

EL PAISAJE Y LOS DIBUJOS ESTÁN EN LA ÚLTIMA HOJA

ACTIVIDADES:

1-.MIRA EL DIBUJO Y ESCRIBE LO QUE VES



2- CON AYUDA DE MAMÁ LEE EL SIGUIENTE TEXTO, EN VOZ BAJA Y LUEGO EN VOZ ALTA

ESTA ES LA MARIPOSA ROSA.

TODAS LAS TARDES PASEA POR LA PLAZA DE MI BARRIO.

VA DE FLOR EN FLOR HACIENDO SU TRABAJO.

ES MUY HERMOSA, TIENE MUCHOS COLORES.

LE GUSTA VOLAR, Y HACER PIRUETAS EN EL AIRE.

3- RESPONDE SEGÚN EL TEXTO

A- COLOCA UNA X DONDE CORRESPONDA

- LA MARIPOSA SE LLAMA RITA SI..... NO.....

- A ROSA LE GUSTA VOLAR SI..... NO.....

- LA MARIPOSA ES ROJA SI..... NO.....

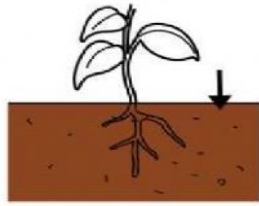
B- LA MARIPOSA PASEA POR

CALLE..... PLAZA..... CIUDAD.....

C- ROSA PASEA TODAS

LAS NOCHES..... LOS DÍAS..... LAS TARDES.....

4- ESCRIBE LO QUE NECESITAN LAS PLANTAS PARA VIVIR



5- ESCRIBE SI O NO SEGÚN CORRESPONDA Y LUEGO COMPLETA



¿NECESITA LUZ DEL SOL PARA VIVIR?.....



¿NECESITA AIRE PARA VIVIR?.....

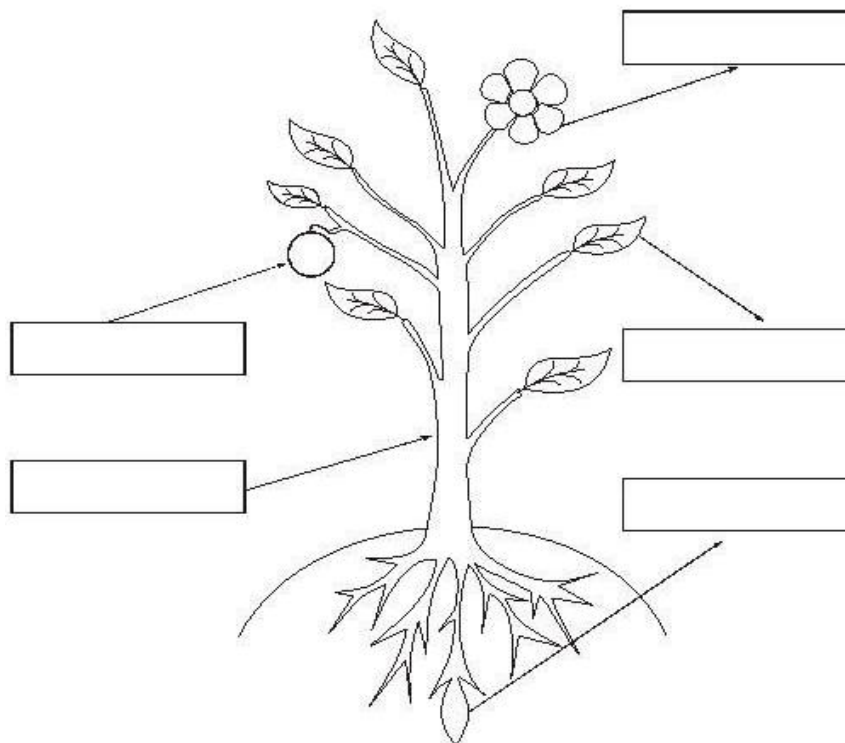


¿NECESITA AIRE PARA VIVIR?.....

LAS..... Y LOS..... SON SERES.....

6- COLOCÁ LOS NOMBRES DONDE CORRESPONDA.

RAÍZ	HOJAS	FLORES	FRUTA	TALLO
-------------	--------------	---------------	--------------	--------------




7- ENCIERRA CON CÍRCULOS LO QUE HAY EN TÚ BARRIO



8- COLOCA EL NÚMERO QUE CORRESPONDE A CADA FOTO

- 1-CEDER EL ASIENTO A UN ANCIANO
- 3-ENSUCIAR EL JARDÍN DE LA VECINA
- 5- CRUZAR LA CALLE CON LUZ VERDE

- 2-ROMPER LOS JUEGOS DE LA PLAZA
- 4-RAYAR LAS PAREDES DEL BARRIO
- 6-ROMPER EL JARDÍN DE LOS VECINOS



- SEÑALA CON UNA X LAS SITUACIONES EN QUE LAS PERSONAS NO ESTAN CUMPLIENDO CON LAS BUENOS HÁBITOS DE CONVIVENCIA EN SU BARRIO.

9- LEE CON AYUDA DE UN INTEGRANTE DE LA FAMILIA Y RESUELVE.

LA MAMÁ DE SILVIA ESTÁ PREPARANDO SU JARDÍN PARA LA PRIMAVERA. FUE AL VIVERO A COMPRAR UNAS LINDAS PLANTAS DE DIFERENTES PRECIOS.

- a)- PINTA CON **ROJO** EL PRECIO MÁS CARO
- Y CON **VERDE** EL MÁS BARATO.




b)- ENTRE LOS LIMONEROS,

EL MÁS CARO ES EL QUE TIENE MÁS FRUTOS.

ANOTA CUÁNTOS LIMONES

HAY EN CADA ÁRBOL Y PINTA EL MÁS CARO.




c)- SILVIA ELIGIÓ PARA SU MAMÁ

LA PLANTA CON MÁS FLORES ENTRE LOS ROSALES

ANOTA CUÁNTAS ROSAS HAY EN CADA PLANTA

Y PINTA LA QUE SE LLEVA SILVIA.



10- NECESITAN 20 CAJONES DE MADERA

ANDRÉS CONSIGUIÓ DEL VERDULERO DEL BARRIO 10 CAJONES

¿CUÁNTOS CAJONES LES VAN A FALTAR?

- RAMIRO TIENE 4 SEMILLAS DE VERDURAS Y FLORENCIA EL DOBLE

¿CUÁNTAS SEMILAS TIENE EN TOTAL?



11- PINTA Y COLOCA EL NÚMERO SÓLO A ESTAS PLANTAS.

- LA QUE ESTA ANTES DEL 7


- LA POSTERIOR A 12



- LA QUE ESTÁ DESPUÉS DEL 18

- TODAS LAS QUE TIENEN EL NÚMERO 7

- LA ANTERIOR A LA 24

- TODAS LAS QUE TIENE EL NÚMERO 8





DIRECTORA: MÓNICA GÓMEZ

DOCENTE: ADRIANA MARIELA LUNA