

ESCUELA: CENS MEDANO DE ORO

DOCENTE: Sonia Gutierrez

Correo Electrónico: soniagutierrezsecundaria@gmail.com

CURSO: 1er Año

Nivel: Educación para adultos

Turno: Vespertino

Espacio Curricular: HISTORIA Y GEOGRAFIA

TITULO: La historia a través del tiempo

Contenidos: ➤ Las primeras civilizaciones: Egipto y Mesopotamia

Capacidades. Comunicación – Aprender a aprender – Resolución de problemas

Actividades:

1. Lee con atención:

LAS PRIMERAS CIVILIZACIONES: MESOPOTAMIA Y EGIPTO

PRIMERAS CIVILIZACIONES: MESOPOTAMIA Y EGIPTO



• **HISTORIA:**

- Termina la Prehistoria y da comienzo la Historia, en concreto la Edad Antigua por:

- La aparición de la **escritura** hacia el 3500 a.C. en Mesopotamia originando:
 - Existencia de documentos escritos.
 - Mejor conocimiento del pasado.
 - La escritura es utilizada para:
 - » Cobro de impuestos.
 - » Leyes.
 - » Enseñanza.
 - » Cálculo.
 - » Literatura.

• **SITUACIÓN GEOGRÁFICA:** en Oriente Próximo o Creciente Fértil.

• **CARACTERÍSTICAS:** las civilizaciones de Mesopotamia y Egipto se caracterizan por ser:

- **Fluviales:** por la existencia de grandes ríos como Éufrates, Tigris y Nilo que inundan los campos propiciando la fertilidad mediante:
 - El uso de técnicas hidráulicas:
 - Control de las crecidas.
 - Obras de canalización.
- **Agrarias:** las aldeas neolíticas por el empleo de la agricultura y la ganadería se transforman en sociedades con excedentes alimentarios y ampliamente desarrolladas.
- **Urbanas:** se desarrollan importantes ciudades por:
 - El aumento de población provoca la aparición de ciudades como Ur, Uruk, Tebas y Menfis.
 - Las ciudades están dominadas por jefes y reyes que controlan comercio, metalurgia y excedentes.

2) Observa los videos que explican el asentamiento de las grandes civilizaciones

- https://www.youtube.com/watch?v=4k3t_y1zOKo
- <https://www.youtube.com/watch?v=4r1fEqxnlbY>

En el siguiente link que podrás encontrar también –y bajar si te conviene para trabajar- un par de libros de texto para Historia y Geografía.

<https://drive.google.com/drive/folders/1YbCl6RRnoerjDnJSyp69PsnhP7kEsLYL>

Lee el texto:

PRIMEROS CENTROS DE CIVILIZACIÓN. CULTURAS FLUVIALES Y MARÍTIMAS

El Cercano Oriente tiene una gran diversidad geográfica; los pueblos que lo habitaron en la Antigüedad se adaptaron a muchos ambientes diferentes. Esta zona no tenía una delimitación muy precisa, ya que sus habitantes mantenían un intercambio cultural y económico fluido con otras áreas cercanas. Por el este, desde Irán, y por el norte, desde Armenia, las ciudades y civilizaciones mesopotámicas se vinculaban con Asia Central. La región del Levante – actualmente los territorios de Israel, Siria, Líbano y Palestina–, relacionada con la Mesopotamia, junto Anatolia, estaban vinculadas con el mar Egeo. El Cercano Oriente en la Antigüedad era una zona de fronteras abiertas con movimientos de pueblos en forma permanente, marcada por la diversidad de paisajes, economías y culturas. En esa zona, se destacan dos valles aluviales: el del río Nilo en Egipto y el de los ríos Tigris y Éufrates, que forman la Mesopotamia asiática. Se ubican las mesetas de Irán al este, de Anatolia al norte y de Arabia al sur de la Mesopotamia. Los desiertos abundan en esta región, como los de Libia, Siria y Arabia, y entre las zonas montañosas se encuentran los montes Zagros, los de Armenia, los Tauro y las cordilleras del Líbano. Esta variedad de paisajes fomentó la diversificación de las producciones y el intercambio de productos desde un área hacia la otra. Lo que tradicionalmente conocemos como la Medialuna del Creciente Fértil es la zona que integran Egipto, Mesopotamia, Palestina y Siria y que limita al sur con el desierto arábigo, al norte con Anatolia y Armenia y el este con la meseta de Irán. Los ríos Nilo en Egipto y Tigris y Éufrates en la Mesopotamia permitieron el desarrollo de la agricultura aluvional, es decir, favorecida por los sedimentos que depositan las aguas de los ríos. En estos valles se iniciaron las primeras civilizaciones cerca del 3000 a.C.

EL ESPACIO Y EL AMBIENTE GEOGRAFICO





El término “Mesopotamia” proviene del griego: meso (medio) y potamós (río); por lo que designa a una región entre ríos. La Mesopotamia asiática es la región comprendida entre los ríos Tigris y Éufrates; estos ríos tienen su origen en los montes de Armenia y desembocan en el golfo Pérsico, a través del estrecho de Shatt al Arab. Hacia el este se elevan los montes Zagros, que la separan de la meseta de Irán, y hacia el sudoeste se extiende el desierto sirio-arábigo. La máxima crecida de los ríos se produce con los deshielos de primavera, entre abril y junio. En ocasiones, las crecidas provocaban repentinas inundaciones, esto implicaba que luego había que reconstruir totalmente los sistemas de canales de regadío. Además, muchas veces el curso de los ríos cambiaba y estas construcciones ya no servían, razón por la cual fueron abandonados muchos asentamientos que terminaron quedando lejos de sus costas. El caudal más bajo de estos ríos se da entre los meses de septiembre y octubre; en ese período se realizaban los trabajos de reparación y construcción de los sistemas de riego. En la antigüedad, la línea costera del golfo Pérsico se encontraba más al sur que en la actualidad, debido a que los ríos Tigris y Éufrates depositaban la mayor parte de sus sedimentos antes de llegar al mar. Esta dinámica de los ríos generaba muchos problemas para los primitivos asentamientos del lugar, ya que los sembradíos y los poblados quedaban bajo el lodo; por ello, los pobladores fueron cambiándose de lugar y también desarrollaron técnicas diversas para aprovechar el territorio que ocupaban. En estos ambientes fue esencial el manejo del agua que realizaban sus pobladores. Para el desarrollo de la agricultura, además del uso de las tierras cercanas a los ríos, convirtieron en fértiles otras áreas más lejanas, mediante la construcción de sistemas de riego o de drenaje. Este conjunto de conocimientos y técnicas fue perfeccionándose a través del tiempo. Al sur de la Mesopotamia se localizan los pantanos de Irak; en esta zona había cañas y juncos que se usaban para la construcción de techos de viviendas y para la fabricación de cestería. Además, de allí se obtenían animales como peces, aves y cerdos salvajes. También habitaban allí ovejas, cabras y asnos, que luego serían domesticados. Además, algunos pantanos y humedales fueron drenados y utilizados como áreas de cultivo. En esta zona crece la palmera datilera, útil por sus frutos y también por sus troncos y hojas, que eran utilizados para la construcción de las viviendas. Esta planta crecía naturalmente a orillas de los ríos porque necesita gran cantidad de agua; luego comenzó a cultivarse en otras áreas –con sistemas de riego–, ya que era muy útil porque protegía del viento, las tormentas de arena y el calor a otros cultivos, como las hortalizas. También el trigo y la cebada eran cereales que en principio crecían de forma salvaje, pero luego fueron mejorando las técnicas que permitieron aumentar su producción y se convirtieron en la base de la alimentación y el intercambio. Las inundaciones y el exceso de riego ocasionaron la salinización de los suelos, por la rápida evaporación del

agua, y eso provocó una notable disminución de las cosechas en la zona sur, donde –por ser más árida– se construyeron canales de riego que fueron usados intensivamente.

3. Responde:

a) ¿Qué condiciones ambientales favorecieron la vida de los antiguos pobladores de la Mesopotamia? b) ¿Qué factores fueron perjudiciales? c) ¿Por qué se denomina al territorio comprendido en los ríos Tigris y Éufrates Mesopotamia? d) ¿Con qué recursos locales se resolvieron, en el Cercano Oriente, las necesidades de comunicación, vivienda, calefacción y alimentación? e) ¿Qué es la Media Luna del Creciente Fértil? f) ¿Qué es la “agricultura aluvional”?



LEYENDA	
	Civilización egipcia
	Civilización mesopotámica
	Civilización india
	Civilización china

La historia de la Mesopotamia asiática se caracteriza por los cambios políticos y las luchas entre los pueblos por la hegemonía. Los primeros habitantes de la Mesopotamia fueron los Sumeros, quienes habitaron en las ciudades localizadas en la desembocadura de los ríos Tigris y Éufrates, en la Baja Mesopotamia. A mediados del tercer milenio, los Acadios unificaron la región desde Akkad, ubicada en el punto de mayor proximidad entre los ríos, en el centro de la Mesopotamia. Unos kilómetros al sur se encuentra Babilonia sobre el Éufrates, desde donde los Amorreos conquistaron Mesopotamia a principios del segundo milenio, y los Caldeos en el primer milenio

establecieron el Imperio Neobabilónico. En el norte, la Alta Mesopotamia se componía de dos zonas: 1) al sur, donde los Asirios se asentaron en torno de la ciudad de Assur, que debió su importancia a su posición fluvial; 2) al norte, los Hurritas o Subarteos se asentaron en un triángulo fértil con suficientes lluvias y tierras de cultivo.

4) Realiza un esquema en donde se represente de acuerdo a la cronología los pueblos y espacios de ocupación.

CIUDADES - ESTADO

PERÍODOS HISTÓRICOS DE MESOPOTAMIA ETAPAS ETAPA SUMERIO-ACADIA 4.000-2.000 a.C.

CARACTERÍSTICAS

Los sumerios desarrollaron la primera civilización histórica. Se establecieron pequeños reinos en torno a ciudades, gobernadas por "patesis" (monarcas). Las principales ciudades sumerias fueron: Ur, Uruk, Lagash y Nippur. Desecaron pantanos, abrieron canales para riego, inventaron el calendario, establecieron la escritura cuneiforme e inventaron la rueda. Hacia el año 2.400 a.C., los acadios invaden Sumeria, fundando ciudades como Akkad y Babilonia. Sometieron a los sumerios y adoptaron su cultura.

PRIMER IMPERIO BABILÓNICO 2.000-1.595 a.C.

Bajo el reinado de Hammurabi, Babilonia se convirtió en foco cultural. Hammurabi creó un imperio y se destacó por ser el primer legislador, estableciendo el código de Hammurabi, primer documento legal del mundo, el cual unificó las leyes de su imperio.

IMPERIO ASIRIO 1.360-612 a.C.

Pueblo belicoso del norte de Mesopotamia, que impuso su dominio en toda la región. Tenían un poderoso ejército basado en arqueros, carros de combate, máquinas de asedio y armas de hierro. Entre sus principales gobernantes se destacaron Sargón II, Senaquerib y Asurbanipal. Establecieron su capital en Nínive y desde allí ejercieron un cruel dominio sobre Mesopotamia y el Medio Oriente, lo que generó la rebelión de babilonios, medos y persas, quienes destruyeron a los asirios.

IMPERIO NEOBABILÓNICO 612-538 a.C.

Babilonia volvió a ser el centro financiero y artístico del Medio Oriente bajo el reinado de

6) Localiza en el mapa las principales ciudades sumerias El Templo y el Palacio

7). Menciona las causas del surgimiento de las ciudades sumerias.

8) Extrae los factores que favorecieron la concentración del poder en una sola persona en las ciudades-Estado.

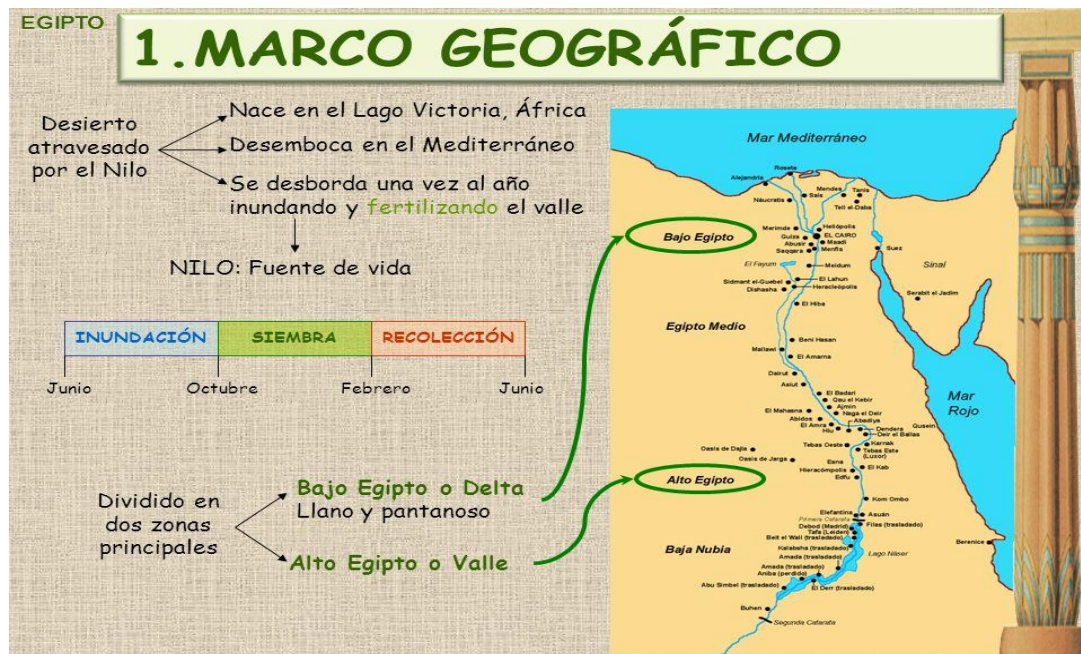
9) Los edificios de las ciudades simbolizan distintos tipos de poder. ¿Cuáles eran los más importantes en Sumeria y qué función tenían?

10) Consulta y responde: ¿qué papel cumplían los Templos y Palacios en las civilizaciones mesopotámicas? ¿Quiénes le administraban?

Menciona los principales Templos y divinidades asignadas a ellos.

11) Responde: a) ¿Qué tipos de escrituras podemos encontrar en el espacio mesopotámico? Menciona sus principales características) ¿Qué avances científicos podemos mencionar en cuanto a la medición del tiempo y al cálculo) ¿Qué es el Mazdeísmo?

EGIPTO



12) Responde: a) ¿Cómo llamaban al desierto y a su país? ¿por qué? b) ¿Qué es el limo? ¿qué papel juega en la agricultura? c) ¿Cómo era el sistema de regadío egipcio? ¿Por qué? d) Indica si la siguiente oración es verdadera (V) o falsa “La agricultura de Egipto se denomina de oasis”? Justifica tu respuesta e) ¿Por qué era necesario que los egipcios conocieran el régimen del río Nilo para realizar sus actividades

agrícolas? ¿f) En dónde se localizan el Alto y Bajo Egipto? ¿Qué características tenía cada uno?

g) ¿Qué condiciones naturales favorecieron la unidad política de Egipto en la Antigüedad?

h) El nacimiento del río Nilo, ¿está al norte o al sur de la región?; b. ¿Qué ciudad está en la desembocadura del Nilo?; c. ¿Qué ciudad capital se ubicaba en la ribera derecha del río

13) Investiga cual es la organización política, que religión tenían y su economía, puedes realizar un esquema o un resumen de la investigación.

Director : Carlo Tricoli

DOCENTE RESPONSABLE: SONIA GUTIERREZ