



**ESCUELA:** UEPA N° 9

**PRIMER CICLO**

**ÁREAS CURRICULAR:** ÁREAS INTEGRADAS.

**ESCUELA:** UEPA N° 9

**DOCENTE:** LIC. MARGARITA CASTRO

**TURNO:** NOCHE

**ÁREA CURRICULAR:** LENGUA Y MATEMÁTICA – ALFABETIZACIÓN

**TÍTULO DE LA PROPUESTA:** “LA UNIÓN HACE LA FUERZA”.

**GUÍA PEDAGÓGICA N° 5**

**CONTENIDOS:**

**LENGUA**

- LAS VOCALES
- UNIDADES BÁSICAS DE ESCRITURA, LECTURA DE PALABRAS.

**MATEMÁTICA**

- NÚMERO NATURAL, CARDINAL Y ORDINAL HASTA EL 10.
- FIGURAS GEOMETRICAS.

**CAPACIDADES:**

- **COMUNICACIÓN:**

DESCRIBIR, DE MANERA ORAL Y ESCRITA, SITUACIONES Y OBJETOS.

- **PENSAMIENTO CRÍTICO:**

COMPRENDER LA INFORMACIÓN ORAL Y ESCRITA EXPRESADA EN DISTINTOS SOPORTES.

- **RESOLUCION DE PROBLEMAS:**

**ESCUELA:** UEPA N° 9

**PRIMER CICLO**

**ÁREAS CURRICULAR:** ÁREAS INTEGRADAS.



DESCRIBIR COMPARAR, ANALIZAR Y RESOLVER PROBLEMAS MEDIANTE DIFERENTES HABILIDADES Y DESTREZAS.

**OBJETIVOS:**

- RECONOCER LAS VOCALES.
- DIFERENCIAR LOS NÚMEROS.
- IDENTIFICAR LAS FIGURAS GEOMÉTRICAS.

**LENGUA:**

**PINTA** LOS GLOBOS COMO SE INDICA


A = AZUL

E = VERDE

I = ROJO

O = NARANJA

U = MORADO



**UNE** CADA OBJETO CON LA VOCAL CON QUE COMIENZA.



A

E

I

O


U




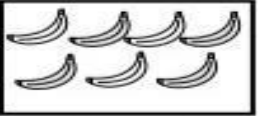



**MATEMÁTICA:**

1) Escribo el número para cada conjunto.

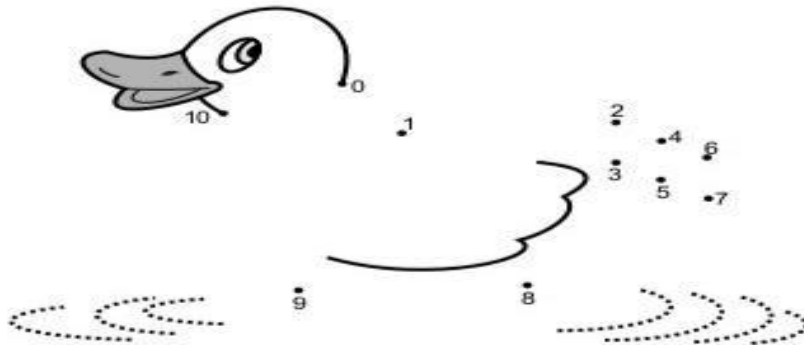
a) 

b) 


c) 


d) 


2) Uno los puntos contando de 0 a 10.



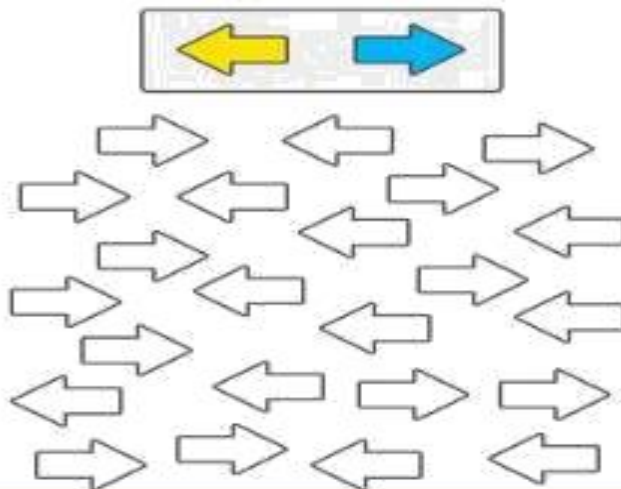
3) Encierro la cantidad o el número mayor.

a) 

b) 

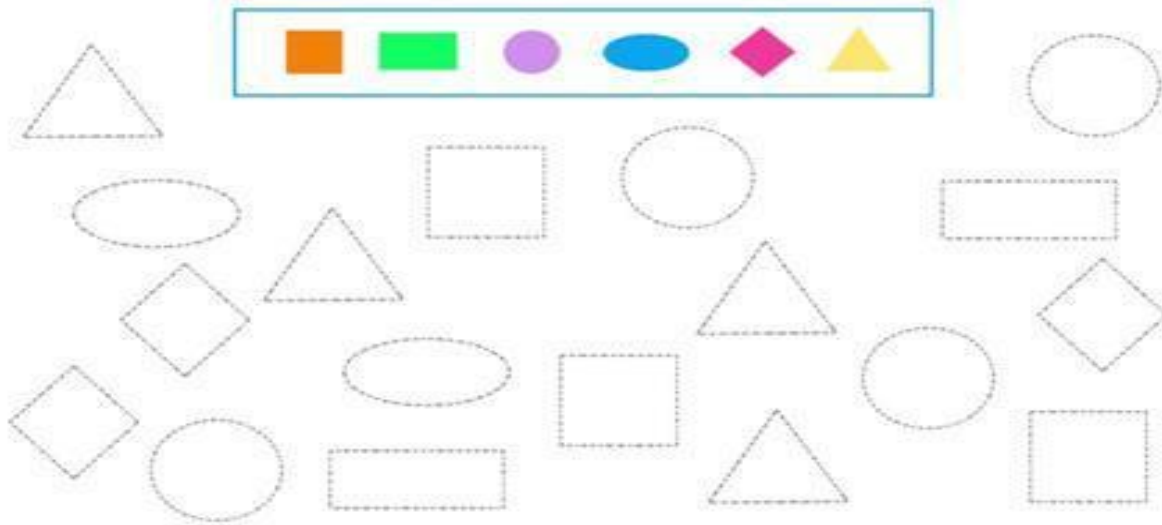
c) 

**COLOREA** LAS FLECHAS SEGÚN SU DIRECCIÓN





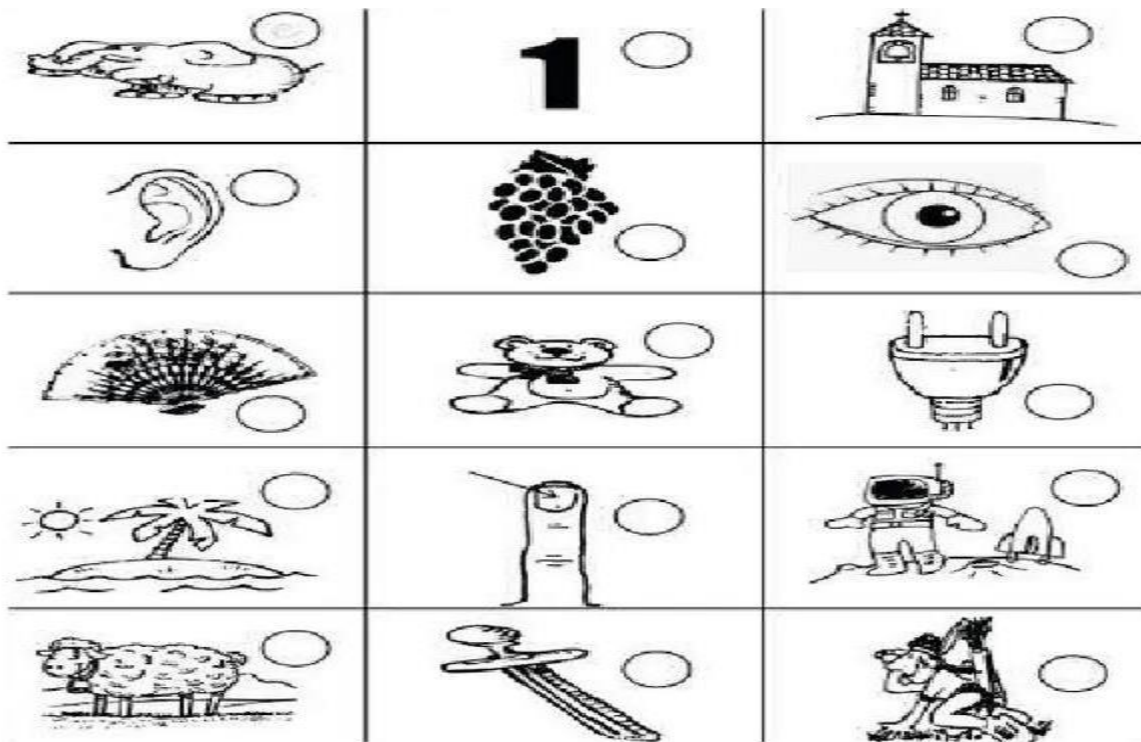
**COLOREA LA FIGURA SEGÚN CORRESPONDA**



**LENGUA:**

**LAS VOCALES**

**ESCRIBE** LAS VOCALES CON LAS QUE EMPIEZAN LOS NOMBRES DE ESTOS DIBUJOS



ESCUELA: UEPA N° 9

PRIMER CICLO

ÁREAS CURRICULAR: ÁREAS INTEGRADAS.



COMPLETA CON LAS VOCALES QUE FALTA EN CADA IMAGEN



M \_ R \_ P \_ S \_




G \_ S \_ N \_



M \_ N Z \_ N \_



P \_ C \_ R \_



\_ L \_ F \_ N T \_



M \_ M \_ D \_ R \_



\_ R \_ Ñ \_



L \_ P \_ Z \_



B \_ L L \_ N \_



L \_ M \_ N \_



C \_ R \_ C \_ L \_



\_ B \_ J \_



G \_ T \_



FR \_ T \_ LL \_



P \_ L \_ T \_

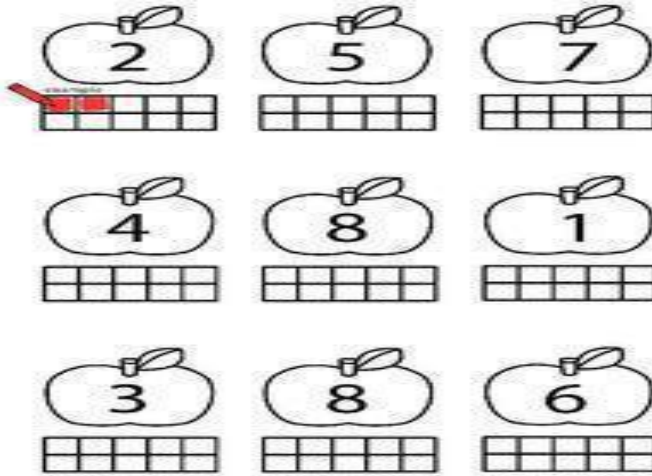


T \_ N \_ D \_ R \_



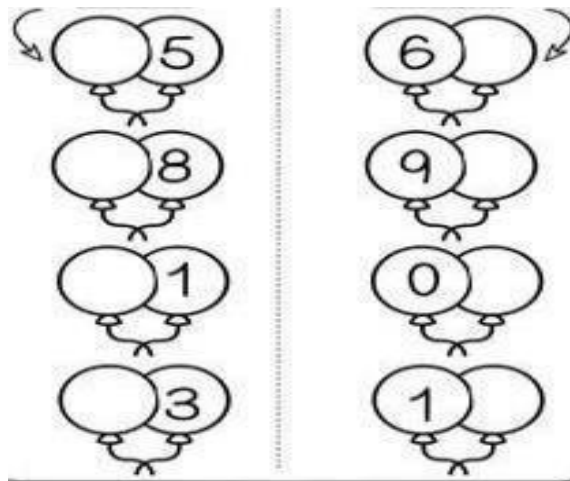
**MATEMÁTICA**

**OBSERVA** EL NÚMERO EN LA MANZANA Y **COLOREA** LOS CUADRO



**GLOBOS NÚMERADOS**

**ESCRIBE** LOS NÚMEROS QUE ESTAN ANTES Y LOS QUE ESTAN DESPUÉS



DIRECTOR: LIC. FABIAN PEREZ

**Docente Responsable: Lic. Margarita Castro**