

Escuela Esteban Echeverría- 5to grado, Nivel Primario- Retroalimentación

GUÍA PEDAGÓGICA N° 22 DE RETROALIMENTACIÓN- GRUPO 3

Escuela: Esteban Echeverría

CUE 700031300

Docente: Emma Reynoso/ Alumna Residente ISPE Micaela Soria.

Grado: 5to

Segundo Ciclo

Nivel Primario.

Turno: Mañana.

Título de la propuesta: Creando, creando voy demostrando.

Áreas: Lengua, Matemática, Ciencias Sociales, Ciencias Naturales, Formación Ética y Ciudadana, Educación Plástica, Educación Física.

Contenidos- Matemática: Ángulos. Medida de ángulos suma y resta de ángulos en grados. Clasificación de triángulos según sus lados y sus ángulos. Lengua: Casos especiales de acentuación. Tildación de pronombres interrogativos y exclamativos. Biografía. Ciencias Sociales: Efemérides día de la tradición. Ciencias Naturales: Las mezclas y las soluciones. Diferencias entre mezclas en cuanto a las características visibles a simple vista. Componente de una solución. Solvente y soluto. Formación Ética: La cultura.

Indicadores:

-Matemática: Establece relaciones entre ángulos y lados de triángulos. Detecta ángulos faltantes de un triángulo mediante las operaciones de suma y resta.

-Lengua: Analiza tildación y símbolos que acompañan a los pronombres interrogativos y exclamativos. Relaciona el género de la biografía como un subgénero del texto narrativo o expositivo.

-Ciencias Sociales: Comprende las diversidades de formas de vida, observando y apreciando sus diferencias. Vincula tradiciones con las experiencias propias y de las demás personas.

-Ciencias Naturales: Percibe las diferencias entre mezcla y soluciones de manera creativa. Distingue componentes de una solución.

-Formación Ética y Ciudadana: Averigua la diversidad de culturas indagando.

-Educación Plástica: Establece la diferencia entre figura y fondo. -Observa las texturas y elige elementos que le permitan representarlas.

-Educación Física: Produce respuestas con ajuste perceptivos-motriz a las situaciones problemáticas presentadas, según sus propias capacidades.

Desafío: Producir una infografía con las costumbres y tradiciones de nuestro país para reconocer nuestra cultura.

Actividades:

Día N°1

Ciencias Sociales-Formación Ética y Ciudadana.

Prof. Emma Reynoso

Escuela Esteban Echeverría- 5to grado, Nivel Primario- Retroalimentación

-En la guía anterior junto a Paula estuviste investigando y aprendiendo sobre los seres vivos y nuestro cuerpo. Te invito a seguir demostrando lo aprendido.

-Observa, lee y responde:

Paula y su hermanito ven la tele, Paula observa personas que bailan y están vestidos de forma diferentes a la que conoce ella y le pregunta a su mamá:



-¡Mamá! ¿Por qué esos bailarines están vestidos así?

-Porque es según la tradición que tienen esas personas, o ese pueblo hija.

-¿Y qué es la tradición mamá?

La tradición es el reconocimiento del personajes más representativos del ser nacional, José Hernández. La tradición es el conjunto de costumbres, creencias y culturas de un pueblo.

-Recuerda: La cultura es el conjunto de conocimientos, ideas, tradiciones y costumbres que adquieren y que caracterizan a un persona, a un pueblo, a una clase social, etc. Por ejemplo: la forma de vestir, su religión, los diferentes tipos de comidas, entre otros.

-Piensa, responde y envía una foto de esta tarea a la señorita.

En tu familia ¿Qué costumbres tienen hasta el día de hoy?

Por ejemplo: La vestimenta que uso tu abuela en su época ¿Es la misma que usas vos ahora?

¿Qué tipos de comidas piensas que son tradicionales? Pinta la opción correcta.

Los panchos o las empanadas.

El asado o el lomo.

La gaseosa o el mate.

Las sopaipillas o las galletas.

¿Comes algunas de ellas? ¿Cuáles?

-Nos preparamos para realizar nuestra infografía.

¿Sabes qué es una infografía?

Una infografía es un texto discontinuo que combina palabras e imágenes con el propósito de presentar información de una manera clara, directa y fácil de entender.

Día N° 2

Matemática-Ciencias Sociales- Educación Plástica.

-Hoy es el cumple del hermanito de Paula y ellos quieren ayudar a su mamá con los preparativos, entonces cada uno realiza gallardetes de diferentes formas.

-Observa las siguientes imágenes, piensa y responde:

Escuela Esteban Echeverría- 5to grado, Nivel Primario- Retroalimentación

Hermanito

Paula

Mamá



¿Qué ángulos utilizó el hermano para hacer las figuras de sus gallardetes?

Ángulo Llano, Ángulo Agudo o Ángulo Obtuso.

-¿Y Paula qué ángulo habrá usado? ¿Y su mamá? Observa los gallardetes.

-¿Qué diferencias tienen entre ellos? Observa los ángulos marcados en los gallardetes.


-¿Qué figura geométrica utiliza el hermano de Paula?

Ayudamos a nuestra memoria, para luego realizar las tareas.


Recuerda que los triángulos tienen una clasificación según sus lados y sus ángulos.


-Escribe la palabra que falta a través de estas pistas:


El triángulo Isósceles, es el que tiene 2 lados _____.

El triángulo  _____, es el que tiene sus **tres** lados **iguales**.

El triángulo Escaleno, es el que tiene sus **tres**  lados _____.

El triángulo Acutángulo, es el que tiene sus **tres** ángulos  _____.

El triángulo  _____, es el que tiene **un** ángulo **obtuso**.

Triángulo Rectángulo, es que tienen **un**  ángulo _____.

-Luego de observar los gallardetes que realizaron, imagina:

-¿Cuántos triángulos podrías dibujar en el interior del gallardete que realizó la mamá?

Uno, tres o cinco.

-Luego de terminar con la ornamentación, siguen con la comida y la mamá prepara unas ricas empanadas, ensalada de lechuga y tomate para acompañar el asado que está realizando su papá y jugo de naranja.

-¡Importante!

Escuela Esteban Echeverría- 5to grado, Nivel Primario- Retroalimentación



Analiza la siguiente mezcla, coloca cuál es el soluto y cuál es el solvente utilizado:

En el día 1 en el diálogo que tuvo Paula con su mamá hay oraciones resaltadas ¿Qué símbolos las encierran a esas oraciones? ¿Sabes cómo se llaman? ¿Por qué?

Los signos **interrogativos** _____ y los signos _____ ¡! la mayoría de las veces van acompañados de **pronombres** como: qué, cuál/cuáles, quién/quienes, cuánto/os, cuánta/as, cómo, dónde y cuándo, llevan tilde siempre y cuándo formen parte de la oración

-Completa el siguiente diálogo con los signos que faltan:

__Hola__ Federico __Cómo estas__
__Hola__ Bien, __Dónde vas Guadalupe__
Voy a jugar con Cecilia, __Quieres ir__
Si vamos.

-Luego de observar la imagen de la tele en el día 1 y de responder las preguntas, piensa:
¿Qué imágenes podríamos utilizar para captar la atención, a la hora de realizar nuestra infografía?

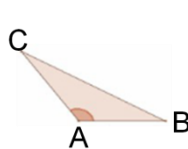
¡Recuerda enviar una foto de estas tareas a la señorita!

Día 4

Matemática- Ciencias Naturales.

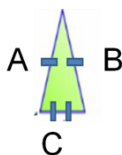
-Recuerda que la suma de los ángulos interiores de un triángulo suman 180° .

- Marca con una cruz la opción correcta. Suma o resta para saber cuál es:



Si A mide 115° y C mide 42° ¿Cuánto mide el ángulo B?

23° _____ 180° _____



¿Si C mide 80° y es un triángulo isósceles cuanto medirán los otros dos ángulos? ¿Por qué?

20° _____ 50° _____

-Te invito a realizar experiencias de mezclas o soluciones, con sustancias de las que vos quieras y tengas a tu alcance. Luego realiza un cuadro comparativo de cómo te quedaron esas mezclas. Envía una foto a la Señorita. Espero que te diviertas mezclando.

Por ejemplo:

Prof. Emma Reynoso

Escuela Esteban Echeverría- 5to grado, Nivel Primario- Retroalimentación

Mezclas	Solución Homogénea.	Solución Heterogénea.
Arroz con salchichas.		
Agua con témpera.		
Piedras, hojas y pedacitos de maderas.		

-¡A buscar!: Materiales a tener en cuenta para nuestra infografía: lámina, título, textos sencillos colección de imágenes, útiles escolares (marcadores, regla, entre otros).

Día N°5

Lengua-Educación Física.

-Responde V o F teniendo en cuenta el diálogo que tuvo Paula con su mamá el día 1.

La tradición es el reconocimiento a la identidad Argentina ____.

El personaje más representativo del ser nacional, es José Hernández ____.

La tradición es el conjunto de costumbres, creencias y culturas de un pueblo, que se transmite de una generación a otra ____.

El personaje más representativo, nació el 10 de noviembre de 1834 en la provincia de Buenos Aires _____. Fallece el 21 de octubre de 1886 en su provincia_____.

¡Recuerda enviar una foto de esta tarea a la señorita!



-Observa la siguiente infografía de Matemática:

-Ahora como ya sabes qué es una infografía y sus partes, realiza una con las costumbres y tradiciones de nuestro país para reconocer nuestra cultura. **No te olvides de mandarle una foto de esta actividad a la seño. ¡MUCHAS SUERTE!**

Educación Física/ Alfredo Núñez. -Handball.

Entrada en calor antes de realizar actividad física: trotando, bailando, saltando una soga, etc. y estira los músculos del cuerpo después de realizar ejercicio físico.



Pase y recepción handball:

Con pase sobre hombro: INDIVIDUAL, realizar autopases contra una pared, lanza contra la pared, pica en el piso una vez y la tomo para volver a lanzar) con mano derecha, con izquierda, aumentado y disminuye la distancia. Repetir sin dejar que la pelota pique en el piso.

-Envía fotos al profesor, cuando realices las actividades propuestas.

Directora: Prof. Viviana Rodriguez.