

**GUÍA PEDAGÓGICA N° 20 DE RETROALIMENTACIÓN GRUPO N° 2**

ESCUELA: HORACIO MANN.

CUE.: 7000103-00

DOCENTE: SANDRA ALICIA PLATERO.

GRADO: **1° PRIMERO**

TURNO: MAÑANA.






ÁREAS: MATEMÁTICA. CIENCIAS SOCIALES.

TÍTULO DE LA PROPUESTA: LUGARES DIFERENTES PERO IGUALES.

CONTENIDOS: NUMERACIÓN. OPERACIONES. EL CAMPO Y LA CIUDAD.

DESAFÍO: **ARMAR UN ÁLBUM ILUSTRATIVO CON IMÁGENES DEL CAMPO  
Y LA CIUDAD PARA COMPARTIR POR WHATSAPP.**

INDICADORES DE EVALUACIÓN PARA LA NIVELACIÓN:

-  OBSERVAR Y ESCUCHAR ATENTAMENTE EL VIDEO EDUCATIVO.
-  RECONOCER LAS DIFERENCIAS QUE HAY ENTRE EL CAMPO Y LA CIUDAD.
-  IDENTIFICAR IMÁGENES DE ZONA RURAL Y ZONA URBANA
-  IDENTIFICAR REGULARIDADES EN LA SERIE NUMÉRICA PARA COMPARAR NÚMEROS DE UNA Y DOS CIFRAS.
-  RESOLVER OPERACIONES.

ACTIVIDADES.

MIS BELLOS NIÑOS ESTAMOS A MUY POQUITO DE LLEGAR AL FINAL DEL RECORRIDO DE ESTE AÑO. POR ESO TE PIDO EL ÚLTIMO ESFUERZO PARA QUE REALICES ESTA GUÍA.

JUNTO A MAMÁ, AL PAPÁ O QUIÉN TE AYUDE EN LAS TAREAS TE INVITO A LEER LOS CRITERIOS QUE DEBERÁS TENER ENCUESTA A LA HORA DE TRABAJAR.

CRITERIOS	SI	NO
OBSERVO Y ESCUCHO ATENTAMENTE EL VIDEO EDUCATIVO.		
RECONOZCO LAS DIFERENCIAS QUE HAY ENTRE EL CAMPO Y LA CIUDAD.		
IDENTIFICAR IMÁGENES DE ZONA RURAL Y ZONA URBANA.		
IDENTIFICO REGULARIDADES EN LA SERIE NUMÉRICA PARA COMPRAR NÚMEROS DE UNA Y DOS CIFRAS.		
RESUELVO OPERACIONES.		

AHORA LEE Y ANALIZA JUNTO A MAMÁ EL DESAFÍO QUE DEBES CUMPLIR AL FINAL DE LA GUÍA.

**DESAFÍO:** **ARMAR UN ÁLBUM ILUSTRATIVO CON IMÁGENES DEL CAMPO Y LA CIUDAD PARA COMPARTIR POR WHATSAPP.**

OBSERVA Y ESCUCHA EL VIDEO “EL CAMPO Y LA CIUDAD”


<https://youtu.be/DV6rd9gDmVk>

¿CUÁL ES EL TEMA QUE TRATA EL VIDEO?


OBSERVA LAS IMÁGENES Y ESCRIBE EN CADA CASO:


# CIUDAD


# CAMPO



















LEE JUNTO A MAMÁ EL SIGUIENTE TEXTO.

**LAS PERSONAS VIVIMOS EN LUGARES DIFERENTES. ALGUNOS HABITAN EN ZONAS URBANAS Y OTRAS EN ZONA RURALES. SON ESPACIOS DISTINTOS. LOS TRABAJOS, LAS CASAS Y LA MANERA DE VIVIR SON DIFERENTES.**

**PERO TAMBIÉN HAY MUCHAS COSAS EN COMÚN: EN AMBOS LUGARES HAY ESCUELAS, SE USA LA TELEVISIÓN Y LA RADIO PARA INFORMARSE, LA GENTE VIAJA EN DISTINTOS VEHÍCULOS HASTA SUS LUGARES DE TRABAJO Y UTILIZAN EL TELÉFONO PARA COMUNICARSE.**

**ENTRE LAS ZOAS URBANAS Y LAS ZONAS RURALES SE PRODUCEN MUCHOS INTERCAMBIOS. LA GENTE QUE VIVE EN LA CIUDAD NECESITA DE LOS ALIMNETOS QUE SE PRODUCEN EN EL CAMPO: LECHE, CARNE, HUEVOS, HARINA Y LOS HABITANTES DEL CAMPO NECESITAN PRODUCTOS QUE SE FABRICAN EN LA CIUDAD: HERRAMIENTAS, ROPA, VEHÍCULOS. TODOS NECESITAMOS LO QUE SE PRODUCE EN CADA ESPACIO.**

¿CÓMO SE LLAMA EL LUGAR DONDE VIVES?

¿QUÉ VES EN EL CAMINO DE LA CASA A LA ESCUELA?


¿EN QUÉ TRABAJA EL PAPÁ?

UNE CADA TRABAJADOR CON SU LUGAR.









MATEMÁTICA.

MI PEQUEÑO TE DESAFÍO A QUE ARMES ESTA IMAGEN SOLO DEBES TENER EN CUENTA LA NUMERACIÓN.



CON LA LLEGADA DE UN GRAN VIENTO SE MEZCLARON LAS SIGUIENTES IMÁGENES Y NECESITAMOS QUE REALICES ESTAS CUENTITAS PARA PODER ARMAR LA IMAGEN NUEVAMENTE. SON FÁCILES PUEDES AYUDARTE CON MATERIAL CONCRETO.

		20	15
		18	10
		9	11

A)  $3 + 3 + 3 =$

D)  $3 + 4 + 4 + 4 =$

B)  $10 + 4 + 4 =$

E)  $10 + 5 + 5 =$

C)  $5 + 6 =$

F)  $2 + 2 + 2 + 2 + 2 =$

¿QUÉ DESCUBRISTE? \_\_\_\_\_

YA ESTAS LISTO PARA COMENZAR A ARMAR TU ALBUM ILUSTRATIVO DEL CAMPO Y LA CIUDAD.



ESCUELA HORACIO MANN -1 ero grado primaria-Guía 20\_Retroalimentación.



Y COMO CIERRE FINAL DE TU BELLO ÁLBUM ARMA ESTA IMAGEN



SI LLEGASTE HASTA ESTA PARTE DE LA GUIA TE FELICITO TU TAREA ESTÁ CUMPLIDA. NO TE OLVIDES DE COMPLETAR LA LISTA DE COTEJO.

DIRECTORA: LILIANA DEL VALLE RUIZ.

**FIN !!!**

