



CONTENIDO CONCEPTUAL: EJE NUMEROS Y OPERACIONES: SISTEMA DE NUMERACION Y VALOR POSICIONAL DE LOS NUMEROS

¡AVENTURA DE NÚMEROS!

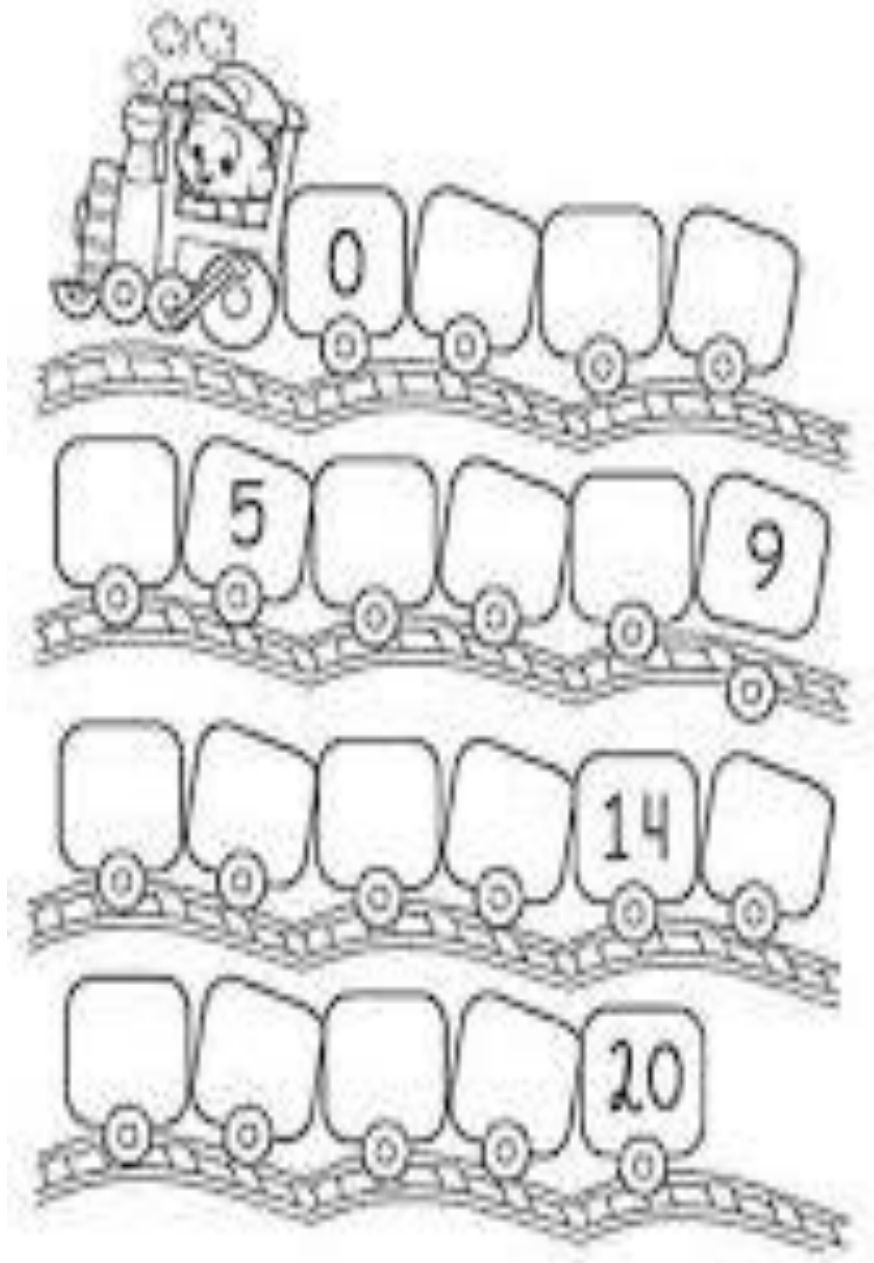
1. Escribe los números que faltan para completar la secuencia numérica:



2) COMPLETA CON LA CANTIDAD SEGÚN CORRESPONDA



3) COMPLETA LA SERIE NUMÉRICA



E.E.E. CRUCERO A.R.A. GRAL. BELGRANO

SECCION: 2do. Grado primer ciclo de nivel primario

TURNO: TARDE

AREA: MATEMÀTICA

4) ESCRIBE EL NUMERO QUE ESTA ANTES Y EL QUE ESTA DESPUES DE...

	7			3			8			5	
--	---	--	--	---	--	--	---	--	--	---	--

	11			2			6			4	
--	----	--	--	---	--	--	---	--	--	---	--

	9			14			10			16	
--	---	--	--	----	--	--	----	--	--	----	--