

ESCUELA: JUANA DE IBARBOUROU

JORNADA COMPLETA

GRADO: 3° C.U.E.7000235-00

16/11 AL 20/11/2020

GUÍA Nº 23 – RETROALIMENTACIÓN- GRUPO 2

EDUCACIÓN PRIMARIA

CONTENIDOS POR ÁREA.

MATEMÁTICA: NÚMEROS NATURALES: LECTURA, ESCRITURA. COMPARACIÓN. RELACIONES MAYOR QUE, MENOR QUE.

SITUACIONES PROBLEMÁTICAS SENCILLAS. OPERACIONES CON NÚMEROS NATURALES.

FRACCIONES MENORES QUE EL ENTERO.

CUERPOS GEOMÉTRICOS. ELEMENTOS.

CIENCIAS SOCIALES: CLASES DE MEDIOS DE TRANSPORTES (DEL CAMPO Y DE LA CIUDAD). TRABAJO RURAL Y URBANO.

EDUCACIÓN FÍSICA: DEPORTES DE CONJUNTO.

TECNOLOGÍA: MATERIALES. HERRAMIENTAS.

INDICADORES DE VALIDACIÓN PARA LA NIVELACIÓN

LEE Y ESCRIBE NÚMEROS NATURALES MAYORES QUE 1000.

COMPARA Y ORDENA NÚMEROS NATURALES HASTA 9000.

ENCUENTRA SOLUCIONES A SITUACIONES SENCILLAS APLICANDO OPERACIONES BÁSICAS.

OPERA CON NÚMEROS NATURALES.

GRAFICA FRACCIONES MENORES QUE EL ENTERO.

DIFERENCIA CUERPOS GEOMÉTRICOS SEGÚN CARAS Y ARISTAS.

IDENTIFICA DISTINTOS MEDIOS DE TRANSPORTE DE ÁMBITO RURAL Y URBANO.

IDENTIFICA TRABAJOS RURALES Y URBANOS.

RECONOCE REGLAS PROPIAS DE DEPORTES DE CONJUNTO.

DIFERENCIA MATERIALES SEGÚN LOS OBJETOS.

IDENTIFICA HERRAMIENTAS Y ELEMENTOS DE ÁMBITO RURAL Y URBANO.

DESAFÍO: REALIZACIÓN DE UN DIBUJO EN PARALELO DIFERENCIANDO ELEMENTOS, HERRAMIENTAS, TRANSPORTES, MATERIALES PROPIOS DE ÁMBITO RURAL Y URBANO, PARA COMPARTIR CON LOS DOCENTES MEDIANTE UNA FOTO.

ACTIVIDADES DE MATEMÁTICA.

A-COMPARA LOS NÚMEROS Y ORDENA ``DE MENOR A MAYOR``.

797 - 3.082 - 5.901 - 1.977 - 3.820 -

--	--	--	--	--

B- ESCRIBE EL NOMBRE.

8.017:

9.604:

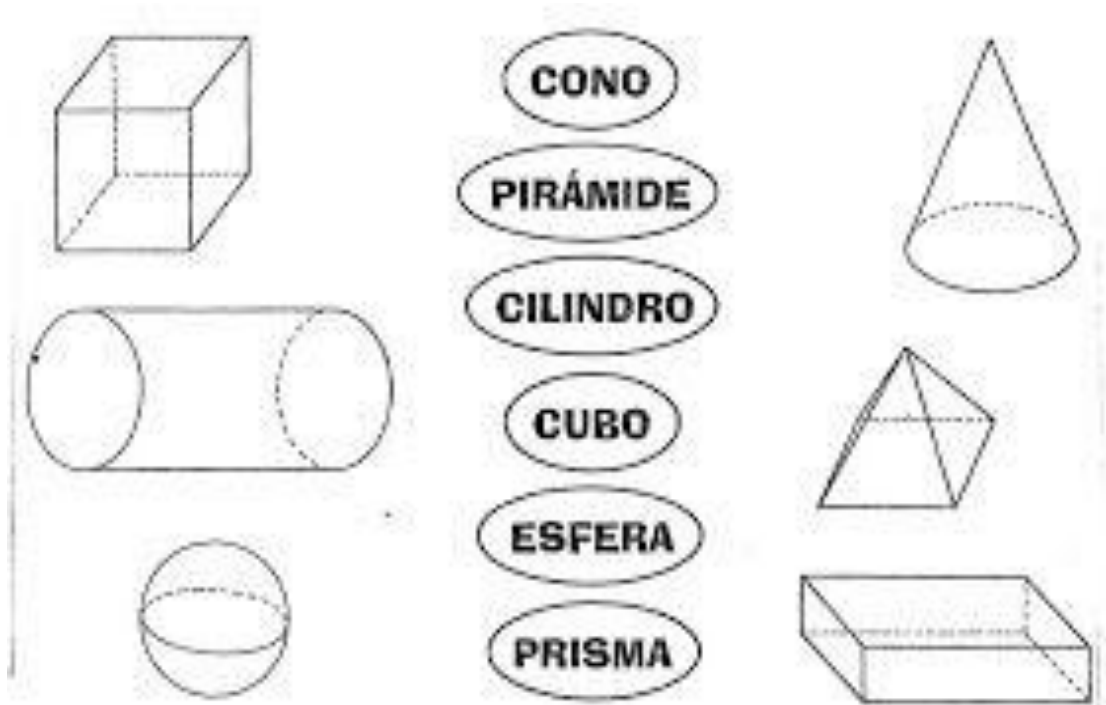
6.370:

5.309:

4.022:

3.707

UNE CON FLECHAS LOS CUERPOS GEOMÉTRICOS Y SU NOMBRE.



COLOCA LAS CARACTERÍSTICAS DE LOS CUERPOS GEOMÉTRICOS (CARAS, ARISTAS)

CUBO: CILINDRO:

LEE Y RESUELVE AL DORSO DE ESTA HOJA.

1.-Ana quiere repartir equitativamente 20 pastillas en 5 bolsas. ¿Cuántas pastillas alcanzan en cada bolsa?



7.-A la función del circo asistieron 800 personas entre niños y adultos. Si 267 eran adultos. ¿Cuántos eran niños?



2.-La mamá de Patricio tenía que comprar una caja de lápices para sus tres hijos. Si cada caja costaba \$310. ¿Cuánto gasta al comprar las 3 cajas de lápices?



8.-Juan vende globos en la plaza de Lirquén. Si cada uno cuesta \$50. ¿Cuánto gana si vende los 5 globos?



3.-Gabriela compró 4 helados. Si cada uno cuesta \$150. ¿Cuánto dinero gastó en total?



9.-Sebastián tenía guardado 5 monedas de \$100, 3 monedas de \$50 y 4 monedas de \$10. ¿Cuánto dinero tenía en total Sebastián?



RESUELVE.


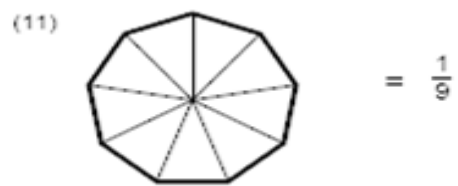
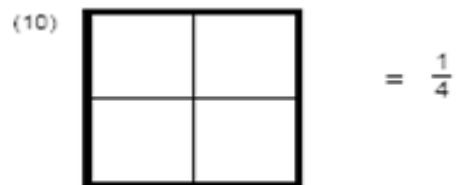
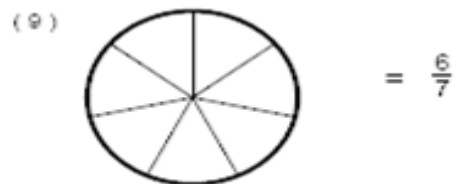
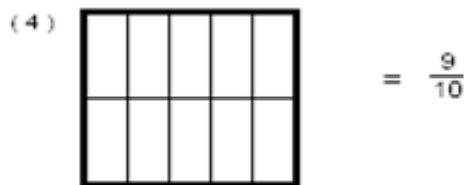
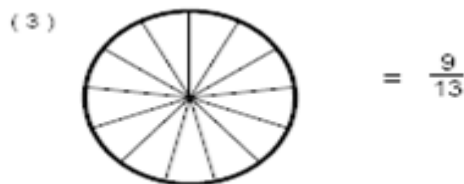

2. $367 + 1.492 =$

7.535 - 2.374 =

1.675 : 5

2.973 X 4 =

PINTA SEGÚN TE INDICA LA FRACCIÓN.



CIENCIAS NATURALES.

ESCRIBE NOMBRES DE VEHÍCULOS EN CADA CUADRO (QUE SE USAN EN LA CAMPO Y EN LA CIUDAD), SEGÚN CORRESPONDA.

ACUÁTICO	TERRESTRE	AÉREO

COLOCA VERDADERO (V) O FALSO (F) A LAS OPCIONES.

A- RAÚL TRABAJA COMO ENFERMERO EN EL HOSPITAL RAWSON .TRABAJO RURAL ()

B-DON MIGUEL ARÓ TEMPRANO EL TERRENO PARA PLANTAR CEBOLLAS. TRABAJO RURAL ().

C-EL TRABAJO DE FARMACÉUTICO ES URBANO ().

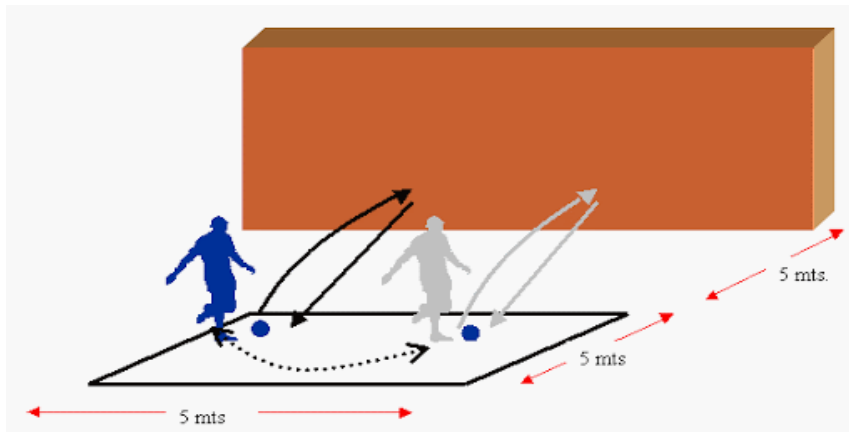
D- EL OFICIO DE HERRERO ES TRABAJO URBANO ().

ACTIVIDADES DE EDUCACIÓN FÍSICA PROF. DARÍO AHUMADA
COMPLETA SEGÚN CORRESPONDA.



PRACTICA PASES CON UNO Y OTRO PIE, DESLIZANDO POR EL PISO (SIN QUE EL BALÓN TOMA FASE AÉREA), CONTRA UNA PARED. PARA HACERLA REVOLUTAR Y QUE VUELVA. PRIMERO COMENZAMOS A UNA DISTANCIA DE 2M. Y VAMOS ALEJÁNDONOS HASTA LLEGAR A LOS 5M.

(GRABA UN VIDEO BREVE CON EL CELULAR O TOMA UNA FOTO Y ENVÍA AL PROFE MARCELO)

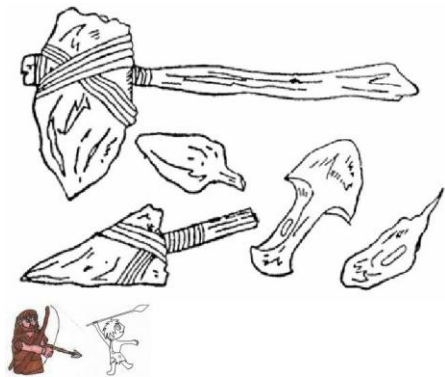


ACTIVIDADES DE EDUCACIÓN TECNOLÓGICA

PROF. FANNY REINOSO

LAS HERRAMIENTAS Y MATERIALES.

LOS PRIMEROS HABITANTES USABAN HERRAMIENTAS MUY RUDIMENTARIAS, ¿DE QUÉ MATERIALES CREES QUE ESTABAN HECHAS Y PARA QUÉ SE USABAN?



HECHAS DE

SE USABAN PARA


EL HOMBRE MODERNO UTILIZA OTROS MATERIALES PARA HACER SUS HERRAMIENTAS, ESTO LE PERMITE CONFECCIONAR DISTINTOS TIPOS, SEGÚN LAS NECESIDADES, SEGÚN LA CLASE DE TRABAJO QUE QUIERE REALIZAR.



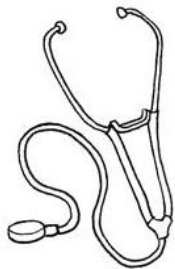
SACA FLECHAS DEL DIBUJO E INDICA CUÁLES SON HERRAMIENTAS DE COCINA Y COLOCA SU NOMBRE Y EL MATERIAL DEL QUE ESTÁ HECHA.

EJEMPLO: MANOPLA (TELA)

PINTA LAS HERRAMIENTAS QUE **SÍ** TIENES EN TU CASA. COLOCA EL NOMBRE Y PARA QUÉ SE USA.



¿QUIÉNES USAN ESTAS HERRAMIENTAS EN LA CIUDAD? ¿DE QUÉ MATERIAL ESTÁN HECHAS?



RECORDATORIO: " SIEMPRE DEBEN LAVARSE BIEN LAS MANOS ANTES Y DESPUÉS DE HACER UNATAREA Y CUANDO SALGAN DE CASA, USEN TAPA BOCA"

DIRECTORA: PROF. BEATRIZ MARTINEZ