

## **GUÍA PEDAGÓGICA N°24 DE RETROALIMENTACIÓN GRUPO 1**

**ESCUELA:** LEANDRO N. ALEM

**C.U.E.** 700059600

**DOCENTES:** SILVANA CASTRO- ANABELLA ROSELLÓ- FLAVIA SOSA- MARIELA RODRIGUEZ

**GRADO:** 1° "A" Y "B"

**AÑO:** 2.020

**PRIMER CICLO**

**NIVEL:**

PRIMARIO

**TURNO:** TARDE

**PERIODO:** 16 AL 20 DE NOVIEMBRE

**ÁREAS INTEGRADAS:** MATEMÁTICA- CIENCIAS NATURALES- EDUCACIÓN MUSICAL- ARTES VISUALES.

**TÍTULO DE LA PROPUESTA:** ¡ORGANIZAMOS UN CUMPLEAÑOS!

**CONTENIDOS:** **MATEMÁTICA:** FUNCIÓN Y USO DE NÚMEROS NATURALES HASTA 100. DESCOMPOSICIÓN ADITIVA DE NÚMEROS EN UNOS Y DIECES. RESOLUCIÓN DE SITUACIONES PROBLEMÁTICAS SENCILLAS. OPERACIONES: SUMA Y RESTA. FIGURAS GEOMÉTRICAS. MEDIDAS DE TIEMPO. LECTURA DEL CALENDARIO: MESES- DÍAS. **CIENCIAS NATURALES:** LOS MATERIALES SÓLIDOS Y LÍQUIDOS. **EDUCACIÓN MUSICAL:** FORMAS MUSICALES. (A-A). FABRICACIÓN DE UN INSTRUMENTO MUSICAL CON MATERIALES RECICLABLES.

**ARTES VISUALES:** INTRODUCCIÓN AL COLOR Y SUS CLASIFICACIONES. TEXTURA Y COLOR EN LA TRIDIMENSIÓN.

### **INDICADORES DE EVALUACIÓN PARA LA NIVELACIÓN**

RECONOCE DIFERENTES FUNCIONES DE LOS NÚMEROS DE USO SOCIAL.

RESUELVE PROBLEMAS NUMÉRICOS QUE INVOLUCRAN ARMAR Y DESARMAR NÚMEROS EN UNOS Y DIECES.

RESUELVE SITUACIONES PROBLEMÁTICAS QUE INVOLUCRAN SUMAS Y RESTAS.

USA EL CALENDARIO PARA UBICARSE EN EL TIEMPO (MESES, DÍAS DE LA SEMANA).

RECONOCE FIGURAS GEOMÉTRICAS.

CLASIFICA MATERIALES EN LÍQUIDOS Y SÓLIDOS DESCUBRIENDO CARACTERÍSTICAS QUE LO DIFERENCIEN.

IDENTIFICA Y ELABORA UN INSTRUMENTO MUSICAL CON MATERIAL RECICLABLE.

IDENTIFICA COLORES PRIMARIOS Y LOS APLICA EN DIFERENTES SOPORTES Y COMPOSICIONES.

**DESAFÍO:** ORGANIZAR UN CUMPLEAÑOS.

**DOCENTES:** SILVANA CASTRO- ANABELLA ROSELLÓ- FLAVIA SOSA- MARIELA RODRIGUEZ

**ACTIVIDADES**

PARA DAR INICIO A LA ORGANIZACIÓN DEL FESTEJO DE CUMPLEAÑOS DE MILI, PENSARON EN QUE DEBÍAN TENER EN CUENTA LOS DÍAS QUE TENDRÍAN PARA ORGANIZAR EL EVENTO.

LEE EL TEXTO “UN ACONTECIMIENTO FAMILIAR” (DE LA GUÍA 23).

OBSERVA EL CALENDARIO. RESPONDE Y COMPLETA

NOVIEMBRE 2020						
LUNES	MARTES	MIÉRCOLES	JUEVES	VIERNES	SÁBADO	DOMINGO
						1
2	3	4	5	6	7	8
9	10	11	12	13	14	15
16	17	18	19	20	21	22
23	24	25	26	27	28	29
30						



¿QUÉ MES ES? \_\_\_\_\_

MILI MIRA EL CALENDARIO EL DÍA 7 ¿CUÁNDO ES SU CUMPLEAÑOS? \_\_\_\_\_

¿QUÉ DÍA DE LA SEMANA CAE SU CUMPLEAÑOS? \_\_\_\_\_

¿CUÁNTOS DÍAS EN TOTAL TIENE NOVIEMBRE? \_\_\_\_\_ ¿CUÁNTO DIECES? \_\_\_\_\_


MARCA EL DÍA QUE MILI MIRA EL CALENDARIO CON ROJO Y CON AZUL, EL DÍA DE SU CUMPLEAÑOS.

\*DIBUJA EL CALENDARIO CON EL MES EN QUE CUMPLES AÑOS, LOS DÍAS DE LA SEMANA, NÚMEROS Y LAS VELITAS DE LOS AÑOS QUE CUMPLES.

PARA DECORAR EL SALÓN CON EL ÁRBOL DE NAVIDAD USARON 2 DIECES Y 4 UNOS DE PELOTITAS.

¿CUÁNTAS PELOTITAS COLOCARON? \_\_\_\_\_ LO ADORNARON CON 8 PELOTITAS GRANDES DE COLOR AZUL, 10 PELOTITAS MEDIANAS DE COLOR ROJO Y 6 CHIQUITAS DE COLOR AMARILLO. DIBUJA EL ÁRBOL CON LAS PELOTITAS.

LA MAMÁ REALIZÓ UNA LISTA DE MATERIALES NECESARIOS. LEE Y UNE LA IMAGEN CON EL NOMBRE.



**LISTA DE MATERIALES:**

JUGO

GASEOSA

PAPAS FRITAS

PANCHOS

PIZZA

TORTA

GOLOSINAS

VASOS

GLOBOS

OBSERVA LAS IMÁGENES ¿DE QUÉ MATERIALES ESTÁN HECHOS? (PLÁSTICO, METAL O MADERA) ¿CUÁLES TE PARECE QUE SON SÓLIDOS Y CUÁLES LÍQUIDOS? ¿CÓMO TE DAS CUENTA?

¿CUÁL ES LA DIFERENCIA ENTRE MATERIALES SÓLIDOS Y LÍQUIDOS?

MARCA CON UN X EN EL SIGUIENTE CUADRO SEGÚN CORRESPONDA.

MATERIAL	SÓLIDO	LÍQUIDO
JUGO		
PIZZA		
VASO		
PAPA FRITA		
GASEOSA		

¿DE QUÉ MATERIAL PUEDE SER UN VASO? \_\_\_\_\_, \_\_\_\_\_

BUSCA, RECORTA Y PEGA 3 IMÁGENES DE MATERIALES SÓLIDOS Y 3 DE LÍQUIDOS. ESCRIBE SU NOMBRE Y SI ES SÓLIDO O LÍQUIDO.

LA MAMÁ CONSIGUIÓ OFERTAS DE ALGUNOS MATERIALES QUE NECESITAN PARA LA FIESTA.

OBSERVA Y ELIGE EL PRESUPUESTO MÁS CONVENIENTE. RODÉALO CON VERDE.

¿CÓMO TE DISTE CUENTA?

**PROMOCIÓN 1**

PANCHOS ----- \$40 C/U

PIZZAS ----- \$30 C/U

BOLSITA DE

PAPAS FRITAS---\$10 C/U

**PROMOCIÓN 2**

PANCHOS----- \$30 C/U

PIZZAS-----\$30 C/U

BOLSITA DE

PAPAS FRITAS---\$10 C/U

¿CUÁNTO DINERO NECESITA PARA COMPRAR LA PROMOCIÓN MÁS CONVENIENTE? SI PAGA CON \$ 100 ¿LE DAN VUELTO? ¿CUÁNTO?\_\_\_\_\_

¿QUÉ BILLETES NECESITA PARA COMPRAR LA PROMOCIÓN? DIBUJA LA CANTIDAD DE BILLETES NECESARIOS.



REALIZA LA SUMA CON LOS DIECES DEL VALOR DE LA PROMOCIÓN CONVENIENTE.

¡¡AL FIN LLEGÓ EL DÍA!! LEE ATENTAMENTE, PIENSA Y RESUELVE. REALIZA EL PROCEDIMIENTO QUE MAS TE GUSTE.

**CÁLCULO**

**RESPUESTA:**

PARA ADORNAR EL LUGAR LOS CHICOS HICIERON GUIRNALDAS CON TRIÁNGULOS Y CÍRCULOS. DIBUJA CÓMO QUEDARON.



**EDUCACIÓN MUSICAL**

1) ESCUCHA CON ATENCIÓN EL SIGUIENTE VIDEO:

<https://www.youtube.com/watch?v=ho5QceAAXTo>

DOCENTES: SILVANA CASTRO- ANABELLA ROSELLÓ- FLAVIA SOSA- MARIELA RODRIGUEZ

RESPONDE: ¿QUÉ CANCIÓN ES?

2) ESCUCHA LA SIGUIENTE CANCIÓN :

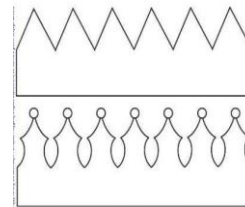
<https://www.youtube.com/watch?v=sHk8-7gbGf4>

RESPONDE: ¿QUÉ CANCIÓN ES?

- 3) ¿EL FELIZ CUMPLEAÑOS Y EL PAYASO PLIM PLIM SE PARECEN EN LA MELODÍA?
- 4) BUSCA JUNTO A MAMÁ O PAPÁ CANCIONES QUE SEAN IGUALES PERO CON DISTINTA LETRA.
- 5) REALIZA CON AYUDA DE MAMÁ O PAPÁ UN INSTRUMENTO MUSICAL CON MATERIALES QUE ENCUENTRES EN CASA Y LUEGO CANTA EL FELIZ CUMPLEAÑOS EN FAMILIA.

### **ARTES VISUALES**


EN TODA FIESTA DE CUMPLEAÑOS QUE SE CELEBRA EL CUMPLEAÑERO SE DEBE DESTACAR. QUE MEJOR QUE DESTACAR SIENDO EL REY O LA REINA DE LA FIESTA. POR ESO CREARÁS TU PROPIA CORONA DE CUMPLEAÑOS.



- 1) MARCA EN UNA CARTULINA LA FORMA DE UNA CORONA. PUEDES USAR LOS MOLDES DE LAS IMÁGENES O INVENTAR UNA DIFERENTE. LA BASE DE LA CORONA DEBE SER BASTANTE LARGA COMO PARA RODEAR TU CABEZA. CUANDO LA CORONA ESTÉ MARCADA EN EL PAPEL, RECÓRTALA.
- 2) UNE LOS EXTREMOS DE TU CORONA PARA QUE QUEDE DE FORMA CIRCULAR Y PUEDA QUEDAR QUIETA EN TU CABEZA.
- 3) PINTA LA CORONA CON TÉMPERAS O FIBRAS DE COLORES PRIMARIOS, Y PEGA DECORACIONES BRILLANTES QUE TENGAN DIFERENTES TEXTURAS. PUEDES USAR PAPELES, LENTEJUELAS, PLUMAS, BRILLANTINA, GOMA EVA, Y TODO LO QUE QUIERAS.
- 4) CUANDO ESTÉ TODO SECO, PUEDES DISFRUTAR DE TU DIVERTIDA CORONA DE CUMPLEAÑOS.



**¡HORA DE VER FOTOS!** LUEGO DE LA FIESTA MILI ENUMERA SUS FOTOS, PERO LE FALTAN ALGUNAS. COMPLETA CON LOS NÚMEROS QUE FALTAN.



**DOCENTES:** SILVANA CASTRO- ANABELLA ROSELLÓ- FLAVIA SOSA- MARIELA RODRIGUEZ

EN EL ÁLBUM AZUL VA A PONER LAS FOTOS QUE TIENEN NÚMEROS MENORES QUE 50 Y EN EL ROJO LAS QUE ESTÁN ENTRE EL 60 Y EL 90. PINTA EL  DEL COLOR QUE CORRESPONDA SEGÚN VAYA EN EL ÁLBUM, AZUL O ROJO.



DIRECTORA: CORA CASTILLO