

Escuela: E.E.E. Dr. Ramón Peñafort.

Docente: Analia Martinez.

Tercer grado.

Turno: Mañana.

Título de la Propuesta: “Nos cuidamos entre todos. Nos quedamos en casa”

Contenido: * Lectura oral y comprensiva.

* Separación en sílabas.







* Producción de texto.

Guía de actividades Lengua:

- 1) Busca, recorta y pega 3 palabras que contengan cada vocal.
- 2) Armar una oración con cada una de esas palabras.
- 3) Separa en sílabas cada una de las palabras recortadas.
- 4) Formar las siguientes palabras.


	F		E	G	
	C		N	C	
	C		S	C	
	L	L		V	
	L		M		N

5) Unir las sílabas para formar palabras.

CA PES DO  <input type="text"/>	CHI SAL CHA  <input type="text"/>	PO LLO  <input type="text"/>
QUE SO  <input type="text"/>	PA SO  <input type="text"/>	DU VER RAS  <input type="text"/>

6) Busca, recorta y pega una noticia y transcribe 3 oraciones.

7) Lee la siguiente lectura y responde:

Tomás	
Tomás es un gato gordo. A él le gusta jugar mucho todo el día. Puede saltar muy alto.	

¿ qué animal es Tomás?	<input type="radio"/> Perro <input type="radio"/> Gato
¿Qué le gusta hacer?	<input type="radio"/> jugar <input type="radio"/> dormir
¿Qué puede hacer Tomás?	<input type="radio"/> Saltar muy alto <input type="radio"/> Caminar

8) Recorta y pega una imagen. Luego produce una historia con más de cuatro oraciones.

Escuela: E.E.E. Dr. Ramón Peñafort.

Docente: Analia Martinez.

Tercer grado.

Turno: Mañana.

Título de la Propuesta: “Nos cuidamos entre todos. Nos quedamos en casa”

Contenido: * Numeración.

* Operaciones de suma y resta con algoritmo.

Guía de actividades de Matemática

1) Elige 10 números (del 0 al 60) y escribe como se leen

2) Ordena de menor a mayor los siguientes números:

15- 27- 38- 56- 59- 43- 26- 60

3) Resuelve las siguientes sumas:

a) $15 + 7 =$

b) $23 + 7 =$

c) $12 + 10 =$

d) $20 + 7 =$

4) Coloco el anterior y posterior.

a) _____ 23 _____

b) _____ 38 _____

c) _____ 16 _____

d) _____ 41 _____

5) En casa me dictan 15 números (desde el 0 al 60).

6) Descompone en (dieces) 10 y (unos) 1.

a) 25 ej. $10 + 10 = 20$ $1 + 1 + 1 + 1 + 1 = 5$

b) 19

c) 43




d) 37

e) 32

7) Lee y escribe el número:

- a) Cuarenta y ocho:.....
- b) Sesenta y siete:.....
- c) Treinta y nueve:.....
- d) Diecinueve:.....
- e) Trece:.....

8) Dibuja el doble de estas cantidades:

- a) 
- b) 
- c) 

9) Calcula las siguientes operaciones:

- a) $41 - 1 =$
- b) $35 - 5 =$
- c) $34 + 5 =$

