

GUIA PEDAGOGICA Nº 2

Escuela: Martina Chapanay

Turno: Mañana

Docente: Pamela Lliteras

Grado: 3º Alfabetización "A"

Título de la propuesta: ¡Practicamos!

Áreas y contenidos seleccionados

- Matemática: -Revisión de números naturales
 - Operaciones: suma y resta
 - Situaciones problemáticas de la vida diaria
- Lengua:- Escritura y lectura de palabras y oraciones sencillas
- Ciencias Sociales: -Efeméride: 2 de Abril : Día del veterano y de los caídos en las guerra de las Malvinas
- Artes Visuales: La línea
- Tecnología: Reconocimiento y exploración de diversas manera de transformar materiales
- Educación Física: El Cuerpo y sus movimientos.
- Teatro: Objeto real

CLASE DEL DÍA MIÉRCOLES 1 DE ABRIL

Área: Matemática

- ✦ Ahora vamos a trabajar con números de tres cifras que empiezan con 1.
 - Escribí tres números que tengan todas sus cifras distintas.


--	--	--

- Ahora, tres que tengan dos cifras iguales.

--	--	--

- Escribí el que tiene las tres cifras iguales. _____
- ¿Cómo se llama? _____
- ¿Y el número de esta página? _____

2-Escribe como se llaman los números de estos colectivos



3-Odena de mayor a menos los siguientes números del punto anterior (números de los colectivos)

CLASE DEL DÍA JUEVES 2 DE ABRIL

Área: Ciencias Sociales

1-observa el siguiente calendario

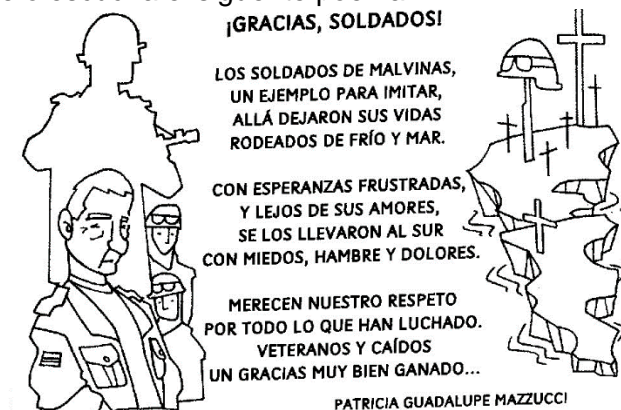
Abril 2020						
Domingo	Lunes	Martes	Miércoles	Jueves	Viernes	Sábado
			1	2	3	4
5	6	7	8		10	11
12	13	14	15	16	17	18
19	20	21	22	23	24	25
26	27	28	29	30		

2 DÍA DEL VETERANO Y DE LOS CAÍDOS EN LA GUERRA DE MALVINAS	22 DÍA DE LA TIERRA
7 DÍA MUNDIAL DE LA SALUD	23 DÍA DEL IDIOMA
14 DÍA DE LAS AMÉRICAS	24 DÍA DE ACCIÓN POR LA TOLERANCIA Y EL RESPETO ENTRE LOS PUEBLOS
19 DÍA DEL ABORIGEN	29 DÍA DEL ANIMAL

2- Responde

- A. ¿En que día te encuentras hoy?
- B. ¿Qué imagen se puede ver en ese día?
- C. Mira las referencias de abajo y escribí que se celebra el día 2 de Abril

4-Lee o escucha el siguiente poema



5-Con un adulto conversa ¿Quiénes son los caídos de la guerra? ¿A quiénes llamamos veteranos de Malvinas?

Área: Teatro



- 1) Busca dentro de tu casa un objeto que te guste, puede ser cualquier cosa. Por ejemplo: una pelota, un vaso, una olla. Es importante que en tu casa te den permiso para utilizarlo.
- 2) Ahora investiga el objeto como si fuese la primera vez que lo ves. Observa su forma, su tamaño, su textura.

¿Es pesado o liviano?

¿Es áspero o suave?

¿Es pequeño, mediano, grande?

Estas preguntas son para ayudarte a pensar en el objeto

- 3) Ahora para terminar imagina una pequeña historia donde este objeto aparezca. Puedes escribirla, grabarla en una nota en el celular, también puedes dibujarla.

Ejemplo:El objeto que elegí es una escoba

Don Pedro estaba la escoba por la vereda, apareció la policía y le pidió que entre a su casa porque estábamos en cuarentena.

CLASE DEL DÍA VIERNES 3 DE ABRIL

Área: Lengua

1. Escribe 5 palabras usando las siguientes silabas

MA	TE	SA	LA
LU	NA	CA	FO
DA	MI	DO	NO

2. Con cada palabra que armaste en el punto anterior escribí una pequeña oración
3. Practico lectura con la ayuda de un adulto

Tomás pela siete papas.

Emilio mima a Lulú.

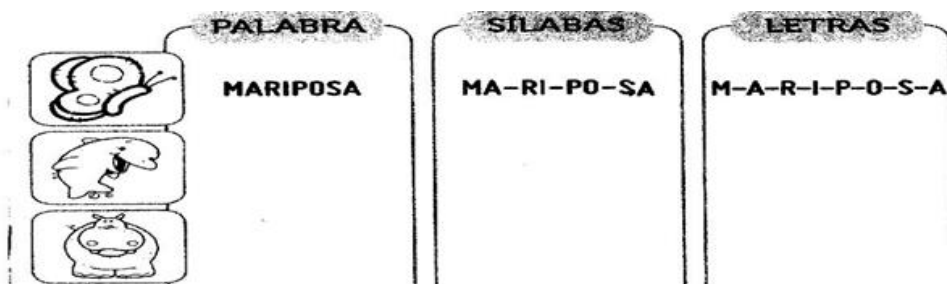
Mateo usa la moto de su tío.

Amalia lame la miel.

Paloma pisa las lilas.



4. Completa el cuadro con Letras, silabas y palabras



Área: Educación Física

ENTRADA EN CALOR: Caminata libre durante 5 minutos.

VOLEIBOL - BOWLING

- Se puede jugar en forma individual, en parejas.
- Armar una cancha dividida al medio con una soga.
- De un lado de la cancha se ubica un jugador con la pelota.
- Del otro lado, se colocan varias botellas de plástico vacías.
- El jugador debe lanzar la pelota por sobre la soga y tratar de voltear la mayor cantidad de elementos.
- Gana el que voltea más botellas después de tres saques.
- Anotar la cantidad de elementos volteados
- Elongación de los grandes grupos musculares.

CLASE DEL DÍA LUNES 6 DE ABRIL

Área: Matemática

1. Completa con los números que faltan sumándole 10 mas

100		120			150				
200			130					180	

2. Escribe el nombre de estos números

100:.....

200:.....

3. Dibuja los billetes con los que pagarías el objeto más caro y el más barato.



Actividad N°1: "Jugamos con líneas"

-En esta actividad deberás utilizar mucho la imaginación.

- Buscamos en revistas, diarios q tengamos en casa paisajes. Observamos cada uno de ellos, sus colores, y formas

-Sobre una hoja N°5 dibujamos un paisaje el q más nos guste.

Actividad N°2: "líneas de colores"

- Al finalizar la actividad N°1 comenzaremos trazar líneas de diferentes colores en cada una de las figuras q dibujamos con todo tipo de líneas curvas, rectas.

- Ejemplos:



CLASE DEL DÍA MARTES 7 DE ABRIL

Área: Lengua

1. Lee lo que dice que dicho y escribe 3 palabras

 **PALABRAS QUE TIENEN COMO INICIAL LA MISMA LETRA QUE**  _____

 **PALABRAS QUE TIENEN COMO INICIAL UNA VOCAL: A, E, I, O, U** _____

 **PALABRAS QUE TERMINAN COMO**  _____

2. Lee los poemas con un adulto que te ayude a practicar

**MOCHILAS NUEVAS.
CHICOS PEINADOS.
ESTÁ EL PORTERO
EMOCIONADO.**

**FOTOS Y FOTOS.
BESOS Y ABRAZOS.
ENTRO A LA ESCUELA,
DOY UN GRAN PASO.**

**FOTOS Y FOTOS
DE ESTE GRAN DÍA.
MAÑANA VUELVO
CON ALEGRÍA.**

3. Lee las oraciones y copialas en la imagen que corresponde

- FRANCO ESTRENA MOCHILA.
- LA MAMÁ LE SACA UNA FOTO.
- EL PORTERO LO SALUDA CON UN BESO.



Área: Tecnología

Avión de rollos

Materiales: rollos de papel de cocina, tijeras y cutter, plástico, lápiz, marcador, pincel, tempera o pintura de color



1. Corta un rollo de papel a lo largo, y luego de nuevo por la mitad, para obtener dos piezas
2. Dibuja dos piezas redondeadas, una de todo el tamaño del rollo y otra de la mitad de su tamaño. Recórtalas y pinta las piezas y otro rollo entero de color
3. Haz dos cortes en los laterales del rollo, uno en la parte superior y otro en la inferior. Encaja las piezas para que queden fijas, ayudándote de cola blanca.



4-Decora el avión



CLASE DEL DÍA MIÉRCOLES 8 DE ABRIL

Área: Matemática

1. Leo, pienso y resuelvo

Analia tiene \$92 y quiere comprar una muñeca que cuesta \$154 ¿Cuánto dinero le falta?

2. Resuelvo

$85 + 23 =$ $127 + 41 =$ $235 - 849 =$ $122 - 346 =$

3. Sumo:

+	5	7	10	13	19	20	22	24	30
2	7								

+	1		
8			
13			
20			

+	5		
2			
15			
20			

+	10		
1			
3			
10			

4. Resto:

-	13	7	9	5	14	8	6	19	11
3	10								

-	2		
10			
14			
20			

-	6		
7			
12			
18			

-	10		
13			
20			
16			

Docentes: Pai

nalia Arce, Arias Maria