

GUÍA PEDAGÓGICA N° 21 DE RETROALIMENTACIÓN



ESCUELA: 17 DE AGOSTO

CUE: 7000068-00

DOCENTES: VEGA ROMINA- MANRIQUE LUCÍA- TELLO MARÍA ALICIA- RAMOS MARÍA CRISTINA

GRADO: 2º

TURNO: JORNADA COMPLETA

ÁREAS INTEGRADAS

TÍTULO: RETROALIMENTACIÓN

CONTENIDOS:

- LENGUA: COMPRENSIÓN LECTORA. ABECEDARIO. PALABRAS
- MATEMÁTICA: NUMERACIÓN HASTA 1000. SITUACIONES PROBLEMÁTICAS
- CIENCIAS SOCIALES: FECHAS IMPORTANTES
- TECNOLOGÍA: MATERIALES
- ARTES VISUALES: PRODUCCIÓN BIDIMENSIONAL DE IMÁGENES FIGURATIVAS. EXPLORACIÓN DE TEXTURAS, FORMAS Y COLORES
- AGROPECUARIA: PRODUCTOS DE LA HUERTA ORGÁNICA

INDICADORES DE EVALUACIÓN:

-LENGUA:

- >ESCUCHA, COMPRENDE Y DISFRUTA LECTURAS CORTAS.
- >LEE Y COMPRENDE DE MANERA AUTÓNOMA TEXTOS BREVES.
- >IDENTIFICA TODAS LAS LETRAS DEL ABECEDARIO PARA LUEGO ESCRIBIR DE MANERA AUTÓNOMA PALABRAS.

-MATEMÁTICA:

- >LEE, ESCRIBE, COMPARA Y ORDENA NÚMEROS NATURALES HASTA 1000.
- >USA OPERACIONES DE ADICIÓN PARA LA RESOLUCIÓN DE PROBLEMAS.

-CIENCIAS SOCIALES:

- >COMPRENDE EL SENTIDO DE DIFERENTES CELEBRACIONES PARA LA CONSTRUCCIÓN DE LA IDENTIDAD NACIONAL.

-TECNOLOGÍA:

- >EXPRESA IDEAS CONCRETAS PARA CONSTRUIR JUEGOS CON DISTINTOS MATERIALES.

-ARTES VISUALES:

- >RECUERDA EFEMÉRIDES: 21 DE SEPTIEMBRE DÍA DEL ARTISTA PLÁSTICO

-AGROPECUARIA:

- >RECONOCE LAS FRUTAS Y VERDURAS
- >PARTICIPA EN EL PROCESO DE ELABORACIÓN SECUNDARIA.

ACTIVIDADES

- 1- IMAGINA QUE ESTAS EN LA ESCUELA, EN LA HORA DE LECTURA, TOMÁ UN ALMOHADÓN DE TU CASA DILE A TU MAMÁ QUE TOME UNO PARA ELLA, SIENTENSE EN EL LUGAR DE LA CASA QUE MÁS TE GUSTE Y LEE LA SIGUIENTE HISTORIA

SARMIENTO

DOMINGO FAUSTINO SARMIENTO NACIÓ EN SAN JUAN EL 15 DE FEBRERO DE 1811, CON SOLO 5 AÑOS SE DESTACABA COMO UN MUY BUEN ALUMNO, TODAS LAS TARDES EL LEÍA SU LIBRO, ESTE TENÍA LOS NÚMEROS DEL 1 AL 1000, TODOS CON SUS NOMBRES ESCRITOS Y LAS CANTIDADES QUE CORRESPONDÍAN, ASÍ EL APRENDIÓ A CONTAR.

SUS NÚMEROS PREFERIDOS ERAN EL 500, EL 242, EL 103, EL 787 Y EL 995. LE ENCANTABA JUGAR A REUNIR LAS CANTIDADES MÁS PEQUEÑAS QUE EN SU LIBRO APARECÍAN, Y ASÍ SE PASABA LAS TARDES JUGANDO ENTRE LECTURA Y NÚMEROS.

DESPÚES YA ADOLESCENTE COMPLETÓ SUS ESTUDIOS CON SU TÍO JOSÉ DE ORO.

EN EL AÑO 1827, SE MUDÓ A CHILE DÓNDE FUE MINERO Y MAESTRO. AÑOS MAS TARDE VOLVIÓ A NUESTRO PAÍS Y TRABAJÓ NUEVAMENTE DE MAESTRO, DE ESCRITOR Y DE PERIODISTA. HASTA LLEGÓ A SER PRESIDENTE DE LA NACIÓN.

FUNDÓ MUCHAS ESCUELAS, CONSTRUYÓ CAMINOS Y RUTAS, INAUGURÓ EL ZOOLOGICO Y EL JARDÍN BOTÁNICO.

FALLECIÓ EL 11 DE SEPTIEMBRE DEL AÑO 1888, Y ES POR ELLO QUE EN ESA FECHA TODOS LOS AÑOS SE RECUERDA EL DÍA DEL MAESTRO.

2- RESPONDO

-¿DE QUÉ HABLA LA LECTURA?

-¿CUÁNDO NACIÓ SARMIENTO?

-¿QUÉ PROFESIONES TUVO SARMIENTO?

3- EXTRAIGO PALABRAS DEL TEXTO Y COMPLETO EL ACRÓSTICO:

| | |
|---|--|
| S | |
| A | |
| R | |
| M | |
| I | |
| E | |
| N | |
| T | |
| O | |

4- (TECNOLOGÍA) TENIENDO EN CUENTA LOS OFICIOS DE SARMIENTO, PARA REALIZAR ESTE JUEGO VAMOS A NECESITAR LOS MATERIALES YA TRABAJADOS EN LAS GUÍAS ANTERIORES.

-RECUERDA QUE TIENEN QUE GIRAR LOS TOBOS PARA FORMAR LAS SIGUIENTES PALABRAS.



5- EN LA LECTURA APARECEN MUCHOS NÚMEROS, TU TRABAJO ES EXTRAERLOS Y ORDENARLOS DEL MÁS PEQUEÑO AL MÁS GRANDE. (NO TENGAS EN CUENTA LOS NÚMEROS 1811, 1827 Y 1888)

6-EN LA SIGUIENTE LISTA APARECEN LOS NÚMEROS FAVORITOS DE SARMIENTO, ESCRIBE SUS NOMBRES

103 _____

500 _____

242 _____

995 _____

787 _____



7-.RESOLVEMOS PROBLEMITAS:

>SARMIENTO TENÍA EN UNA BIBLIOTECA 245 LIBROS Y EN OTRA 123 LIBROS MÁS. ¿CUÁNTOS LIBROS TIENE EN TOTAL?

>SARMIENTO JUNTÓ EN UNA CAJITA 373 PIEDRITAS Y EN OTRA CAJA 132 PIEDRITAS MÁS. ¿CUÁNTAS PIEDRITAS JUNTÓ EN TOTAL?

8-(AGROPECUARIA) MAS PROBLEMITAS PARA RESOLVER



-EN LA HUERTA DE LA ESCUELA, LOS ALUMNOS COSECHARON MUCHAS FRUTAS Y VERDURAS. PARA QUE NO SE HECHARAN A PERDER ELLOS DECIDIERON REALIZAR UNA SUPER ENSALADA PARA REGALAR A TODA LA COMUNIDAD. NECESITABAN GRAN CANTIDAD DE LECHUGAS Y TOMATES. AYUDA A LOS ALUMNOS A RESOLVER LA SIGUIENTE SUMA PARA SABER CUANTO NECESITAN EN TOTAL.

 $+$  $=$

88

41

-LOS ALUMNOS TAMBIÉN QUISIERON REGALAR UNA ENSALDA DE FRUTAS, RESUELVE LA SUMA Y AYUDALOS A SABER CUANTA FRUTA NECESITAN EN TOTAL

 $+$  $=$

36

53

-ELIGE ALGUNA DE LAS DOS ENSALADAS ANTERIORES Y PÍDELEA TU FAMILIA QUE TE AYUDE A PREPARLA. (UTILIZA MENOS CANTIDADES).

9- (ARTES VISUALES) RETOMANDO LA LECTURA DE SARMIENTO, CUENTA QUE EL DÍA 11 DE SEPTIEMBRE RECORDAMOS EL DIA DEL MAESTRO EN SU HONOR, EL DÍA 21 DEL MISMO MES SE RECUERDA EL DÍA DEL ARTISTA PLÁSTICO, PARA RECORDAR ESTE DÍA LA SEÑO TE PROPONE QUE OBSERVES LA SIGUIENTE IMAGEN Y LUEGO TÚ TE CONVIERTAS EN UN ARTISTA:



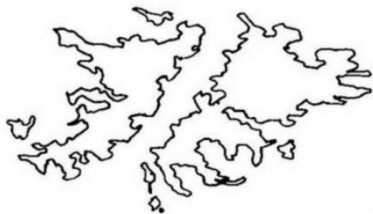
21 DE SEPTIEMBRE: DÍA DEL ARTISTA PLÁSTICO


-DIBUJA LIBREMENTE Y PINTA CON TEMPERAS, CON LOS COLORES PRIMARIOS ROJO, AZUL, AMARILLO. PODEMOS AGREGARLE RECORTE DE REVISTAS O TEXTURAS.

10-¡OTRAS FECHAS IMPORTANTES! OBSERVA LAS IMÁGENES Y ESCRIBE DE QUE FECHA IMPORTANTE SE TRATA CADA UNA









DIRECTORA: MYRIAM TEJADA