

Escuela Nocturna María Elisa Rufino León

Docente: Rosana Castillo

4º Ciclo

Matemática-Cs.Naturales-Lengua-Cs.Sociales-Etica

“Trabajamos desde casa”

1º Día

“DESCUBRIENDO TEXTOS”

1-Lee los siguientes texto

LA NOCHE Y EL DÍA

Cuando es de día,
brilla mucho el sol
todo lo alumbra
y nos da calor.
Luego, poco a poco,
se va escondiendo
y cuando es muy tarde
se queda durmiendo.
Entonces la luna
cumple su deseo
llama a las estrellas
y se van de paseo.

La noticia

¿Sabes lo mejor del mundo?
¿Has visto a vacas que comen como los gatos?

Seres vivos de otros mundos

La misma vida, en otros planetas, se podría encontrar. Los científicos creen que en otros planetas de otros mundos, como en Marte, podría haber vida. Los científicos creen que en otros planetas de otros mundos, como en Marte, podría haber vida.

Los científicos creen que en otros planetas de otros mundos, como en Marte, podría haber vida.

GALLETITAS DE MIEL Y AVENA

INGREDIENTES:

- 50 g DE [ingredientes]
- 120 g DE [ingredientes]
- 180 g DE [ingredientes]
- 2 [ingredientes]

PREPARACIÓN:

MEZCLAR EN UN [utensilio] LA [ingredientes] Y EL [ingredientes]. HACER UN HOYO, COLOCAR LA [ingredientes] Y LOS [ingredientes] Y REVOLVER CON [utensilio] HASTA LOGRAR UNA PASTA, AÑADIENDO [ingredientes]. ENMANTECAR BIEN UNA [utensilio] Y PONER EN ELLA VARIAS [ingredientes] DE LA PREPARACIÓN, BIEN DISTANCIADAS ENTRE SÍ. COCINARLAS EN [utensilio] MODERADO (180°) HASTA DORARLAS.


Te respeto y no te golpeo, como el niño que eres

Te valoro y te cuido como la niña que eres.



2-Coloca al costado de cada texto que tipo de texto crees que es, según el mensaje.

3-Estamos rodeados de texto ¿Por qué?



*Para tener en cuenta:

“LOS TEXTOS TIENEN UN OBJETIVO, SE REALIZAN CON UNA INTENCION DETERMINADAY SE ESCRIBEN A TRAVES DE UN TEJIDO O TRAMA.”

| FUNCION TRAMA | INFORMATIVA | APELATIVA |
|---|--|---|
| DESCRIPTIVA • Definición • Clasificación | - Textos científicos, académicos y de divulgación - Informe de experimentos | - Aviso - Folleto - Afiche - Receta - Instructivo |
| NARRATIVA | - Noticia - Biografía - Relato histórico - Informe sobre investigaciones científicas o tecnológicas | - Aviso - Historieta |
| ARGUMENTATIVA | - Artículo de opinión - Monografía - Demostraciones de leyes o principios | - Ensayo - Aviso - Folleto - Carta - Solicitud |

Cuadro - Clasificación de los textos por función y trama.
(Adaptación de Kaufman y Rodríguez, 1993)

4-Busca y pega en el cuaderno ejemplos de cada tipo de texto.

Día 2

-Observa el siguiente video

<https://www.youtube.com/watch?v=JMAhkMCEfzA>

-Busca y escribe el significado de las siguientes expresiones:

Ambiente:

Adaptaciones:

Ambientes Acuáticos:

Ambientes de transición:

Ambientes aeroterrestres:

-Da ejemplos de seres vivos que habitan en cada ambiente, incluido el hombre.

Día 3

1-Claudia fue al “Híper “y compró:

2l de aceite a \$68 por litro, 5 Kg de harina a \$39,9 Cada kg, 6 puré de tomates a \$34,70 cada puré, 1 caja de caldo a \$50, y 4litros de leche líquida a \$54,35 cada litro
¿Cuánto pagó por la compra?

*Como pagó de contado le hicieron un descuento de \$50 ¿Cuánto abonó realmente?

2-En una bicicleteria, Claudia observó los siguientes precios:

\$52.314 \$52.431 \$52.341 \$52.413

¿En cuál de las siguientes opciones se muestran los precios ordenados de mayor a menor precio?

A) \$52.413, \$52.431, \$52.341, \$52.314.

B) \$52.431, \$52.413, \$52.341, \$52.314.

C) \$52.413, \$52.431, \$52.314, \$52.341.

D) \$52.431, \$52.413, \$52.314, \$52.341.

3-El fin de semana se organizó un sorteo en el barrio, y estos fueron los números premiados:

7902 8036 2505

8793 7364 3870

2550 4210 9612

De la información presentada, se seleccionaron algunos números, ¿Cuál de ellas está representada correctamente por los signos?

A) $4210 < 8793 < 8036$

B) $9612 < 7902 < 3870$

C) $7364 < 8036 > 9612$

D) $2505 < 2550 < 3870$

Día 4

“ARGENTINA EN EL MUNDO”

-Observa el mapa de planisferio político



* La Argentina forma parte de diversos organismos internacionales, entre ellos la Organización de Estados Americanos (OEA) y la Organización de Naciones Unidas (ONU).

* Junto con Brasil, Uruguay, Paraguay, Venezuela y Bolivia, la Argentina forma parte del Mercosur, un bloque regional que busca mejorar los intercambios comerciales entre sus miembros.

*Nuestro país tiene un extenso litoral marino que la provee de recursos pesqueros y facilita el intercambio de mercadería con el resto del mundo, también exporta cereales, aceites, y semillas. Como así también maquinarias agrícolas.

-Contesta las siguientes preguntas:

A-¿La Argentina se encuentra al sur o al norte de la línea de Ecuador?

b-¿Que trópico atraviesa el territorio argentino?

c-Con relación a los otros países del mundo, ¿Argentina tiene una posición central o se encuentra relativamente aislada? ¿Por qué?

-Con la ayuda del diccionario, o google, explica el significado de las palabras “exportar” e “importar”.

Día 5

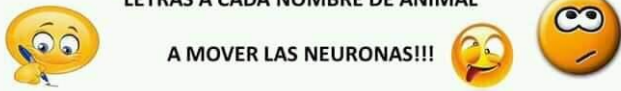
“RELIZAREMOS EJERCICIOS DE ASOCIACION PARA ENTRENAR EL CEREBRO”

AQUÍ VA UN ACERTIJO PARA EJERCITAR LA MENTE Y AYUDA A RAZONAR Y A TRABAJAR LA FLEXIBILIDAD NEURONAL Y TAMBIEN A PASAR LA CUARENTENA

| | |
|-------------------|------------------|
| 1- barca | 2- cordon |
| 3-usadme | 4- pariamos..... |
| 5- mihogar | 6- tutrago |
| 8- pilotean | 7- pasiva |
| 9- dorapelo | 10 – comas..... |
| 11- trapean | 12- grité..... |

EN CADA PALABRA HAY UN ANIMAL. NO LE SOBРАН NI LE FALTAN LETRAS A CADA NOMBRE DE ANIMAL

A MOVER LAS NEURONAS!!!



Falta uno del 0 al 9 ¿Cuál es?
FALTA EL 7

AQUÍ VA UN ACERTIJO PARA EJERCITAR LA MENTE Y AYUDA A RAZONAR Y A TRABAJAR LA FLEXIBILIDAD NEURONAL Y TAMBIEN A PASAR LA CUARENTENA

| | |
|----------------------|----------------------|
| 1- barca CABRA | 2- cordon CONDOR |
| 3-usadme MEDUSA | 4- pariamos MARIPOSA |
| 5- mihogar HORMIGA | 6- tutrago TORTUGA |
| 8- pilotean ANTILOPE | 7- pasiva AVISPA |
| 9- dorapelo LEOPARDO | 10 – comas MOSCA |
| 11- trapean PANTERA | 12- grité TIGRE |

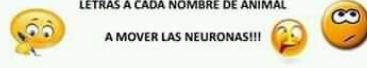
EN CADA PALABRA HAY UN ANIMAL. NO LE SOBРАН NI LE FALTAN LETRAS A CADA NOMBRE DE ANIMAL

A MOVER LAS NEURONAS!!!

**RESPUESTAS
ACTIVIDAD N°9**

T U M E N T E
T I E N E L A
I N M E N S A
H A B I L I D A D
D E O R D E N A R
E L C A O S

TU MENTE TIENE LA INMENSA HABILIDAD DE ORDENAR EL CAOS



SOPA EMOCIONAL 2

CONSIGNA: BUSCAR EN TODAS LAS DIRECCIONES POSIBLES Y MARCAR SOLO LAS 10 EMOCIONES QUE ENCUENTRES DE LA FAMILIA DE LA ALEGRÍA. TENES COMO REFERENCIA EL LISTADO PARA QUE DESCUBRAS CUALES DE ESAS ESTÁN EN LA SOPA.

| | | | |
|------------|--------------|-------------|-----------|
| CONTENTA | ENTUSIASMADA | ESPERANZADA | FELIZ |
| ALEGRÍA | AGRADECIDA | ANIMOSO | DISPUESTA |
| ILUSIONADO | RADIANTE | SATISFECHO | OPTIMISTA |
| CONFIADA | | | |

C O N T E N T A R E A P E J I W M L S
E N F J I T C R M R N R L C L P R Ñ A
A E T E N W T O A O I H C E U S A E T
C L T P L G H T D P M L M L S A D A I
O E E C L I L A O A O O A Z I N I N S
N T X G P T Z H A F S I D G O I A O F
F G E E R W U I P E O R A Ñ N E N A E
I A R U R I C R T L A A R L A G T W C
A K C O K G A A A P D D O D D T E H H
D M S N O T I T I D O E U I O E I B O
A S O U R U Z T A U O M A O O A Z U O
E L R F A G T E A C N O N P M O A A W
A D A M S A I S U T N E T P M O D R C
E U E S P E R A N Z A D A Ñ A R O P M

Lic. María Lorena Papaleo

Directora: Lic. María del Carmen Bustos