

Guía Pedagógica N°22 de Retroalimentación.

Grupo: N° 1

Escuela: Manuel Pacífico Antequeda CUE: 700040200

Docentes: Silvia Godoy, Carina Saavedra, María Trinidad Mestre, María Inés Llanos.

Docentes de Especialidades: Estela Tello, Beatriz Fernández.

Docentes Residentes: Gabriela Mestre, Daiana Zalazar, Johana Iñon, Eliana Argañaraz.

Grado: 3° A, B, C, D Año: 2020 Turno: Mañana Primer: Ciclo

Áreas: Matemática, Ciencias Naturales, Educación Física, Tecnología.

Título: “Marcando un buen día”

Contenidos

Matemática: Medidas de tiempo, Medidas de longitud, Situaciones problemáticas.

Ciencias Naturales: Materiales y sus transformaciones. Posición del sol a lo largo del día.

Tecnología: Diseño. Medidas. Motricidad.

Educación Física: Habilidades Motrices. Saltos. operaciones matemáticas

Indicadores de evaluación para la nivelación:

- Identifica las medidas de longitud.
- Conoce las medidas de tiempo.
- Reconoce las diferencias entre el día y la noche.
- Identifica los diferentes estados del agua.
- Analiza herramientas y máquinas utilizadas en los procesos productivos.
- Diseña estrategias para la resolución de situaciones problemáticas.

Desafío: Diseñar y construir un reloj en forma de sol con material reciclable que permita estimar y medir el tiempo en casa.

Actividades:




1-Lee y dibuja utilizando una regla.

María estuvo preparando el almuerzo con su mamá. Ella le pidió que cortara los fideos de 5cm, 15cm y 20cm y luego le pidió que los ordenara de menor a mayor. Ayuda a María a realizar la tarea que le dio su mamá dibujando los fideos.

2-Lee y responde dibujando las agujas del reloj.

María y su mamá empezaron a cocinar a las 11:00 horas, les tomó dos horas terminar con el almuerzo. ¿A qué hora terminó María el almuerzo?

- Marca en el reloj la hora que terminó María.
- Marca a qué hora inició.
- Si comenzaron almorzar a la 13hs y se demoraron 40 minutos ¿A qué hora terminaron de almorzar?




3-Observa y responde:

Para ayudar a su mamá María.

Se levantó a	7:00hs
Se bañó	8:30hs
Desayunó	9:00hs
Realizó la tarea	10hs

- ¿Cuánto tiempo transcurrió desde que se levantó hasta que desayunó?
- ¿Cuántos minutos transcurrió desde que se levantó hasta que se bañó?

4-Escribe la hora que corresponde



.....

.....

5-Lee y resuelve

- a) María y su mamá además de fideos caseros hicieron ravioles, pero el relleno les alcanzó solo para hacer 20 para 4 personas ¿Cuántos ravioles le tocará a cada uno?
- b) Si la tía y las primas no van almorzar ¿Cuántos ravioles les tocará ahora si son 2 los que van almorzar?

6_ ¿Qué es un reloj?

7_ ¿Cómo funciona un reloj?

8_ Nombra y anota en el cuaderno algunas clases de reloj

9_ Diseña un reloj con material reciclado. Por whatsapp se enviarán imágenes y videos del tema a desarrollar.

10- Lee con atención y luego responde.

María, un día tuvo mucha intriga a dónde se iba el agua, cuando su mamá tendía la ropa que lavaba. Ella pensaba que la vestimenta absorbía el agua por lo que dejaba de gotear, pero también recordaba que, si fuese así, no estaría seca, sino mojada.

a_ ¿Cuál es el estado del agua cuando gotea?

b_ Nombra los diferentes estados del agua.


11_ Lee y pinta la respuesta correcta.

Para transformar un material líquido en uno sólido debo exponerlo al:
Frío **Calor**


Para transformar algunos materiales sólidos en líquidos debo exponerlo al:
Calor **Frío**

12_ Señala con una cruz y justifica

“Si se expusieran estos objetos al sol o cerca de otra fuente de calor, como por ejemplo la cocina, ¿Cuáles se derretirían?”



14_ Escribe qué momento del día representa cada paisaje



Educación Física

15- Realiza el siguiente dibujo en el piso. ¡A jugar!



Para avanzar a través de saltos, debes resolver, cada consigna, que hay en los cuadros. Respeta los problemas de cada cuadro e inventa reglas con tu familia. Si aciertas los resultados y respondes correctamente las consignas podrás seguir avanzando.

Consignas: casillero N°1 resuelve 24×3 . N°2 repite la tabla del 4. N°3 $36 - 15$. N°4 $37 + 26$. N°5 nombra 3 actividades que realizas luego de desayunar. N°6 20×6 . N°7 $29 + 30$. N°8 repite la tabla del 5. N°9 $25 : 3$. N°10 nombra 3 actividades que realizas después de almorzar. N°11 $33 + 11 + 12$. N°12 $24 : 3$. N°13 36×3 . N°14 $34 + 28$. N°15 $63 - 33$. N°16 nombra 3 actividades que realizas luego de merendar. N°17 50×6 . N°18 repite la tabla del 7. N°19 15×5 . N°20 nombra 2 actividades que realizas luego de cenar.

Equipo Directivo: Directora: Stella Maris Oriz - Vice Directora: Mabel Ríos