

GUÍA N°24 DE RETROALIMENTACIÓN

ESCUELA: BARRIO EJÉRCITO DE LOS ANDES CUE7000971-00

DOCENTE: VIVIANA JULIO

GRADO: PRIMERO

TURNO: MAÑANA

CICLO: PRIMER **NIVEL:** PRIMARIO

ÁREA CURRICULAR: MATEMÁTICA- LENGUA- CIENCIAS SOCIALES- FORMACIÓN ÉTICA Y CIUDADANA.

DESAFÍO: "CONFECCIONAR UNA LÁMINA CON IMÁGENES DEL CAMPO Y LA CIUDAD, DETALLANDO LOS TRABAJOS QUE SE REALIZAN EN CADA CASO."

CONTENIDOS:

MATEMÁTICA NÚMEROS NATURALES HASTA EL 49. RELACIONES NUMÉRICAS. RESOLUCIÓN DE PROBLEMAS DE SUMAS Y RESTAS.

LENGUA: LA ESCUCHA COMPENSIVA DE TEXTOS LEÍDOS. LA LECTURA, COMPENSIÓN Y DISFRUTE DE TEXTOS LITERARIOS. LA ESCRITURA DE PALABRAS Y ORACIONES QUE CONFORMAN UN TEXTO.

CIENCIAS SOCIALES: COMPARACIÓN DEL CAMPO CON LA CIUDAD.

FORMACIÓN ÉTICA Y CIUDADANA: EDUCACIÓN EN VALORES.

INDICADORES DE EVALUACIÓN PARA LA RETROALIMENTACIÓN:

MATEMÁTICA: ORDENA SERIES NUMÉRICAS HASTA 49.

RESUELVE SITUACIONES PROBLEMÁTICAS.

LENGUA: COMPRENDE Y NARRA POESÍAS.

ESCRIBE PALABRAS EN FORMA AUTÓNOMA.

CIENCIAS SOCIALES: IDENTIFICA ACTIVIDADES URBANAS Y RURALES.

FORMACIÓN ÉTICA Y CIUDADANA: RECONOCE Y PONE EN PRÁCTICA LOS VALORES APRENDIDOS **GRUPO N° 2**

ACTIVIDADES

LUNES ÁREA LENGUA

1-LEE LA POESÍA CON AYUDA DE MAMÁ.

EN LA GRANJA DE MI ABUELO

"En la granja de mi abuelo,
la gallina y sus polluelos,
viven junto a las ovejas,
mamá vaca y su ternero.
También hay cerdos gorditos,
revolcándose en el barro,
y un burrito y un caballo,
que, juntos, tiran de un carro."



2-RESPONDE: ¿DE QUIÉN ES LA GRANJA? _____

3-COMPLETA CON LAS VOCALES QUE FALTAN EL NOMBRE DE LOS ANIMALES DE LA GRANJA.

G_LL_N_ P_LL_L_S _V_J_S V_C_ T_RN_R_
C_RD_S B_RR_ C_B_LL_

ÁREA MATEMÁTICA

1-MAMÁ TE DICTA UN NÚMERO Y VOS LO PINTAS EN EL CUADRO NUMÉRICO.

0	1	2	3	4	5	6	7	8	9
10	11	12	13	14	15	16	17	18	19
20	21	22	23	24	25	26	27	28	29
30	31	32	33	34	35	36	37	38	39
40	41	42	43	44	45	46	47	48	49

2-ESCRIBE NÚMEROS QUE CUMPLAN CON LA SIGUIENTE CONSIGNA.

MENORES QUE 30 MAYORES QUE

--	--	--	--

--	--	--	--

MARTES ÁREA CIENCIAS SOCIALES.

1-OBSERVA LA IMAGEN Y RESPONDE CON AYUDA DE MAMÁ.



¿QUÉ VES EN EL PAISAJE RURAL? _____

¿QUÉ VES EN EL PAISAJE URBANO? _____

ÁREA LENGUA.

1-COMPLETA LAS ORACIONES

EL CAMPESINO ORDEÑA A LA _____



LA SEÑORA ESPARCE LAS _____




LA PELUQUERA CORTA EL _____







MIÉRCOLES ÁREA MATEMÁTICA

1-COMPLETA LA SERIE DE 2EN 2

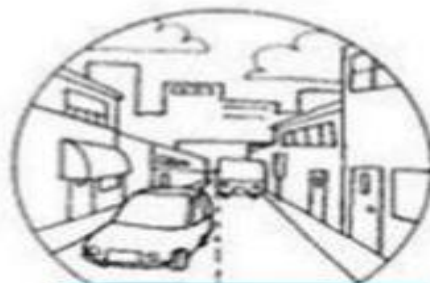


2-CUENTA LOS ZAPALLITOS Y COLOCA EL RESULTADO.

 $4 + 5 =$ _____	 $3 + 3 =$ _____
 $5 + 5 =$ _____	 $4 + 3 =$ _____

ÁREA CIENCIAS SOCIALES.

1-MAMÁ TE DICTA Y ESCRIBES DEBAJO DE CADA IMAGEN SI SE TRATA DEL CAMPO O LA CIUDAD.




2-COMO PUEDES ESCRIBES EL NOMBRE DE LAS HERRAMIENTAS QUE USAN EN EL CAMPO.



JUEVES ÁREA MATEMÁTICA

1-RESUELVE ESTE PROBLEMA.

CARLITOS ESTÁ FELIZ PORQUE EN EL KIOSCO SU PAPÁ LE COMPRÓ 8 CHUPETINES Y SU ABUELA LE REGALÓ 5 MÁS. ¿CUÁNTOS CHUPETINES TIENE AHORA?



2-DIBUJA LOS BILLETES Y MONEDAS A ESTOS ARTÍCULOS.



\$32



\$40



\$25

VIERNES ÁREA CIENCIAS SOCIALES Y FORMACIÓN ÉTICA Y CIUDADANA.

1-EN LA CIUDAD DEBES CAMINAR CON MUCHO CUIDADO POR LAS CALLES, MAMÁ TE DICTA UN CONSEJO DE ACUERDO A LO QUE VES EN LA IMAGEN.



DIRECTORA: ANDREA ONTIVEROS.

VICEDIRECTORA: FANNY MARTÍN.