

Pro.P.A.A. ZONA NORTE U.E.049

Docente: Laura Leiva

Coordinadora: Lic. Juanita Luna

PRIMER CICLO

Turno: Mañana

Título de la Propuesta: FAMILIAS MAYORES QUE 100

MATEMATICA

ACTIVIDADES A DESARROLLAR

APRENDEMOS A ESCRIBIR LAS FAMILIAS DE LOS CIENES EN GENERAL, LUEGO TOMAREMOS CADA UNA DE ELLAS Y TRABAJAREMOS COSTANTEMENTE PARA PODER CONOCERLAS MEJOR Y ASI LLEGAR A REALIZAR MUCHOS CALCULOS MATEMATICOS

100	cién
200	doscientos
300	trescientos
400	cuatrocientos
500	quinientos
600	seiscientos
700	setecientos
800	ochocientos
900	novecientos
1.000	mil

Pro.P.A.A. Zona Norte UE049 Primer Ciclo MATEMATICA

AHORA REPETIMOS EN EL CUADERNO LA MISMA FOTOCOPIA, PERO EN IMPRENTA MAYUSCULA

100 CIEN

200 DOSCIENTOS

300 TRESCIENTOS

400 CUATROCIENTOS

500 QUINIENTOS

600 SEISCIENTOS

700 SETECIENTOS

800 OCHOCIENTOS

900 NOVCIENTOS

UNE COMO CORRESPONDA TENIENDO EN CUENTA EL EJERCICIO ANTERIOR

iiiiii ATENCION, LEEMOS Y UNIMOS!!!!!!

700	SEISCIENTO
500	CIEN
300	NOVECIENTOS
200	SETECIENTOS
900	OCHOCIENTOS
100	QUINIENTOS
800	TRESCIENTOS
600	DOSCIENTOS

TENIENDO EN CUENTA LOS PUNTOS ANTERIORES VISTOS, REALIZAREMOS UNA PEQUEÑA EJERCITACION

EJERCITACION CO DECENA EXACTAS

1.- Ordena de mayor a menor

900 100 200 500 800 700 600 300 400

2.- Escribe el antecesor y sucesor de:

_____ 200 _____
 _____ 800 _____
 _____ 600 _____
 _____ 300 _____
 _____ 400 _____

3.- Escribe >, < o =

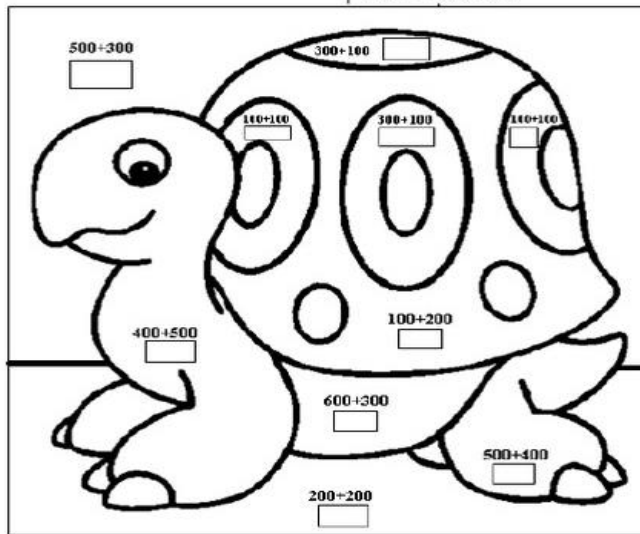
200 ○ 100
 600 ○ 900
 400 ○ 400
 100 ○ 10
 300 ○ 30

7.- Suma y colorea según el resultado:

300 = ROJO
 800 = CELESTE
 900 = AMARILLO
 400 = VERDE
 200 = ROSADO

4.- Escribe el nombre:

400= _____
 500= _____
 100= _____
 600= _____
 200= _____
 300= _____
 700= _____
 800= _____
 900= _____




5.- Resuelve estas adiciones:

+ $\begin{array}{r} 300 \\ 200 \end{array}$ + $\begin{array}{r} 200 \\ 200 \end{array}$ + $\begin{array}{r} 100 \\ 200 \end{array}$ + $\begin{array}{r} 700 \\ 200 \end{array}$ + $\begin{array}{r} 500 \\ 300 \end{array}$ + $\begin{array}{r} 400 \\ 400 \end{array}$ + $\begin{array}{r} 800 \\ 100 \end{array}$

6.- Resuelve estas sustracciones:

- $\begin{array}{r} 800 \\ 200 \end{array}$ - $\begin{array}{r} 900 \\ 200 \end{array}$ - $\begin{array}{r} 500 \\ 200 \end{array}$ - $\begin{array}{r} 700 \\ 100 \end{array}$ - $\begin{array}{r} 500 \\ 300 \end{array}$ - $\begin{array}{r} 400 \\ 400 \end{array}$ - $\begin{array}{r} 300 \\ 100 \end{array}$

ESCRIBI EL NÚMERO QUE CORRESPONDA EN CADA CASILLERO AHORA TENIENDO EN CUENTA LA FAMILIA DEL 100



COMPLETAR LAS GRILLAS DE NÚMEROS

+	1	2	3	4	5	6	7	8	9
100									
110									
120									
130									
140									
150									
160									
170									
180									
190									

Antecesor y sucesor

___ 100 ___	___ 101 ___	___ 102 ___
___ 110 ___	___ 121 ___	___ 132 ___
___ 140 ___	___ 151 ___	___ 162 ___
___ 170 ___	___ 181 ___	___ 192 ___
___ 103 ___	___ 114 ___	___ 124 ___
___ 150 ___	___ 167 ___	___ 176 ___
___ 184 ___	___ 191 ___	___ 198 ___

ENCIERRA EL NÚMERO MAYOR EN CADA CASO. OBSERVA EL EJEMPLO

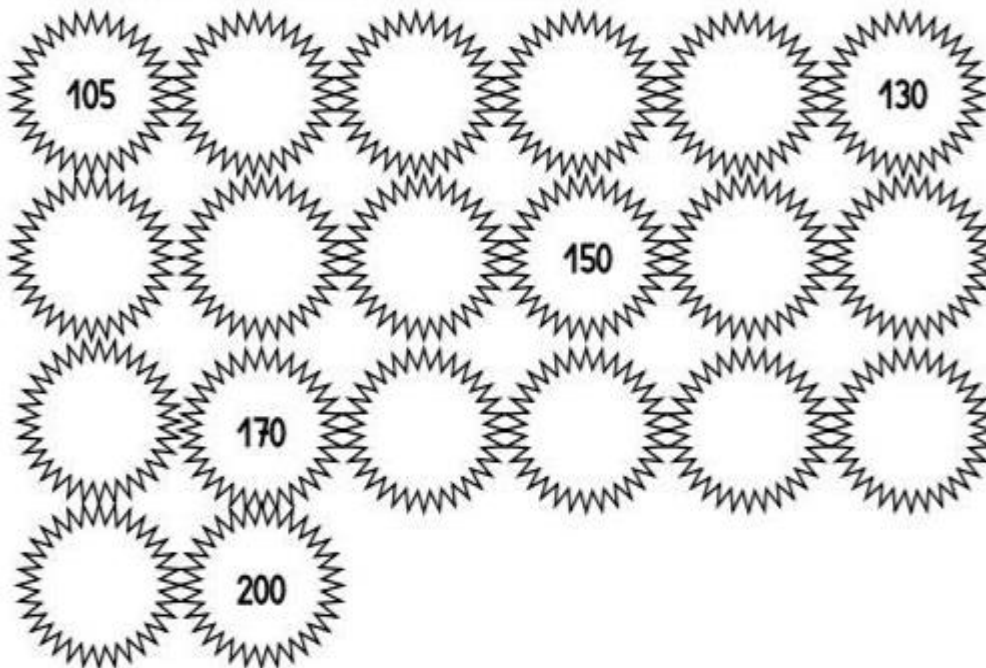
Pro.P.A.A. Zona Norte UE049 Primer Ciclo MATEMATICA

156	165	108	118	184	134
143	142	159	160	109	111
190	189	103	98	87	78
69	96	114	141	177	176

CUENTA DEL 102 AL 200 DE 2 EN 2

102				110					120
				130					140
				160					170
				180					190
				200					

CUENTA DE 5 EN 5 DESDE EL 100 AL 200



CUENTA DE 10 EN 10 DEL 100 AL 200

Pro.P.A.A. Zona Norte UE049 Primer Ciclo MATEMATICA

110				
				200

ENCIERRA CON UN CIRCULO AZUL LOS NUMEROS MAYORES QUE 150 Y CON UN CIRCULO ROJO LOS NUMEROS MENORES QUE 150

- | | | | | | | |
|-----|-----|-----|-----|-----|-----|-----|
| 145 | 65 | 178 | 56 | 132 | 169 | 89 |
| 200 | 160 | 110 | 138 | 10 | 28 | 152 |
| 146 | 134 | 99 | 167 | 77 | 123 | 45 |

PONLE PRECIO A CADA ARTICULO SEGÚN LO QUE SE INDICA



Trapero
\$
Entre 500 y 750



Basurero
\$
Entre 400 y 900



Arbolito
\$
Entre 800 y 1000



Cuaderno de papel reciclado
\$
Entre 400 y 600