

Guía Pedagógica N°24 de Retroalimentación GRUPO N°1**Escuela:** "Ángel D. Rojas"**CUE:** 700058300**Docentes:** Márquez, Mariela, Pérez, Alicia, Guilbert, María Soledad.**Grado:** 3° A, B y C **Turno:** Mañana**Fecha**23/11/20 al 27 /11/20.**Áreas Curriculares:** Matemática- Lengua -Ciencias Naturales**Contenidos: Lengua:** Texto narrativo no literario: Carta. Superestructura: partes. Aumentativos y diminutivos. Plural y singular de palabras.**Matemática:** Estadística: gráfico de barra. Situaciones problemáticas. Tablas. Geometría: cuerpos y figuras geométricas.**Ciencias Naturales:** Seres vivos: animales y plantas. Ciclo de Vida. Animales según su ambiente. Adaptación de los animales, su desplazamiento. Mezclas homogéneas y heterogéneas.**Indicadores de evaluación para la nivelación.****LENGUA**

- ✓ Identifica tipo de texto
- ✓ Reconoce partes de la carta.
- ✓ Identifica palabras que indican aumentativos y diminutivos.
- ✓ Escribe el plural de palabras.

MATEMÁTICA

- ✓ Lee, analiza e interpreta información a partir de un gráfico de barras
- ✓ Resuelve situaciones problemáticas relacionadas a las tablas de multiplicar.
- ✓ Reconoce cuerpos geométricos.
- ✓ Escribe características de los cuerpos geométricos.
- ✓ Identifica figuras geométricas.

CIENCIAS NATURALES

- ✓ Reconoce seres vivos: animales y plantas.
- ✓ Identifica y ordena las etapas del ciclo de vida.
- ✓ Clasifica animales según su tipo de ambiente
- ✓ Reconoce animales según su forma de desplazamiento.
- ✓ Identifica mezcla homogénea y heterogénea.

Desafío: Diseñar un Memo test con imágenes que representen el campo y la ciudad para jugar en familia.**Actividades****Lengua**1-Relee el cuento: El ratón del campo y la ciudad.2- Lee el siguiente texto que recibió el ratoncito de ciudad de su primo del campo.

San Juan, 10 de Noviembre.

Querido primo:

¡Hola soy tu primo del campo! Como hace tanto tiempo que no nos vemos quería invitarte a mi casita del árbol. Así conoces a mis amigos: el sapo, el cóndor, el zorro, la lombriz, el quirquincho, el conejo y los peces del río. Conocerás el paisaje de donde vivo, aquí es muy tranquilo, está lleno de hermosos árboles como eucaliptos, algarrobos, cactus, flores silvestres, jarillas y retamas.

Bueno te espero con un rico almuerzo de campo, pastelitos de choclo, un rico locro y de postre ensalada de fruta.

¡Te mando un fuerte abrazo! ¡Nos vemos pronto!
Tu primo del campo.

3-Encierra con color:

El texto leído es: Correo electrónico Noticia Carta

4-Colorea con color azul el encabezado y con color rojo la despedida.

5- Completa con el aumentativo y con el diminutivo.

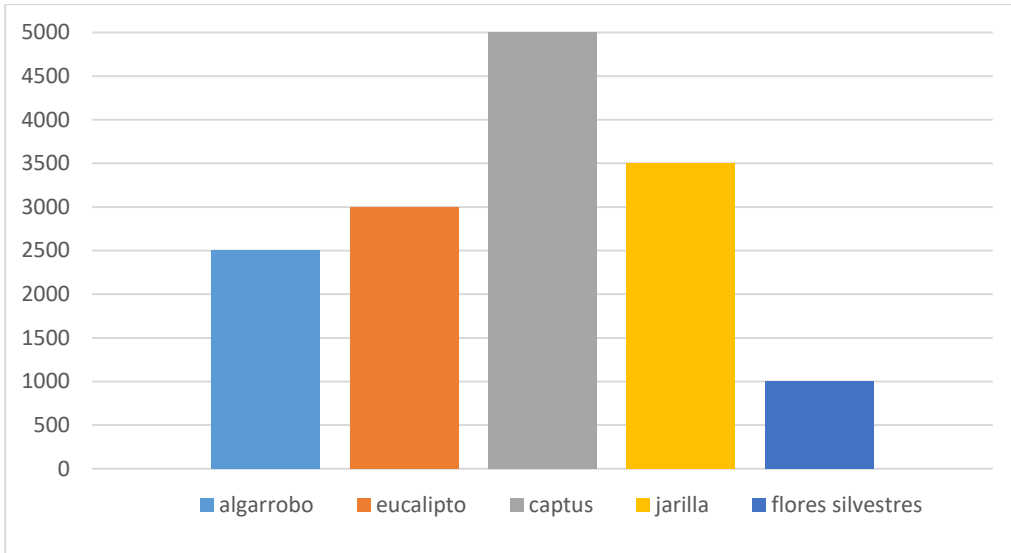
Aumentativo	Palabras	Diminutivo
_____	casa	_____
_____	tronco	_____
_____	árbol	_____
_____	amigo	_____

6- Escribe el plural de las siguientes oraciones:

- El paisaje es muy tranquilo.
- La lombriz es mi mejor amiga.
- Mi amigo, el pez, es muy juguetón.

Matemática

1-**Observa el siguiente gráfico** que muestra la cantidad de plantas de cada especie de donde vive el ratoncito de campo.



2-Analiza el gráfico y responde:

- a) ¿Qué tipo de planta hay en mayor cantidad?
- b) ¿Y las de menor cantidad, cuál es?
- c) ¿Cuál es la planta que tiene 3000 ejemplares?
- d) ¿Cuántas plantas hay en total entre eucaliptos y algarrobos?

3-Los amigos conejos del ratoncito viven en madrigueras, cada una con nueve integrantes por familia.

Madrigueras	1	2	3	4	5	6	7	8	9
Conejos	9								


Geometría:

1 Algunos objetos que son del campo y otros de la ciudad tienen formas geométricas:

- a) Une cada objeto con el cuerpo geométrico que lo representa



- b) Escribe el nombre de cada cuerpo geométrico.
- c) Coloca el nombre del cuerpo geométrico que representan estas imágenes.

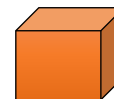


2- Elige un cuerpo geométrico y escribe tres pistas que permita indentificarlo:

Ejemplo:

Pistas:

1. Tiene todas sus caras iguales.
2. Tiene todas sus caras cuadradas.
3. Tiene seis caras en total.



3- Responde: Las tarjetas que armarás para el memo test tienen la forma de una figura geométrica. ¿Cuál es?:


Ciencias Naturales.

1- Relee la carta de la tarea de lengua y escribe los seres vivos que aparecen.

Completa el siguiente cuadro:

Plantas	Animales

2- Ordena el ciclo de la vida, numerándolos, de los siguientes seres vivos.



3- Clasifica los animales que nombra el ratoncito en la carta, según el ambiente donde viven.

Aeroterrestre

Terrestre

Acuático

4- Completa con los animales del punto tres, según su desplazamiento.

Se arrastra:

Camina:

Salta:

Vuela:

5- El ratoncito espero a su primo con pastelitos y de postre ensalada de fruta, completa con el tipo de mezcla donde corresponde: homogénea – heterogénea

Masa de los pastelitos

Ensalada de fruta

6- [Envía una foto de toda la tarea de Ciencias Naturales.](#)

7- Llegó la hora de terminar el memo test:

- Realiza tres tarjetas con paisajes rurales y tres con paisajes urbanos.
- Realiza tres tarjetas con medios de transporte de campo y tres de ciudad.

Una vez terminadas las tarjetas selecciona dos de cada tipo. Ejemplo: Dos de herramientas, una de ciudad y una de campo. Así con todas. Tendrás en total 12 tarjetas que mezcladas las colocarás boca abajo. El primer jugador dará vuelta dos tarjetas y si le toca de la misma clasificación, por ejemplo “herramientas”, las gana, de lo contrario las devuelve boca abajo en el mismo lugar. Gana el jugador que junte mayor cantidad de tarjetas. ¡A jugar! ¡Suerte!

[Envía la foto de tu memo test terminado.](#)

Directora: Laura Gil **Vicedirectora:** Gabriela Carrizo