

Escuela: CENS N°249 Cesar Hermogenes Guerrero

Docentes: Elizabeth Gonzalez, Miriam Perea.

Cursos: 1° año 1ª, 2ª, 3ª, 4ª división

Turno: Nocturno

Área Curricular: Historia y Geografía

**Título/Tema: Guía Pedagógica N°10 “Integración de contenidos”**

**Objetivo:**

-Integrar y repasar los contenidos de las guías 6, 7, 8 y 9.

**Capacidad a desarrollar:**

1. Comprensión lectora
2. Producción de textos
3. Resolución de problemas
4. Pensamiento crítico

**Metodología:**

**Contenido Seleccionado** (para leer y realizar las posteriores actividades):

- 1) En un mapa planisferio político marque:
  - a. Los continentes: Europa, Asia, América, Oceanía y África.
  - b. Los océanos: Atlántico, Pacífico, Índico, Glacial Antártico, Glacial Ártico.
  - d. Los paralelos y meridianos con nombre propio.
  - e. Explique, ¿qué es un mapa?
- 2) Elabore un esquema que explique las dos teorías del origen del hombre:



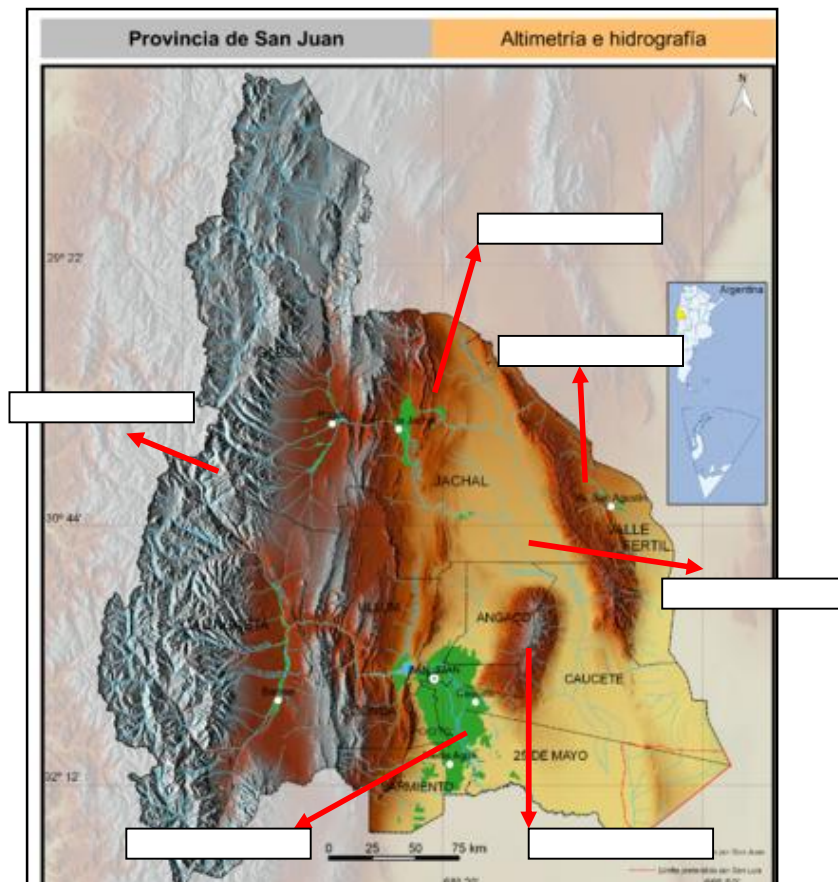
- 3) Una con flechas según corresponda:

- Australopitecos	35.000 años a.c
- Homo-erectus	100.000 años a.c
- Homo-sapiens sapiens	2.500.000 años a.c
- Homo-habilis	1.800.000 años a.c
- Homo-sapiens	4 millones de años a.c

4) Coloque Verdadero o Falso, de acuerdo a las formas de relieve y Tiempo -Clima:

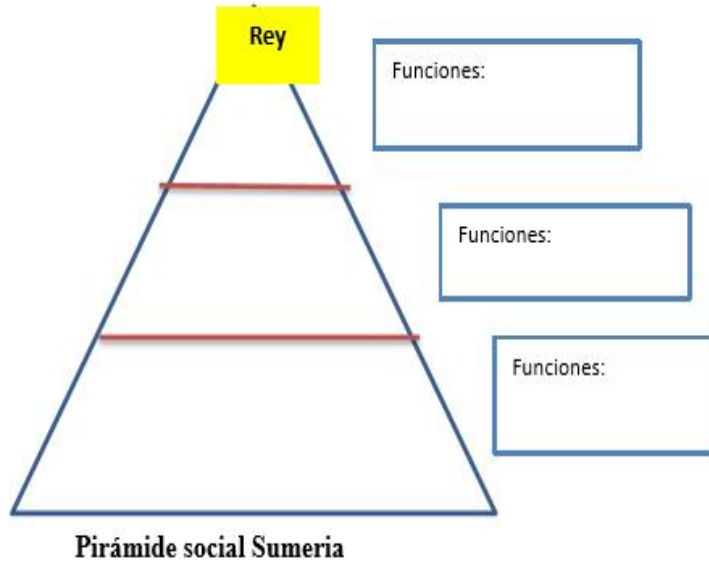
- ❖ Las masas de agua corresponde a la mayor parte de la superficie terrestre.....
- ❖ Las principales formas de relieve son las montañas y llanuras.....
- ❖ Las montañas son depresiones o partes bajas.....
- ❖ Las mesetas son relieves altos y antiguos con superficies planas.....
- ❖ Las llanuras son grandes extensiones de tierra que se encuentran a pocos metros sobre el nivel del mar.....
- ❖ El tiempo es el estado medio de la atmósfera que no cambia permanentemente.....
- ❖ El clima es el estado de la atmosfera que cambia permanente.....

5) Complete el siguiente mapa con los principales relieves de nuestra provincia:





6) Ordena la siguiente pirámide los diferentes grupos sociales que se encontraban en la sociedad sumeria. Ubicándolos de acuerdo a sus privilegios y describe cuáles eran sus funciones.

- ✓ Campeños.
- ✓ Artesanos.
- ✓ Esclavos.
- ✓ Sacerdotes
- ✓ Escritas



7) Observa las siguientes imágenes de la civilización “Mesopotámica” y coloca a qué características hacen referencia:





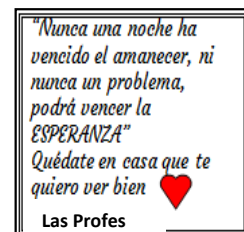
.....

**Evaluación:** se socializaran los temas a la vuelta de clases.



**A tener en cuenta:**

- Ante cualquier duda pueden contactarnos a través de correo electrónico o mensaje dewathssapp, de lunes a viernes:
- Prof. Elizabeth Gonzales: [elizabeth.gonzalez.2015@gmail.com](mailto:elizabeth.gonzalez.2015@gmail.com) o 2644173537.
- Prof. MirianPerea: [ffha28432@yahoo.com.ar](mailto:ffha28432@yahoo.com.ar) o 2645774670.



**DIRECTORA: PROF. ARREDONDO VERÓNICA**