

GUÍA DE RETROALIMENTACIÓN N°21

GRUPO 2

ESCUELA ANTONIA VILLASCUSA CUE 700025500

DOCENTES MÓNICA AGUILERA ÁVILA LILIANA MORETA GLADIS.

GRADO SEGUNDO A, B Y C TURNO MAÑANA

ÁREAS CURRICULARES LENGUA MATEMÁTICA CIENCIAS SOCIALES CIENCIAS NATURALES FORMACIÓN ÉTICA Y CIUDADANA.

TÍTULO ¡LLEGAMOS A LA META!

CONTENIDOS **MATEMÁTICA** NÚMEROS Y OPERACIONES: EL NÚMERO NATURAL HASTA 499, CONSTRUCCIÓN Y USO DE LA SUCESIÓN DE FORMA ORAL Y ESCRITA RESOLUCION DE SITUACIONES PROBLEMATICAS CON SUMAS. FIGURAS GEOMÉTRICAS **LENGUA** LA COMPRENSIÓN Y LA PRODUCCIÓN ORAL.LA ESCUCHA COMPENSIVA DE TEXTOS LEÍDOS O EXPRESADOS EN FORMA ORAL NARRACIONES.LA ESCRITURA AUTÓNOMA DE PALABRAS Y ORACIONES. EL RECONOCIMIENTO DE LA RED SEMÁNTICA EN TEXTOS LEÍDOS Y ESCUCHADOS VERBOS. RECONOCIMIENTO Y EMPLEO DEL ADJETIVO Y SUSTANTIVO GÉNERO Y NÚMERO **CIENCIAS SOCIALES** SOCIEDADES A TRAVÉS DEL TIEMPO FORMA DE VIDA TRABAJOS Y OFICIOS **CIENCIAS NATURALES** LOS SERES VIVOS LAS PLANTAS PARTES Y FUNCIONES **FORMACIÓN ÉTICA Y CIUDADANA** EN RELACIÓN CON LA REFLEXIÓN ÉTICA LOS VALORES Y SU PUESTA EN PRACTICA EN DIFERENTES SITUACIONES FAMILIARES Y SOCIALES

INDICADORES DE EVALUACIÓN.

ÁREAS	INDICADORES DE LOGROS
LENGUA	COMPRENDE E INTERPRETA TEXTOS LITERARIOS ACORDE A SU EDAD. IDENTIFICA EL GÉNERO Y NÚMERO DEL SUSTANTIVO. ESCRIBE DE FORMA AUTONÓMA PALABRAS Y ORACIONES.
MATEMÁTICA	IDENTIFICA NÚMEROS NATURALES HASTA 499. RESUELVE SITUACIONES PROBLEMATICAS APLICANDO LA ADICIÓN. RECONOCE FIGURAS GEOMETRICAS.
CIENCIAS NATURALES	DISTINGUE LAS PARTES DE LAS PLANTAS. RECONOCE LOS ELEMENTOS NECESARIOS PARA SU CRECIMIENTO.

CIENCIAS SOCIALES	IDENTIFICA LOS DIFERENTES TRABAJOS Y OFICIOS.
FORMACIÓN ÉTICA Y CIUDADANA	EMPLEA VALORES EN DIFERENTES CIRCUNSTANCIAS

DESAFÍO CONSTRUIR TU PROPIO JUEGO DE CARTAS.

ACTIVIDADES NO OLVIDES MANDAR ENVIDENCIAS FECHA 16/11 AL 18/11

TE INVITO A CERRAR LOS OJOS Y PENSAR EN LOS CUENTOS LEIDOS... AHORA ESCUCHA ATENTAMENTE EL SIGUIENTE LINK

<https://www.youtube.com/watch?v=Twm4UIYA4uQ&feature=youtu.be>

“DON ARBOLÓN”

LUEGO DE ESCUCHAR EL CUENTO RODEA LAS RESPUESTAS CORRECTAS

EL COLEGIO SE LLAMABA: ARBUSTOS

ÁRBOLES

DON ARBOLÓN: ABUELO

ÁRBOL VIEJO

DON ARBOLÓN UN DIA APARECIÓ: FLORIDO

SECO


LAS MAESTRAS LLAMARON A UN: CARPINTERO

JARDINERO


OBSERVA LAS SIGUIENTES CARTAS Y RESPONDE



308



326




499



110



425



489



130

- ¿QUÉ FORMAS TIENEN ESTAS CARTAS?. ESCRIBE SUS NOMBRES.
 - EXTRÁE LOS NÚMEROS DE LA FAMILIA DEL 400 Y COLOCA EL ANTERIOR Y POSTERIOR.
 - MIRA LA CARTA 489 QUE IMAGEN TIENE DI DE QUE GÉNERO (FEMENINO MASCULINO) ES.
 - SUMA LAS CARTAS QUE INDICAN UN TRABAJO U OFICIO
 - ¿QUÉ OTROS TRABAJOS CONOCEN? LISTALOS, DIBUJA DOS DE ELLOS.
- 1) ¿CÚAL DE LOS DOS JARDINEROS CURÓ AL ÁRBOL? ¿CÓMO LO HIZO? DIBUJA QUE ELEMENTOS NECESITA UNA PLANTA PARA CRECER
 - 2) MIRA LAS IMÁGENES DE LAS CARTAS CON FORMA DE TRIÁNGULOS Y REDACTA LINDAS ORACIONES.

RECUERDA LOS PERSONAJES DEL CUENTO Y ESCRIBE DOS ADJETIVOS A CADA UNO.

PINTA LOS VALORES PRESENTES EN EL CUENTO

AMOR PAZ RESPONSABILIDAD ODIO RESPETO HUMANIDAD

TE PROPONGO REALIZAR EL SIGUIENTE DESAFIO “CONSTRUCCIÓN DE JUEGO DE CARTAS” (NO OLVIDES ENVIAR EL VIDEO)

RECORTA FIGURAS GEOMETRICAS DE CARTÓN (DOS CUADRADOS, DOS CÍRCULOS, DOS TRIÁNGULO Y UN RECTÁNGULO, Y PÉGALAS EN LAS FIGURAS. (SERÁN ENVIADAS POR WHATSAAP)

MAMÁ TE LEERÁ LAS CONSIGNAS, MIENTRAS REALIZA EL VIDEO PARA QUE DEMUESTRES TODO LO APRENDIDO.

¡AHORA A JUGAR! CONSIGNAS

- COLOCA TODAS LAS CARTAS SOBRE LA MESA.
- SELECCIONA LAS CARTAS QUE SON TRIÁNGULOS ¿QUÉ GÉNERO TIENEN (MASCULINO – FEMENINO) Y QUÉ NUMERO (SINGULAR – PLURAL)?
- BUSCA EN LAS CARTAS LAS IMÁGENES QUE TIENEN UN OFICIO Y DÍ QUE FIGURAS GEOMETRICAS TIENE CADA UNA
- ¿CÚAL ES LA CARTA QUE TIENE EL NÚMERO MENOR?
- ELIGE UNA CARTA Y NOMBRA TRES ADJETIVOS
- CARTA NOMBRA EL ANTERIOR Y POSTERIOR DE ESE NÚMERO.
- SELECCIONA LA CARTA CON EL NÚMERO 489 ¿QUÉ IMAGEN TIENE? ¿POR QUÉ ESTABA ASI? NOMBRA QUE ELEMENTOS NECESITA LAS PLANTAS PARA VIVIR

¡GRACIAS POR TU COMPROMISO Y PARTICIPACIÓN!!



DIRECTORA: PROF SUSANA LINARES