

ESCUELA NOCTURNA ERNESTO A. BAVIO Ciclo: Segundo Áreas: Matemática – Lengua Ciencias Sociales – Ciencias Naturales – Formación Ética – Formación Trabajo

ESCUELA: NOCTURNA ERNESTO A. BAVIO.

DOCENTE: GUILLERMO ANDRÉS OVIEDO.

TURNO: VESPERTINO

TÍTULO DE LA PROPUESTA:” NUESTRO LUGAR”

ÁREAS: Matemática – Lengua - Ciencias Sociales y Naturales - Formación Ética y Ciudadana - Formación para el Trabajo.

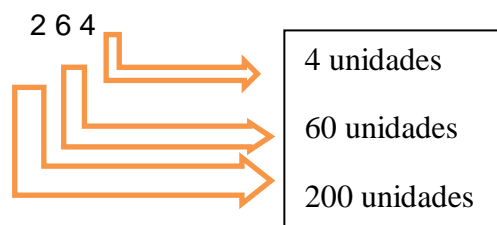
Contenidos: Numeración - Valor Posicional – Operaciones – Las Palabras: Vocales, Consonantes – Actividades económicas: Primarias, Secundarias... Biodiversidad – Ecosistemas – Valores – Importancia del Trabajo

DESARROLLO DE ACTIVIDADES:

MATEMÁTICA:

1)- NUMERACIÓN VALOR POCIONAL – OPERACIONES

a- Una de las características de nuestro sistema decimal consiste en ser posicional, ya que el valor de cada cifra depende de la posición que esta ocupe dentro de un número. Ejemplo.



2)- ESCRIBE EL VALOR DE CADA DIGITO SUBRAYADO. (SIGUE EL EJEMPLO)

<u>3</u> 87	300
21 <u>6</u>	
5 <u>3</u> 2	
89 <u>4</u>	
<u>9</u> 71	
6 <u>4</u> 5	
7 <u>5</u> 6	
6 <u>6</u> 6	
3 <u>7</u> 1	
1 <u>9</u> 4	
3 <u>2</u> 0	
4 <u>8</u> 3	
8 <u>2</u> 8	
9 <u>1</u> 9	
2 <u>6</u> 2	

3- IDENTIFICA LA POSICIÓN QUE OCUPA EL NÚMERO SUBRAYADO SEGÚN SEA: UNIDADES, DECENAS O CENTENAS.

	Posición
67 <u>5</u>	unidades
<u>5</u> 96	
45 <u>9</u>	
<u>9</u> 46	

	Posición
2 <u>1</u> 1	
<u>1</u> 21	
28 <u>3</u>	
7 <u>3</u> 2	

4- ORDENA CADA OPERACIÓN Y RESUELVE. ☺ RECUERDA UBICAR CADA NÚMERO EN SU POSICIÓN DE UNIDAD, DECENA O CENTENA.

131+45+230=

400+128+371=

589+100+301=

896 – 586=

749-347=

456-233=

5- COMPLETA.

EL DOBLE DE 30 ES..... EL DOBLE DE 9 ES..... EL DOBLE DE 15 ES.....

LA MITAD DE 90 ES..... LA MITAD 200 ES..... LA MITAD DE 420 ES.....


LENGUA:

1)- COMPLETA LOS SIGUIENTES CUADROS.

a- PINTA LA PALABRA CORRECTA.

	TIJERAS TINAJA		COJÍN CONEJO
	ROJA HOJA		AGUJA AJOS
	JARABE JARRA		JUEGO JAULA

UNE CON FLECHAS.



PIPA

PAPÁ

PIE

PIO

COMPLETA CON LA LETRA P.



__E__A



__ÚA



__E__E



AU__A

b- COLOREA EN CADA CUADRO LA PALABRA QUE MEJOR DESCRIBA AL DIBUJO.

1. carro botas balón higo		2. barba elefante billete dolor	
3. kiosco burro iglesia bate		4. bolsa brazo león gato	
5. mar bruja blusa ardilla		6. bastón casa basura foca	

1. tortuga tren sal mamá		2. guante toro tabla iglú	
3. dulce bolsa tomate tienda		4. carro trueno televisión puente	
5. taza burro fuerte tesoro		6. juguete trompo triste abanico	

1. bolsa foca flor piedra		2. raíz fuerte nariz falda	
3. fuego anillo flauta baño		4. fresa Felipe barro sol	
5. fuente yo-yó burro fruta		6. monstruo panda foca feliz	

1. sol sandía cámara dulce		2. cortinas sal sala burro	
3. dragón salsa horno sapo		4. selva fuerte siete casa	
5. sombrilla silencio dólar lámpara		6. bote serpiente saltar estrella	

2)- BUSCA Y RECORTA PALABRAS QUE COMIENCEN CON: B- T- F- S

CIENCIAS SOCIALES.


1)- TRATA DE LEER EL SIGUIENTE TEXTO, Y SI NO PUEDES, HAZLO CON ALGUIEN QUE TE AYUDE Y COMÉNTALO.

SE LLAMA **ACTIVIDAD ECONÓMICA** A CUALQUIER ACTIVIDAD LABORAL DONDE SE GENERAN E INTERCAMBIAN PRODUCTOS, BIENES O SERVICIOS PARA CUBRIR LAS NECESIDADES DE LAS POBLACIONES. LA ACTIVIDAD ECONÓMICA PERMITE LA GENERACIÓN DE RIQUEZA DENTRO DE UNA COMUNIDAD (CIUDAD, REGIÓN Y PAÍS) MEDIANTE LA EXTRACCIÓN, TRANSFORMACIÓN Y DISTRIBUCIÓN DE LOS RECURSOS NATURALES O BIEN DE ALGÚN TIPO DE SERVICIO.

LAS ACTIVIDADES ECONÓMICAS ABARCAN TRES FASES: PRODUCCIÓN, DISTRIBUCIÓN Y CONSUMO. COMO LA PRODUCCIÓN DEPENDE DEL CONSUMO, LA ECONOMÍA TAMBIÉN ANALIZA EL COMPORTAMIENTO DE LOS CONSUMIDORES CON RESPECTO A LOS PRODUCTOS.

ALGUNAS ACTIVIDADES ECONÓMICAS SON LA AGRICULTURA, LA GANADERÍA, LA INDUSTRIA, EL COMERCIO, Y LAS COMUNICACIONES.

Colorea los sitios que hay en tu barrio y escríbeles el nombre.



FORMACIÓN PARA EL TRABAJO:

1)- ¿EL TRABAJO DE CADA PERSONA INFLUYE EN LA ACTIVIDAD ECONOMICA?
¿POR QUÉ?

2)- ESCRIBE LOS DISTINTOS OFICIOS Y PROFECIONES.


CIENCIAS NATURALES: 1)- BIODIVERSIDAD

Es la cantidad y variedad de organismos que hay en el planeta. La especie humana depende de la diversidad biológica para su supervivencia. Por lo tanto se puede considerar a la diversidad biológica como un sinónimo de vida sobre la Tierra. Hasta el momento, se estima, que se han identificado, 1.7 millones de especies, sin embargo, todavía se desconoce el número exacto de especies presentes en nuestro planeta.

2)- OBSERVA COMO ESTAN COMPUESTOS LOS ECOSISTEMAS Y DIBUJA UNO CON PLANTAS Y ANIMALES QUE SON DE ESTA ZONA.

LOS ECOSISTEMAS

Un ecosistema es el conjunto formado por los seres vivos de un lugar, el medio físico en el que habitan y las relaciones que se establecen entre estos



FORMACION ETICA Y CIUDADANA.

1)- CONOCES ALGUNOS VALORES

2). LEE LOS VALORES Y PENSAMOS COMO OCUPAMOS ESTOS VALORES PARA VENCER LA PANDEMIA DEL CORONA-VIRUS.

☺ **AMOR**: VIVO AFECTO O INCLINACIÓN HACIA UNA PERSONA O COSA. VALOR POSITIVO DE GRAN AFECTO ENTRE PERSONAS.

☺ **COMPROMISO**: RESPONSABILIDAD U OBLIGACIÓN QUE SE CONTRAE.

☺ **OBEDIENCIA**: CUMPLIMIENTO DE LA VOLUNTAD DE LA PERSONA QUE MANDA, DE LO QUE ESTABLECE UNA NORMA O DE LO QUE ORDENA LA LEY.

☺ **RESPONSABILIDAD**: CAPACIDAD DE COMPROMISO O DE CUIDADO DE UNA PERSONA CONSIGO MISMA Y CON TODO LO DE ALREDEDOR.

☺ **VALENTÍA**: VALOR, ENERGÍA Y VOLUNTAD PARA AFRONTAR SITUACIONES DIFÍCILES O ADVERSAS.

☺ **GENEROSIDAD**: CUALIDAD DE LA PERSONA QUE AYUDA Y DA LO QUE TIENE A LOS DEMÁS SIN ESPERAR NADA A CAMBIO.

3)- TE ANIMAS A ESCRIBIR COMO OCUPAMOS ESTOS VALORES PARA VENCER LA PANDEMIA DEL CORONA-VIRUS