

**DOCENTE RESPONSABLE:** Prof. Claudia Rizo

**GRADO:** TERCERO”B”

**TURNO:** TARDE

**TÍTULO:**”Al Gran Maestro de América”

**ÁREAS CURRICULARES:** Ciencias Sociales, Matemática, Música, Computación,

*Tecnología, Teatro, Cerámica*

**CONTENIDOS:**

**CIENCIAS SOCIALES**

- 11 de Setiembre:” Día del Maestro de América”

**MATEMÁTICA:**

- Números naturales hasta 300.000: representación en la recta numérica.
- Relaciones de mayor, menor, entre, siguiente.
- Cuerpos geométricos: cubo, prisma, cilindro, esfera, cono, pirámide.

**Día 1 :**

**¡Seguimos aprendiendo un poco más de nuestros próceres y sus obras!**

Lee con mucha atención la biografía del Gran Maestro de América.

Domingo Faustino Sarmiento nació en San Juan el 15 de febrero de 1811.

Su papá, José Clemente, era un valiente soldado y su mamá Doña Paula Albarracín una excelente tejedora de telar.

Su escuela se llamó”Escuela de la Patria” y en ella Sarmiento se destacó como un buen alumno, aunque apenas tenía cinco años.

Unos años más tarde completó sus estudios con su tío, el cura José de Oro.

Se mudó a la provincia de San Luis donde fundó una escuela para enseñales a leer y a escribir a otras personas.

En el año 1827, Sarmiento, perseguido por sus ideas, se fue a vivir a Chile, nuestro país vecino, donde se desempeñó como minero y maestro.

## E.E.E.HEBE ARCE DE VIDELA DE ORO

Luego de muchos años, regresó a nuestro país y trabajó de escritor, maestro y periodista. Hasta llegó a ser Presidente de la Nación. Realizó muchas obras importantes.

El 11 de septiembre del año 1888, falleció en el Paraguay.

Une correctamente los datos sobre la vida de Sarmiento teniendo en cuenta lo leído.

- |                            |  |
|----------------------------|--|
| • Paraguay                 | Sarmiento viajó a Chile                  |
| • 15 de febrero de 1811    | Nombre de la escuela que asistió de niño |
| • José de Oro              | Fecha de su muerte                       |
| • San Juan                 | Fecha de su nacimiento                   |
| • Año 1827                 | Tío y maestro de Sarmiento               |
| • San Luis                 | Provincia donde fundó su primera escuela |
| • Escuela de la Patria     | Provincia donde nació                    |
| • 11 de septiembre de 1888 | País donde murió                         |

**ÁREA:** Música

**DOCENTE:** Lucía Fúnez

**CONTENIDO:** Género “Vocal”

1- Actividades: como están espero que bien; el trabajo que vamos a realizar nos servirá para sonorizar un texto (realizar una serie de efectos sonoros para acompañar un texto)

1-RECORDAMOS EL TEXTO “AL LIBERTADOR”SE ENVIÓ EN LA GUÍA ANTERIOR

2-ESCUCHAMOS EL SIGUIENTE AUDIO <https://youtu.be/Nm3Pi2d5KSo> (SI NO TIENES INTERNET ACCEDER AL AUDIO EN EL GRUPO DE WHATSAPP DE PADRES)

**DÍA 2:** Copia y busca en la sopa de letras, algunas de las profesiones y oficios que desempeñó Sarmiento a lo largo de su vida.

P	E	R	I	O	D	I	S	T	A
M	O	Y	A	S	D	L	O	P	M
S	I	N	T	Q	U	I	E	R	I
A	V	U	E	R	T	A	S	U	N
M	A	E	S	T	R	O	A	N	E
C	O	E	S	C	R	I	T	O	R
B	I	L	E	N	T	A	R	I	O
P	R	E	S	I	D	E	N	T	E

## E.E.E.HEBE ARCE DE VIDELA DE ORO

**ÁREA:** Música

CONVERSAMOS CON UN FAMILIAR DONDE PODEMOS ESCUCHAR LOS SONIDOS DEL AUDIO (SE ENVIÓ EN LA GUÍA ANTERIOR) POR EJEMPLO SAN MARTÍN CRUZÓ LA CORDILLERAS ¿EN ESE LUGAR SE PUEDE ESCUCHAR EL SONIDO DEL VIENTO, LLUVIA, ETC.

BUSCAMOS EN CASA OBJETOS SONOROS QUE IMITEN LOS SONIDOS DEL AUDIO. UNA VEZ QUE CONSIGAN LOS OBJETOS SONOROS INVESTIGAR COMO PRODUCIR DIFERENTES SONIDOS. ¡¡SUERTE!! □

**EJEMPLO: EL SONIDO DEL VIENTO SE PUEDE IMITAR USANDO UNA BOTELLA (SOPLAR EN EL PICO DE LA BOTELLA).**

**DÍA 3:**

¡Conozcamos más sobre sus obras! Selecciona tres obras que consideres las más importantes y explica el por qué de tu elección.



**ÁREA:** Tecnología: Productos tecnológicos

Observa las imágenes y menciona que producto tecnológico utiliza tu seño:

## E.E.E.HEBE ARCE DE VIDELA DE ORO



### DÍA 4:

Lee las referencias y completa con las palabras correspondientes.

- |  |  |
|--|--|
| 1) Provincia natal de Sarmiento.         | 6) País limítrofe en el que se exilió.                                   |
| 2) Apellido de su madre.                 | 7) Nombre de su padre.   |
| 3) Ocupación por la cual publicó libros. | 8) Profesión por la que se lo recuerda cada<br>11 de septiembre.         |
| 4) Nombre de su hijo.                    | 9) Nombre de uno de los periódicos, igual<br>Que el de un viento cuyano. |

- 1    **S** \_ \_ \_ \_ \_
- 2    \_ \_ \_ **A** \_ \_ \_ \_ \_
- 3    \_ \_ \_ **R** \_ \_ \_ \_
- 4    \_ \_ **M** \_ \_ \_ \_ \_ \_ \_
- 5    \_ \_ \_ \_ **I** \_ \_ \_ \_ \_
- 6    \_ \_ \_ \_ **E** \_ \_ \_ \_
- 7    \_ \_ \_ \_ \_ **N** \_ \_
- 8    \_ \_ \_ \_ \_ **T** \_ \_
- 9    \_ **O** \_ \_ \_ \_

**ÁREA:** Tecnología

Escribe que elementos utiliza la seño en la escuela:

## E.E.E.HEBE ARCE DE VIDELA DE ORO



### DÍA 5:

Ubica los siguientes números en la recta numérica ordenándolos de menor a mayor:

85.000

205.720

183.000

299.000

69.700

78.500

---

### ÁREA: Computación

**Contenidos:** Domingo Faustino Sarmiento

1-Observamos el Video.



videoplayback (6).mp4

<https://youtu.be/MquqpqidF3s>



### DÍA 6:

Escribe con letras el nombre de los números del punto 6.

**ÁREA:** Teatro

**Contenido:** Desarrollo de la expresividad

Juego "El mundo al revés", ideal para jugar con los hermanos o amigos.

## E.E.E.HEBE ARCE DE VIDELA DE ORO

Nuestro mago nos toca a todos con su varita mágica en la cabeza, y resulta que todo lo que nos manda a hacer lo hacemos al revés....El mago irá dando órdenes que los niños deberán cumplir al revés: Me quedo quieto, me siento, me tumbo, voy andando, corro, lloro, me río, camino rápido, camino despacio, vamos todos de la mano, nos soltamos, me estiro, me encojo....Variaciones: serán los niños de uno en uno quienes darán las órdenes.

### DÍA 7:

Escribe el número que le sigue:


123.000..... 85.345.....

286.500..... 99.123.....

114.000..... .239.654.....

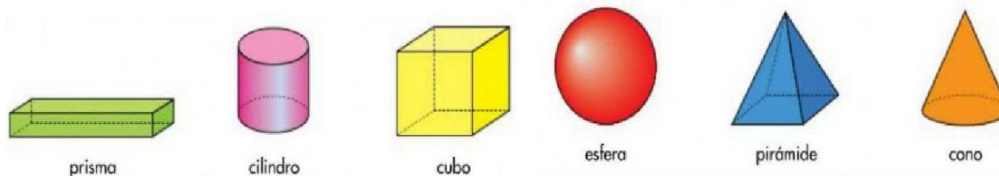
### ÁREA: Computación

2- Ahora ordenamos cronológicamente la vida del Padre del Aula, Domingo Faustino Sarmiento.



### DÍA8: ¡Aprendemos un poco más!

Todas estas figuras son cuerpos geométricos



## E.E.E.HEBE ARCE DE VIDELA DE ORO

Mira los objetos que te rodean en casa, y escribe cuales se parecen al:

Cilindro:

Esfera:

Prisma:

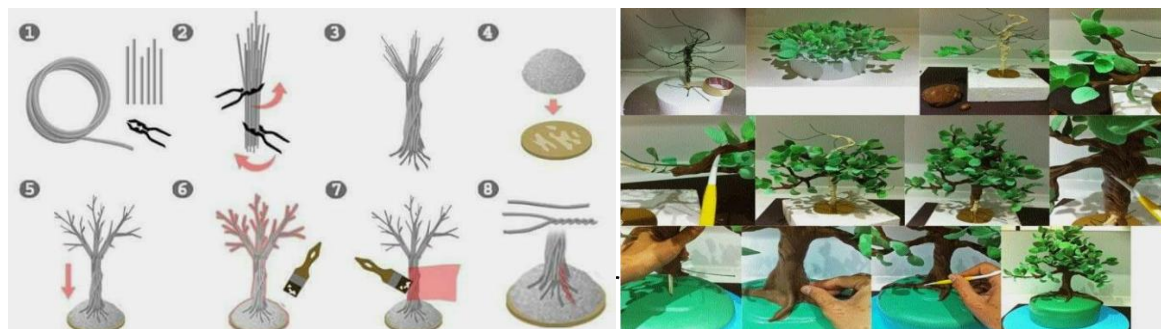
**ÁREA:** Cerámica

**Título:** Conmemoración a Sarmiento.

**Contenido:** Modelado de la higuera de Doña Paula

1- Primero buscar alambre que sea blando, cortar el alambre de 20 cm de largo, cortar unos 6 alambres si es fino, si el alambre es grueso cortar 3, después unirlos por un extremo entrelazándolo. Ahora estirar la masa para modelar y cortar un círculo, y colocar los alambres sobre la masa comenzando a cubrir los alambres con la masa formando el tronco de la higuera y las ramas. Después ir cortando pedacitos de masa y con los dedos formar las hojas de la higuera e ir colocándolas.

Luego dejarla secar en un lugar seguro.



### **DÍA 9:**

Tiene forma de:(escribe esfera, cilindro, pirámide, cono, prisma o cubo), debajo de cada elemento.

E.E.E.HEBE ARCE DE VIDELA DE ORO

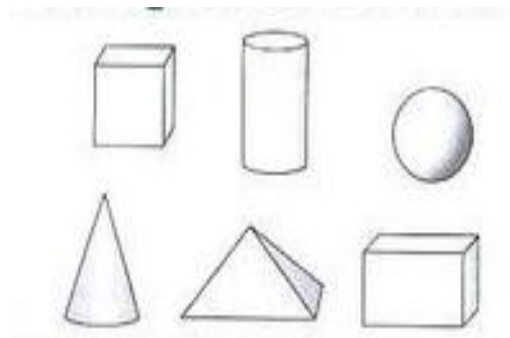


**ÁREA:** Cerámica

2-Una vez que observaron que las piezas están bien secas procedemos a pintarlas.

**DÍA 10:**

Encerra en un círculo los cuerpos geométricos que pueden rodar.



12-Observa el dibujo, cuenta y escribe cuántos hay de cada uno.

