

## Guía Pedagógica Nº 2

**Actividades de Profundización: Desde : 07/06/2021 Hasta: 11/06/2021**

**Desafío: Escribir una breve historia.....**

### **Capacidades:**

✚ Resolución de problemas: analizar y resolver problemas mediante habilidades comunicativas y de cálculo en diferentes niveles de complejidad

✚ Comunicación: comprender relatos e información escrita en diferentes tipos de textos

✚ Buscar y seleccionar información .

### **Contenidos:**

**Lengua:** La escritura de textos en el marco de condiciones que permitan planificar el texto en función de los parámetros de la situación comunicativa y del texto elegido .

Reformulación de textos utilizando expresiones más generales y conectando adecuadamente las ideas.

**Matemática:** Resolución de situaciones problemáticas, expresiones decimales uso de expresiones decimales en la vida cotidiana. Relaciones de mayor, igual , menor anterior , siguiente , entre.

**Ciencias Sociales: LAS SOCIEDADES LA ORGANIZACIÓN LOS ESPACIOS GEOGRAFICOS .**

El reconocimiento de los diferentes espacios rurales y urbanos de la provincia.

**DIA 1:**

**AREA MATEMATICA :**

1 Completa la Tabla sabiendo que todas las cajas tienen la misma cantidad de alfajores.

CAJAS	1	2	3	10	12
ALFAJORES			24		

**2 RESUELVE :**

Compré un TV. Pagué 10 cuotas de \$138.

¿Cuánto me costo?



1.-Ana quiere repartir equitativamente 20 pastillas en 5 bolsas. ¿Cuántas pastillas alcanzan en cada bolsa?



7.-A la función del circo asistieron 800 personas entre niños y adultos. Si 267 eran adultos. ¿Cuántos eran niños?



2.-La mamá de Patricio tenía que comprar una caja de lápices para sus tres hijos. Si cada caja costaba \$310. ¿Cuánto gasta al comprar las 3 cajas de lápices?



8.-Juan vende globos en la plaza de Lirquén. Si cada uno cuesta \$50. ¿Cuánto gana si vende los 5 globos?



3.-Gabriela compró 4 helados. Si cada uno cuesta \$150. ¿Cuánto dinero gastó en total?



9.-Sebastián tenía guardado 5 monedas de \$100, 3 monedas de \$50 y 4 monedas de \$10. ¿Cuánto dinero tenía en total Sebastián?



## DIA 2

### AREA LENGUA :

#### LEE EL SIGUIENTE TEXTO

**EL PEQUEÑO LOBITO**

El pequeño lobito había quedado huérfano y papá sol y mamá luna decidieron adoptarlo, un día lobito quedó al cuidado de papá sol, pero papá sol se distrajo porque pasó una nube por enfrente de él. Y lobito se perdió en el bosque oscuro en donde papá sol no podía verlo, papá sol lo buscó todo el día pero no encontró a lobito, por la tarde ya cansado y vencido acudió a mamá luna, quien salió apresurada con todo su esplendor al caer la noche y comenzó a llamar a su lobito. Mientras lobito que estaba muy asustado en lo profundo del bosque subió a lo alto de unas rocas y comenzó a llamar a su madre con un grito fuerte y claro que retumbaba en todas partes y así mamá luna y lobito se encontraron, ella dándole luz con todo su amor para guiarle y él aullando para avisarle donde está.



#### 1 – RESPONDO

DE QUE TRATA EL TEXTO ? ¿ QUE PASA PRIMERO ? ¿ QUE PASA DESPUES ?

¿ COMO TERMINA ?

¿ QUE TIPO DE TEXTO ES ?

2 – MARCA EN EL TEXTO SUSTANTIVOS , ADJETIVOS Y VERBOS

3 – INVENTA UN NUEVO FINAL PARA EL CUENTO.

DIA 3

AREA CIENCIAS SOCIALES :

ACTIVIDADES

ESCRIBE DEBAJO DE CADA DIBUJO SI SE TRATA DEL CAMPO O A LA CIUDAD

Below each illustration is a rectangular box for writing the answer.

2 ESCRIBE CARACTERISTICAS TIENE EL ESPACIO DONDE VIVES

**3 - PEGA ALGUNA IMAGEN DEL TU ESPACIO**

**4 - DIBUJA LO QUE MAS TE GUSTA DE TU ESPACIO**

**DIA 4**

**AREA MATEMATICA**

1 Completa el cuadro.

Número	Descomponer	Como se lee
63.417		
58.079		

**2 RESUELVE**

✚ Si gastó \$88 en una pelota y \$10 en una calcomanía, gastará más que si comprara una calcomanía de \$10 y dos pelotas de \$ 44 cada una.

.....

Tres amigos fueron al cine .Gastaron \$ 244en entradas, \$126 en pochoclos y más tarde cenaron hamburguesas por \$104 .Tiene en cuenta como calcularon los chicos el gasto total de la salida e indica quien o quienes tienen razón.

El gasto total fue  
 $\$244 + \$230$   
LORE

Yo creo que gastamos  
 $\$104 + \$370$   
ILJANI

Me parece que nos costo  
 $\$350 + \$104$   
PILI

D

## AREA MATEMATICA

### RESUELVE

- Julieta compró 10 paquetes de perlitas como el de la ilustración para hacer collares. Si cada collar lleva 100 perlitas, ¿Para cuántos collares le alcanza?



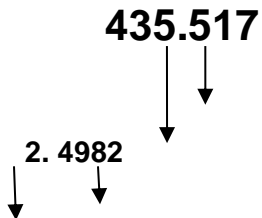
Arma el número más grande que sea posible usando todas las cifras



- Escribe como se lee el número que formaste.
- Descompone el número de las formas que ya sabes.

### RESUELVE

Valor posicional. Solamente del número 5.



12.779


DIA 6

## CIENCIAS SOCIALES


**Ciudad y campo**

Escribe las características del campo y la ciudad.

**Ciudad**



**Campo**



Handwriting lines for describing the city and the field.

**AREA LENGUA**

**1 BUSCA Y PEGA UN CUENTO NARRATIVO CORTO**

**2 MARCA EN EL CUENTO**

- PARRAFOS
- ORACIONES
- SUBRAYA ADJETIVOS ( COLOR VERDE)
- SUSTANTIVOS ( COLOR AZUL )
- VERBOS ( COLOR ROJO )

**Actividades de profundización**

**EDUCACIÓN FÍSICA**

Actividades

- 1- Teniendo en cuenta la realizado en guía anterior en base a las capacidades condicionales , busco la definición de :

- Fuerza:
- Velocidad:
- Resistencia:
- Flexibilidad:

## **EDUCACIÓN TECNOLÓGICA**

**Seguimos con el proyecto!**

**En esta clase evaluamos:**




Propongo solución a problemas planteados, diseñando y construyendo

**DESAFÍO: Diseñar y construir con materiales disponibles en casa un soporte para el teléfono**

Tu tarea es:

- Construir en casa con los materiales que pensaste en la clase anterior el soporte para el teléfono, probar si funciona tu producto. Verificar si necesita alguna modificación.
- Completa cuando termines, el siguiente esquema dibujando y describiendo las acciones que llevaste a cabo.



## **EDUCACIÓN MUSICAL**

Actividades de repaso

- 1- Observa el siguiente video <https://youtu.be/-8PI7szre1s>
- 2- Palmear el ritmo que indica el video
- 3- Dibuja las figuras que aparecen en el video.