

GUÍA PEDAGÓGICA N°21 DE RETROALIMENTACIÓN**ESCUELA:** MARIANO NECOCHEA**CUE:** 7000002-00**DOCENTES:** CAROLINA RODRÍGUEZ - MÓNICA YANADEL - VALERIA RIVERO**GRADO:** PRIMERO**TURNO:** MAÑANA**GRUPO N°:** 1**ÁREAS:** LENGUA, MATEMÁTICA, CIENCIAS SOCIALES, CIENCIAS NATURALES, FORMACIÓN ÉTICA Y CIUDADANA.**TÍTULO DE LA PROPUESTA:** “SIEMPRE FELIZ”**CONTENIDOS:****LENGUA:** COMPRENSIÓN LECTORA. LECTO-ESCRITURA. PRODUCCIÓN DE ORACIONES.**MATEMÁTICA:** NUMERACIÓN HASTA 100. RELACIONES NUMÉRICAS. SITUACIONES PROBLEMÁTICAS DE SUMA Y RESTA.**CIENCIAS SOCIALES:** EL CAMPO Y LA CIUDAD: CARACTERÍSTICAS Y ACTIVIDADES DE CADA PAISAJE.**CIENCIAS NATURALES:** SERES VIVOS: LAS PLANTAS. PARTES. GERMINACIÓN.**FORMACIÓN ÉTICA Y CIUDADANA:** SITUACIONES CONFLICTIVAS: LAS EMOCIONES. SUS CARACTERÍSTICAS.**INDICADORES DE EVALUACIÓN PARA LA NIVELACIÓN:****LENGUA:** OBSERVA Y RENARRA UN CUENTO. PRODUCE ORACIONES.**MATEMÁTICA:** RECONOCE Y COMPARA NÚMEROS HASTA 100. RESUELVE SITUACIONES PROBLEMÁTICAS DE SUMA Y RESTA.**CIENCIAS SOCIALES:** RECONOCE DIFERENTES PAISAJES EN IMÁGENES.**CIENCIAS NATURALES:** NOMBRA LAS PARTES DE LA PLANTA E IDENTIFICA ELEMENTOS PARA LA GERMINACIÓN.**FORMACIÓN ÉTICA Y CIUDADANA:** IDENTIFICA SITUACIONES CONFLICTIVAS Y EMOCIONES EN LA VIDA COTIDIANA.**DESAFÍO:** CONFECCIONAR UNA MAQUETA CON PAISAJE URBANO Y RURAL.**ACTIVIDADES: 16 AL 19 DE NOVIEMBRE.**1- OBSERVA ESTE BONITO VIDEO. <https://youtu.be/s-D3B03PSEc>

2- RENARRA SU CONTENIDO.


3- COMPLETA LAS ORACIONES:

- LOS ANIMALES SE QUEDAN SIN _____.
- LA GALLINA PIDE _____ AL _____, _____, _____ Y _____.
- CULTIVÓ _____ Y CON LA HARINA PREPARÓ UN RICO _____.

4- LEE, COLOREA Y COLOCA EL NOMBRE DONDE CORRESPONDA.




5- CUENTA LOS DIECES Y COLOREA EL RESULTADO.



6- COMPLETA CON LOS SIGNOS > < O =.

<p>19 ○ 14</p> <p>18 ○ 0</p> <p>20 ○ 20</p>		<p>10 ○ 5</p> <p>13 ○ 20</p> <p>16 ○ 14</p>
---	--	---

7- RAZONA Y RESUELVE.



• ¿CUÁNTOS HUEVOS SE VEN?

• TIENE TAPADOS 7 HUEVOS.
¿CUÁNTOS HAY EN TOTAL?

 + =


• ¿CUÁNTOS POLLITOS JUEGAN?

• HAY ESCONDIDOS 4 POLLITOS

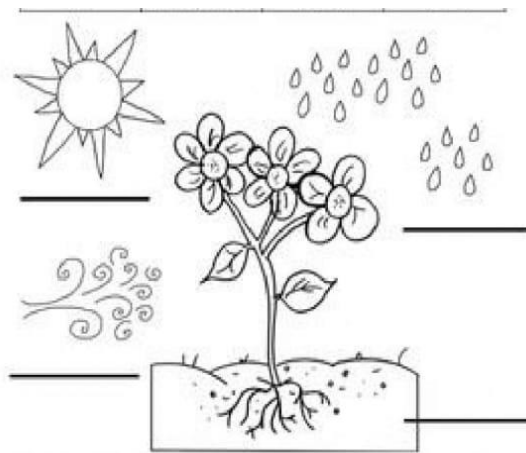
¿CUÁNTOS HAY EN TOTAL?

 + =

8- RESPONDE:

• ¿CÓMO CONSIGUIÓ LA GALLINA SU COMIDA?

• ¿QUÉ NECESITÓ LA PLANTA PARA CRECER?



9- DIBUJA UNA PLANTA Y ESCRIBE EL NOMBRE DE SUS PARTES.

10- OBSERVA CON ATENCIÓN LAS CARITAS Y ESCRIBE LA EMOCIÓN QUE EXPRESA CADA UNA.




11- ESCRIBE ORACIONES EN DONDE EXPRESAS: **ALEGRÍA, TRISTEZA Y ENOJO.**

12- PIENSA EN LA GALLINITA ROJA. MARCA CON UNA (X).

- ¿DÓNDE VIVE? - CAMPO -CIUDAD

13- OBSERVA LAS IMÁGENES Y CONFECCIONA UNA LISTA DE LO QUE VES EN CADA PAISAJE. ESTO TE SERVIRÁ PARA ARMAR TU MAQUETA.



14- RECORTA Y PEGA DOS ACTIVIDADES DEL CAMPO Y DOS DE LA CIUDAD.

15- COMPLETA CON **V** Y **F**.

- EN EL CAMPO HAY MUCHOS EDIFICIOS.
- LA CIUDAD TIENE VARIEDAD DE NEGOCIOS.
- EN EL CAMPO SE CULTIVAN FRUTAS Y VERDURAS.
- EN LA CIUDAD LAS VACAS COMEN PASTO.

16- CONFECCIONA UNA MAQUETA JUNTO A TU FAMILIA CON DOS PAISAJES: URBANO Y RURAL, UTILIZANDO MATERIALES EN DESUSO DE LA CASA. TENER EN CUENTA CARTELES CON PALABRAS Y NÚMEROS.

INSTRUMENTOS DE EVALUACIÓN: RECUERDA QUE DEBES ENVIAR A LA SEÑO VIDEOS, AUDIOS Y FOTOS.

DIRECTORA: LIC. CLAUDIA SÁNCHEZ.