

Pro.P.A.A. ZONA NORTE UE 013

Docente: Ivana Bustos

Coordinadora: Lic. Juanita Luna

PRIMER CICLO

Turno: TARDE

Guía de Retroalimentación N°1

Propósitos: -Promover estrategias en el inicio de la estructura de letras, sílabas, palabras y frases sencillas.

-Correspondencia entre fonema y grafías en mayúsculas y minúsculas

-Realizar lectura y escritura de números naturales hasta 500

-reconocer e identificar figuras y cuerpos geométricos

-identificar distintas fechas patrias

-Reconocer y prevenir el Covid 19

Capacidades: -razonamiento lógico

-Integración social, comunicación oral y escrita

Contenidos: Matemática: Numeración hasta 500, Figuras y cuerpo/ Lengua: Vocales-Silabas-Frases sencillas/ Cs.Sociales: Fechas patrias/ Cs, Naturales: Prevención de enfermedades.

Eje Transversal: Formación Ética y Ciudadana: Valores patrios/

ACTIVIDADES

OBSERVA LAS SIGUIENTES IMÁGENES Y ESCRIBE ¿QUE FECHA PATRIA RECUERDAS?



.....

.....



.....

.....

-DIBUJA LO QUE LEES

SOLDADO

.....

MULATO

.....

BANDERA

.....

MATE

.....

-COMPLETA LA FRASE

..... MI PATRIA.

YO TOMO

LAS SON ARGENTINAS


-SEPARA EN SILABAS

VALIENTE

CABALLERO

SIMBOLO

- ¿QUIEN ES ESTE SEÑOR QUE A TODOS NOS GUARDO EN NUESTRAS CASAS?



.....

-MARCA CON UNA CRUZ LOS SINTOMAS QUE NOS AFECTA ESTE VIRUS

DOLOR DE GARGANTA

PICAZON

TOS

ALERGIA

FIEBRE ALTA

SUEÑO

DOLOR DE CABEZA

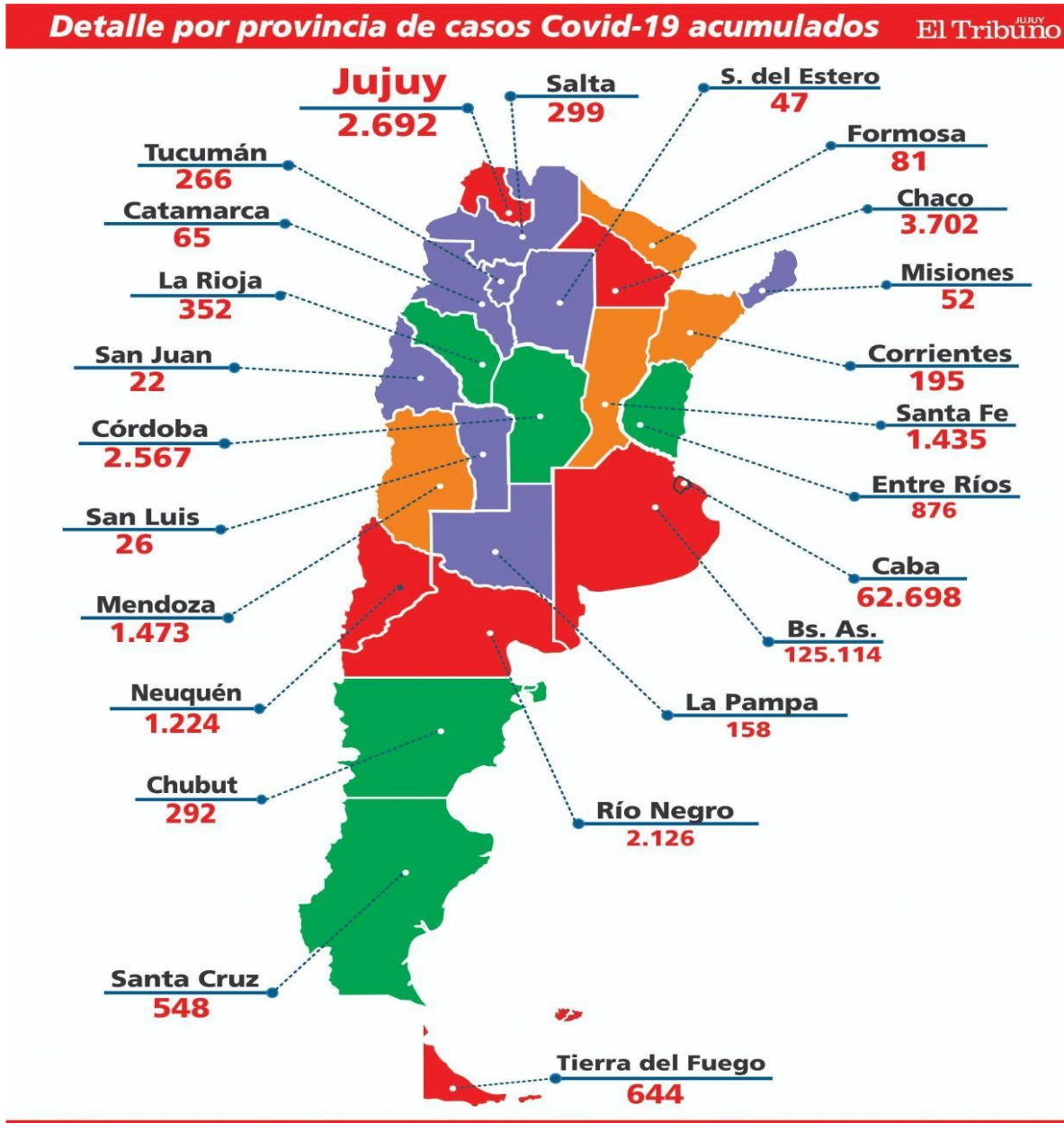
TENER MUCHO APETITO

DOLOR DE ESTOMAGO

-ESCRIBE LAS RECOMENDACIONES PARA PREVENIRLO



-OBSERVA EL SIGUIENTE GRAFICO SOBRE LOS CONTAGIOS DEL VIRUS



-COLOCA LA CANTIDAD DE CONTAGIADOS EN LAS SIGUIENTES PROVINCIAS CUANDO RECIEN EMPEZA LA FASE 1 DE LA PANDEMIA

Pro.P.A.A. ZONA NORTE UE 013 Primer Ciclo – GUIA 1 DE RETOALIMENTACION

SAN JUAN

SAN LUIS

CATAMARCA

LA PAMPA

SALTA

LA RIOJA

-ESCRIBE COMO SE LEE EL NUMERO

22

26

65

158

352

299

-COLOCA EL NUMERO ANTERIOR Y PORTERIOR

.....26.....

.....158.....

.....352.....

-REALIZA LOS SIGUIENTES CALCULOS SOBRE EL CONTAGIO ENTRE
PROVINCIAS CERCANAS

SAN JUAN + SAN LUIS=.....

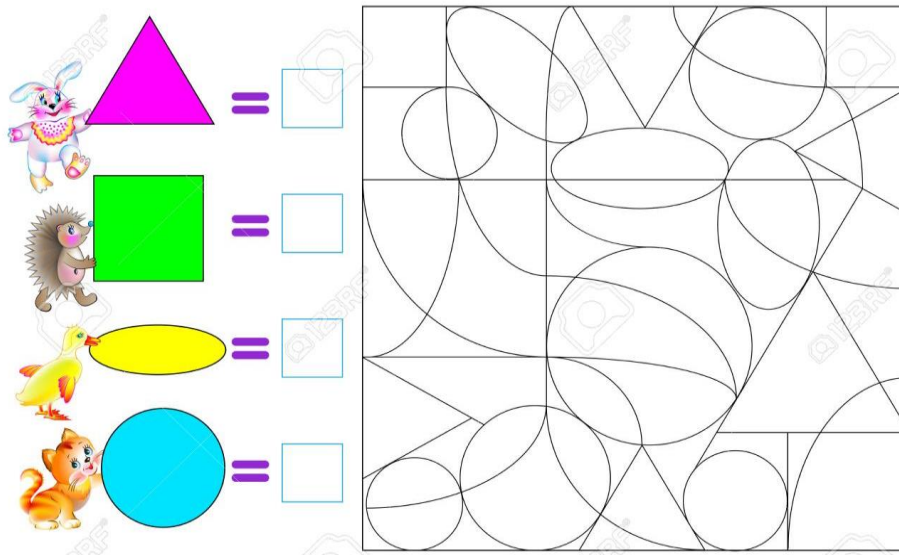
CATAMARCA+S.DEL ESTERO=

.....+.....=

.....+.....=

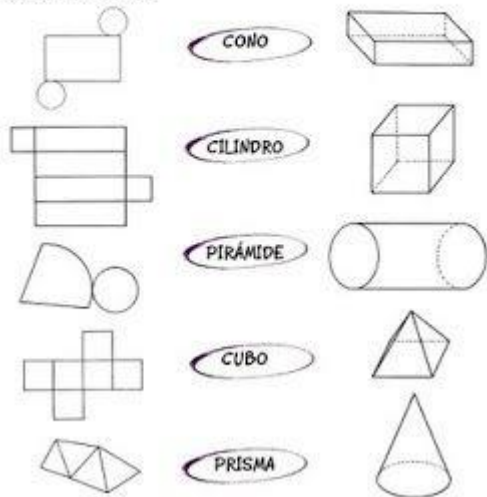
GEOMETRIA

ENCUENTRA LAS FIGURAS GEOMETRICAS Y PINTA IGUAL AL EJEMPLO



SE DESARMARON LOS CUERPOS

Pensá cómo quedaría cada cuerpo si lo desarmamos.
Uní como corresponde.



DEA-Pro.P.A.A.-ZONA NORTE

COORDINADORA ZONAL

JUANITA LUNA