

GUÍA PEDAGÓGICA N ° 24 DE RETROALIMENTACIÓN- GRUPO 1.

ESCUELA: LEOPOLDO CORRETJER

CUE: 700037200

DOCENTES: CARINA VARGAS, LAURA JOFRÉ, CLAUDIA VALVEDE.

GRADOS: PRIMERO “A”, “B” Y “C”.

TURNO: TARDE

ÁREAS CURRICULARES: MATEMÁTICA – LENGUA - CIENCIAS NATURALES.

DESAFÍO: ARMAR CON MATERIAL DESCARTABLE ANIMALES CON FORMAS DE CUERPOS GEOMÉTRICOS.

CONTENIDOS:

CIENCIAS NATURALES: LOS ANIMALES: COBERTURA Y DESPLAZAMIENTO.

MATEMÁTICA: UBICACIÓN EN EL ESPACIO: POSICIÓN, ORIENTACIÓN Y DISTANCIA. CUERPOS GEOMÉTRICOS. UNIDADES DE MEDIDA: CAPACIDAD.

LENGUA: PRODUCCIÓN DE ORACIONES. NOCIÓN DE ADJETIVO, SUSTANTIVO Y VERBO.

INDICADORES DE EVALUACIÓN PARA LA NIVELACIÓN:

CIENCIAS NATURALES: CLASIFICA LOS ANIMALES SEGÚN SUS CARACTERÍSTICAS DE COBERTURA Y DESPLAZAMIENTO.

MATEMÁTICA: UBICA OBJETOS EN EL ESPACIO. RECONOCE LOS CUERPOS GEOMÉTRICOS. IDENTIFICA INSTRUMENTOS PARA MEDIR CAPACIDADES.

LENGUA: LEE Y COMPRENDE TEXTOS SENCILLOS: ADIVINANZAS. ESCRIBE PALABRAS. PRODUCE ORACIONES CON SOPORTE GRÁFICO APLICANDO LA NOCIÓN DE SUSTANTIVO, ADJETIVO Y VERBO

FECHA: MARTES 24- 11-2020

ÁREA CIENCIAS NATURALES.

ACTIVIDADES

1. OBSERVA CON ATENCIÓN LA SIGUIENTE IMAGEN Y COMPLETA EL CUADRO.




ANIMALES	¿CÓMO SE DESPLAZA?	¿CÓMO ESTÁ CUBIERTO SU CUERPO?
LORO		
SERPIENTE		
LEÓN		


ÁREA LENGUA.

ACTIVIDADES

1. DIBUJA DOS ANIMALES DE LA IMAGEN Y COMPLETA:



¿CÓMO SE LLAMA?.....
 ¿CÓMO ES?.....
 ¿QUÉ HACE?.....
 ESCRIBE LA ORACIÓN.....



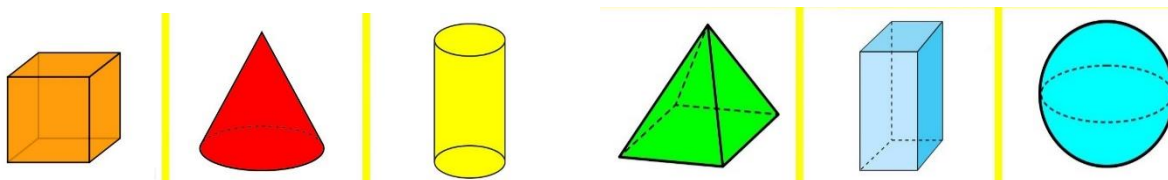
¿CÓMO SE LLAMA?.....
 ¿CÓMO ES?.....
 ¿QUÉ HACE?.....
 ESCRIBE LA ORACIÓN.....

FECHA: MIÉRCOLES 25-11-2020

ÁREA MATEMÁTICA.

ACTIVIDADES

1. ESCRIBE EL NOMBRE DE CADA CUERPO GEOMÉTRICO.



2. ESCRIBE DEBAJO DE CADA OBJETO EL NOMBRE DEL CUERPO AL CUAL SE PARECE.



ÁREA CIENCIAS NATURALES Y LENGUA.

ACTIVIDADES

1. ADIVINA, ADVINADOR. LEE Y COMPLETA LAS ADIVINANZAS ¿QUIÉN ES?



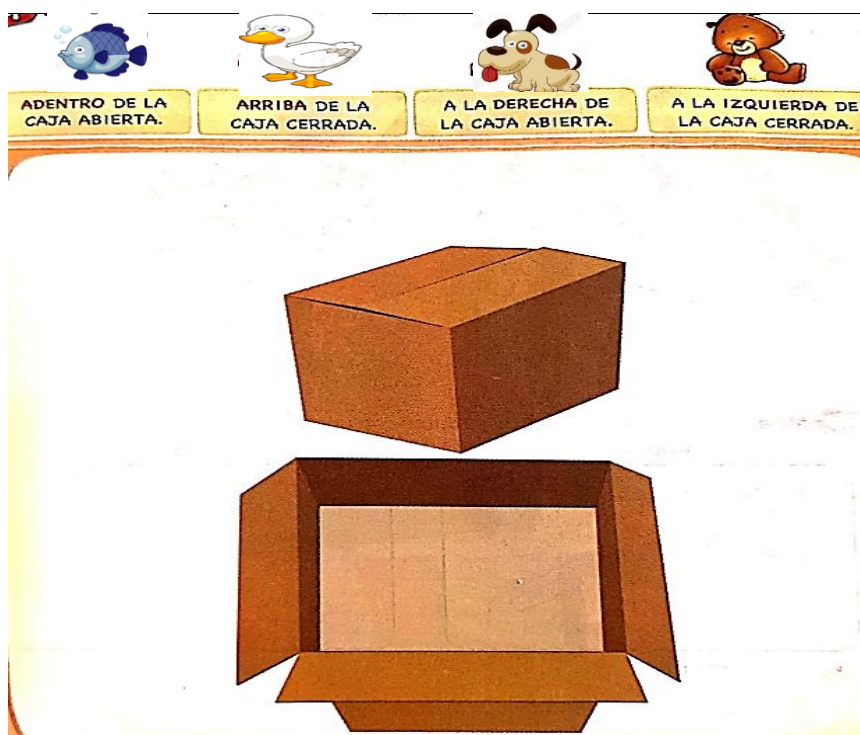
2. ESCRIBE UNA ORACIÓN PARA CADA ANIMAL DE LAS ADIVINANZAS, TENIENDO EN CUENTA CÓMO ESTÁ CUBIERTO SU CUERPO Y CÓMO SE DESPLAZAN.

FECHA: JUEVES 26-11-2020.

ÁREA MATEMÁTICA.

ACTIVIDADES

1. DIBUJA TENIENDO EN CUENTA ESTAS CONSIGNAS:



ÁREA LENGUA

ACTIVIDADES

1. ELIGE DOS ANIMALITOS QUE DIBUJASTE EN EL PUNTO ANTERIOR Y REDACTA BONITAS ORACIONES DICHIENDO CÓMO SE LLAMAN, CÓMO SON, QUÉ HACEN, QUÉ TIENEN...

FECHA: VIERNES 27-11-2020.

ÁREA MATEMÁTICA.

ACTIVIDADES

1. ENCIERRA LA CANTIDAD DE BOTELLAS QUE SE NECESITAN PARA LLENAR UNA PECERA DE 3 LITROS.



ÁREA CIENCIAS NATURALES, MATEMÁTICA Y LENGUA.

ACTIVIDADES

1. UTILIZANDO MATERIAL DESCARTABLE, CONFECCIONA 3 ANIMALES CON FORMA DE CUERPOS GEOMÉTRICOS, COMO TE MUESTRA EL EJEMPLO.



2. CONFECCIONA UNA FICHA PARA CADA ANIMALITO QUE HICISTE, TENIENDO EN CUENTA LOS SIGUIENTES DATOS:

<p>➤ NOMBRE DEL ANIMAL.....</p> <p>➤ ¿CÓMO ES?.....</p> <p>➤ ¿CÓMO SE DESPLAZA?.....</p> <p>➤ ¿CON QUÉ ESTÁ CUBIERTO SU CUERPO?.....</p>
--

EVALUACIÓN: ENVÍALE A TU SEÑO UNA FOTO DE CADA ANIMALITO QUE CONFECCIONASTE CON SU RESPECTIVA FICHA DESCRIPTIVA.

DIRECTORA: ESTELA MARTÍNEZ

VICEDIRECTORA: MARÍA E. JALED