

## EEE Cura Brochero – Segundo grado – Lengua y Matemática

ESCUELA: EE Cura Brochero

DOCENTES: del Castillo Flavia – Ramos, Yanina

GRADO: de Apoyo a la Inclusión – 2º Grado

TURNO: Mañana

ÁREA: Lengua y Matemática

TÍTULO: "Aprendemos desde casa"

CONTENIDOS SELECCIONADOS POR ÁREAS:

### Lengua:

- Lectura y comprensión de textos
- Producción de oraciones
- Sustantivos, adjetivos y verbos..

### Matemática:

- Numeración hasta el 9.999.
- Anterior y posterior
- Figuras geométricas: Círculo, cuadrado y triángulo

Fecha: 30/03/2020

1- Leo atentamente.

MAIRA Y LORENA TODAS LAS NOCHES PASEAN POR LA PLAZA A PANCHO, EL INQUIETO PERRO DE LA ABUELA. AL FINALIZAR EL PASEO SIEMPRE SE TOMAN UN RICO Y ENORME HELADO EN LA HELADERÍA DE DON PEPE .  
LUEGO VUELVEN MUY FELICES A LA CASA DE SU ABUELA ROSA

## EEE Cura Brochero – Segundo grado – Lengua y Matemática

2- Según la lectura respondo:

A- ¿Quiénes pasean a Pancho? \_\_\_\_\_

B- ¿Por dónde lo pasean? \_\_\_\_\_

C- ¿Quién es Pancho? \_\_\_\_\_

D- ¿Qué hacen al finalizar el paseo? \_\_\_\_\_

3- En 3 imágenes dibujo el texto del punto 1



4- Extraigo del punto 1

Sustantivos propios \_\_\_\_\_

Sustantivos comunes: \_\_\_\_\_

Adjetivos: \_\_\_\_\_

Verbos: \_\_\_\_\_

Fecha: 01/04/2020

1- Repasamos las familias de números.

### UNOS

0	1	2	3	4	5	6	7	8	9
---	---	---	---	---	---	---	---	---	---

### DIECES

10	20	30	40	50	60	70	80	90
----	----	----	----	----	----	----	----	----

### CIENES

100	200	300	400	500	600	700	800	900
-----	-----	-----	-----	-----	-----	-----	-----	-----


### MILES

1.000	2.000	3.000	4.000	5.000	6.000	7.000	8.000	9.000
-------	-------	-------	-------	-------	-------	-------	-------	-------

**EEE Cura Brochero – Segundo grado – Lengua y Matemática**

2- Con los siguientes dígitos (números) formo números de la familia de los cientos y de los miles.

5            4            7            1            8            3            0



3- Leo y uno

MIL	2.000
DOS MIL	7.000
TRES MIL	9.000
CUATRO MIL	1.000
CINCO MIL	8.000
SEIS MIL	3.000
SIETE MIL	6.000
OCHO MIL	4.000
NUEVE MIL	5.000

4- Coloco anterior y posterior.

\_\_\_\_\_ 1,870 \_\_\_\_\_

\_\_\_\_\_ 5.195 \_\_\_\_\_

\_\_\_\_\_ 7.609 \_\_\_\_\_

\_\_\_\_\_ 3.099 \_\_\_\_\_

Fecha: 02/04/2020

1- Mamá me dicta tres oraciones y las escribo en mi cuaderno.

**EEE Cura Brochero – Segundo grado – Lengua y Matemática**

2- Leo las siguientes palabras y formo cuatro oraciones.

BELLA                      ES                      CASA                      PERRO                      SALTA  
ALTA                      EL                      FLOR                      LA                      SAPO

---

---

---

---

3- Ubico las palabras en el cuadro según corresponda:

MESA – DORMIR – PABLO – FLACO – BAILAR – HERMOSO – LÁPIZ – BLANCO – SALTAR

SUSTANTIVOS	ADJETIVOS	VERBOS

4- Ordeno las oraciones.

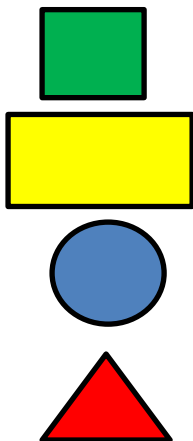
MONTAÑA LA ENORME ES \_\_\_\_\_

SUPERMERCADO EN JOSÉ EL TRABAJA \_\_\_\_\_

PATINA LINDO MARÍA MUY \_\_\_\_\_

Fecha: 03/04/2020

1- Observo las siguientes figuras geométricas y uno según corresponda




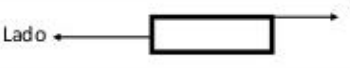


**CÍRULO**

**TRIÁNGULO**

**CUADRADO**

**RECTÁNGULO**

2- Leo la siguiente información

<b>Cuadrado</b>	
<b>Rectángulo</b>	
<b>Triángulo</b>	
<b>Círculo.</b>	

3- Según lo leído en el punto anterior, completo:

**Cuadrado**



Tiene ..... lados.  
Tiene .....vértices.

**Rectángulo**



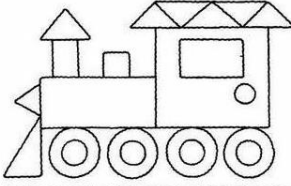


Tiene ..... lados.  
Tiene..... vértices

**Triángulo**



Tiene..... lados.  
Tiene..... vértices.

4- Escribe cuantas figuras hay de cada forma geométrica. Luego colorea

	<input type="checkbox"/> — <input type="checkbox"/> — <input type="checkbox"/> — <input type="checkbox"/> —
	<input type="checkbox"/> — <input type="checkbox"/> — <input type="checkbox"/> — <input type="checkbox"/> —
	<input type="checkbox"/> — <input type="checkbox"/> — <input type="checkbox"/> — <input type="checkbox"/> —

5- Recorta figuras geométricas de colores y forma la siguiente imagen:



Directora: Analía Cáceres