

# ESCUELA DE EDUCACIÓN ESPECIAL MERCEDITAS DE SAN MARTÍN



Av. Libertador 158 Oeste - Capital - San Juan - Código Postal 5400

Teléfono: 0264 4214236 / 4307528 - Email: [eeemerceditas2017@gmail.com.ar](mailto:eeemerceditas2017@gmail.com.ar)

**Grado: 1ºA                      Primer Ciclo                      Nivel: primario**

**Turno: mañana**

**Área Curricular: Matemática.**

**Título de la Propuesta: “los números en la vida diaria”**

## **Contenidos seleccionados:**

Grafomotricidad.

## **Eje: Números y operaciones:**

El número natural de 0 hasta 10.

Funciones y usos en la vida cotidiana.

Construcción y uso de la sucesión de números naturales en forma oral y escrita.

## **Desarrollo de actividades:**

### **ACTIVIDAD 1**

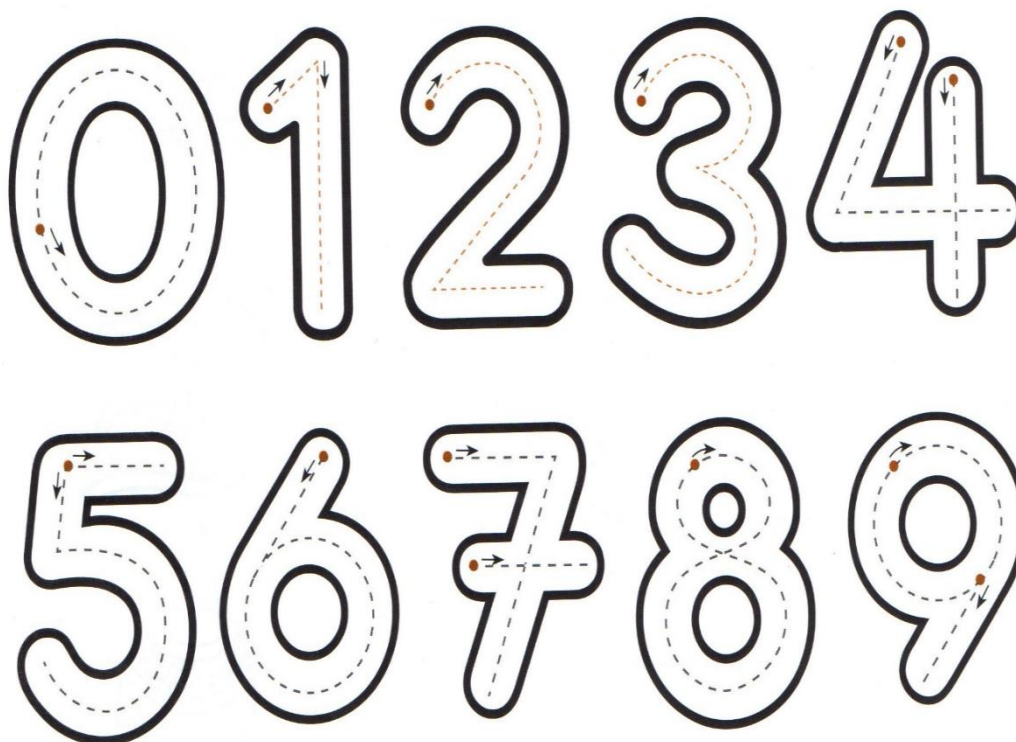
- 1) **DIBUJÁ EL CAMINO QUE RECORRE EL JUGADOR PARA LLEGAR A LA PELOTA:**



2) LOS NÚMEROS EN NUESTRA VIDA: SEÑALÁ LOS OBJETOS DONDE HAY NÚMEROS:




3) REPASÁ CON TU LÁPIZ NEGRO LAS LÍNEAS PUNTEADAS, EMPEZÁ POR EL PUNTO Y SEGUÍ LAS DIRECCIONES DE LAS FLECHAS:




ACTIVIDAD 2:

- 4) **REMARCA** SOBRE LAS LÍNEAS PUNTEADAS Y **COMPLETÁ** LOS RENGLONES:



- 5) **CONTÁ** Y **COMPLETÁ** CON EL NÚMERO QUE FALTA:

















• Completo los numeros que faltan.









ACTIVIDAD 3:

6) ¡MÁS NÚMEROS! **CONTÁ** LOS DIBUJOS, **PINTÁ** Y **REPASÁ** LA FORMA DE CADA NÚMERO:

TRAZÁ 	• REMARCA Y COMPLETÁ EL RENGLÓN. 
CONTÁ 	COLOREÁ 
TRAZÁ 	• REMARCA Y COMPLETÁ EL RENGLÓN. 
CONTÁ 	COLOREÁ 
TRAZÁ 	• REMARCA Y COMPLETÁ EL RENGLÓN. 
CONTÁ 	COLOREÁ 
TRAZÁ 	• REMARCA Y COMPLETÁ EL RENGLÓN. 
CONTÁ 	COLOREÁ 

7) **CONTÁ** Y **RODEÁ** EL NÚMERO QUE CORRESPONDE A CADA CANTIDAD:

 3    2    1	 5    8    9
 4    8    7	 9    8    2

8) **NOMBRÁ** CADA NÚMERO Y **DIBUJÁ** LA CANTIDAD DE PELOTITAS

EN CADA NÚMERO:

	<b>2</b>	<b>3</b>	<b>4</b>	<b>5</b>	<b>6</b>	<b>7</b>	<b>8</b>	<b>9</b>	<b>10</b>
<b>1</b>									

9) ¿A CUÁL COLCHONCITO DE HOJAS DEBE IR CADA CARACOL?

**CONTÁ** LAS HOJAS Y **RECORRÉ** LOS CAMINITOS CON LÁPICES DE

COLORES SEGÚN EL NÚMERO QUE TIENE CADA CARACOL:

