

GUÍA PEDAGÓGICA N° 22 DE RETROALIMENTACIÓN – GRUPO 1

ESCUELA: JOSÉ RUDECINDO ROJO**CUE:** 700019600**DOCENTES:** MARIELA CASTAÑO, SILVINA BURGOS, GABRIELA MORALES, NANCY SÁNCHEZ, CECILIA SÁNCHEZ**GRADO:** PRIMER TRAMO UP “A, B, C” **TURNO:** TARDE**ÁREAS:** MATEMÁTICA, CIENCIAS NATURALES, EDUCACIÓN MUSICAL.**TÍTULO DE LA PROPUESTA:** “ERES CAPAZ DE REALIZAR TODO LO QUE TE PROPONES”**CONTENIDOS****MATEMÁTICA:** EL NÚMERO NATURAL HASTA EL 69. REGULARIDADES DE LA NUMERACIÓN ORAL Y ESCRITA. DESCOMPOSICIÓN DE UN NÚMERO EN UNOS Y DIECES. ESTRATEGIAS DE CÁLCULO, CONTEO, RECONTEO.**CIENCIAS NATURALES:** CARACTERÍSTICAS MORFOLÓGICAS EXTERNAS DEL CUERPO HUMANO: CABEZA, TRONCO Y EXTREMIDADES. HÁBITOS QUE FAVORECEN LA SALUD COMO HIGIENE PERSONAL Y LA ALIMENTACIÓN.**EDUCACIÓN MUSICAL:** VOZ HABLADA Y CANTADA. INSTRUMENTOS MUSICALES DE LAS FAMILIAS DE CUERDA, VIENTO Y PERCUSIÓN.**INDICADORES DE EVALUACIÓN PARA LA NIVELACIÓN:**

- IDENTIFICA LAS REGULARIDADES DE LA SERIE NUMÉRICA HASTA EL 69.
- ARMA Y DESARMA NÚMEROS EN UNOS Y DIECES.
- RESUELVE SITUACIONES PROBLEMÁTICAS QUE INVOLUCREN SUMAS.
- NOMBRA LAS PARTES DEL CUERPO HUMANO.
- INDICA HÁBITOS APROPIADOS PARA EL CUIDADO DEL CUERPO Y LA SALUD.
- EXPRESA A TRAVÉS DE LA VOZ HABLADA COPLAS, RIMAS Y CANCIONES.
- CONOCE INSTRUMENTOS MUSICALES DE CUERDA, VIENTO Y PERCUSIÓN.

DESAFÍO:

TE PROPONGO QUE DIBUJES LA VIDRIERA CON TODOS LOS PRECIOS Y LOS NOMBRES DE LOS JUGUETES. AGREGA TAMBIÉN EL QUE CONSTRUYAS EN EDUCACIÓN TECNOLÓGICA Y ENVÍA UNA FOTO A TU SEÑORITA.

ACTIVIDADES:



DÍA 1 ÁREA: MATEMÁTICA

1-COMPLETA LOS CASILLEROS VACÍOS DEL CASTILLO NUMÉRICO:

0	1	2			5			9
10	11			14			18	
20	21	22			25			29
30		32				37		
40	41			44			48	
50		52				56		
60			63		65			

2-DESCUBRE LOS NÚMEROS USANDO ESTAS PISTAS:

- EL PRECIO DE LA **MUÑECA** ESTÁ FORMADO POR **DOS DIECES Y OCHO UNOS**.
¿QUÉ NÚMERO SERÁ? FÓRMALO Y PÍNTALO EN EL CASTILLO.

DOCENTES RESPONSABLES: PROFESORAS MARIELA CASTAÑO, SILVINA BURGOS, GABRIELA MORALES, NANCY SÁNCHEZ Y CECILIA SÁNCHEZ.

- EL OSO CUESTA **SESENTA Y DOS** PESOS, PÍNTALO EN EL CASTILLO Y DESCOMPONLO EN DIECES Y UNOS.

3-COMPLETA EN TU VIDRIERA LOS PRECIOS QUE DESCUBRISTE.

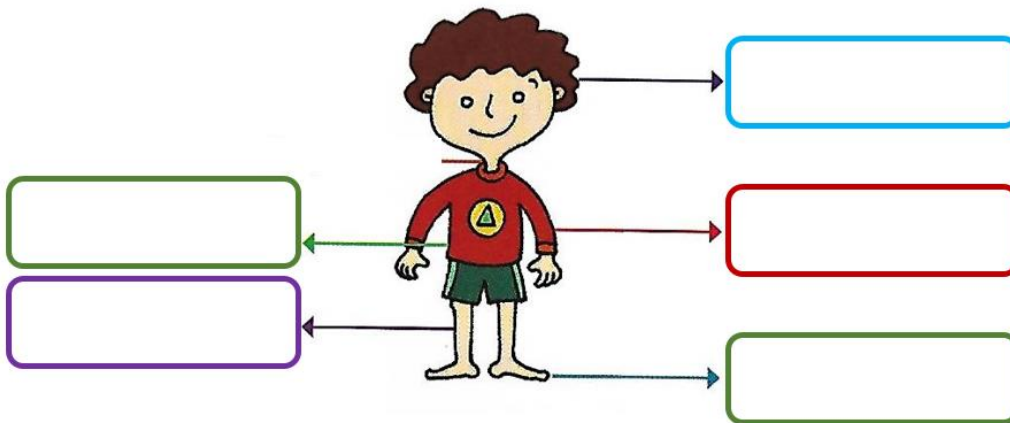
4-SI COMPRAS EL **TROMPO** Y LAS **BALITAS** ¿CUÁNTO DINERO NECESITAS? HAZ LA CUENTA.

5-DIBUJA LOS BILLETES Y MONEDAS QUE NECESITARÍAS PARA HACER ESA COMPRA.

DÍA 2 ÁREA: **CIENCIAS NATURALES**

LAS PERSONAS NOS PARECEMOS A LOS MUÑECOS DE LAS JUGUETERÍAS, PERO SOMOS DIFERENTES DE LOS ANIMALES Y DE LAS PLANTAS PORQUE NUESTRO CUERPO TIENE OTRAS CARACTERÍSTICAS.

1-ESCRIBE EL NOMBRE DE LAS PARTES DEL CUERPO SEÑALADAS.



2-¿CUÁLES DE ESTOS HÁBITOS SON NECESARIOS PARA CUIDAR LA SALUD? COMPLETA CON UNA CRUZ LO QUE CORRESPONDE:

HÁBITO	MUCHO	POCO	NADA
BAÑARSE			
MIRAR LA TELEVISIÓN			
JUGAR AL AIRE LIBRE			
COMER GOLOSINAS			
COMER FRUTAS Y VERDURAS			

DÍA 3 **ÁREA: EDUCACIÓN MUSICAL**

1-TE INVITO A PASEAR POR LA JUGUETERÍA, OBSERVA SU HERMOSA VIDRIERA. ¡QUÉ SORPRESA! ENCONTRAMOS UNA CAJA QUE DICE JUEGO DE TARJETAS MUSICALES, VAMOS A DESCUBRIRLO.

TARJETA N°1

LEE CON ENTUSIASMO LA LETRA DE LA SIGUIENTE CANCIÓN, ANÍMATE A CANTARLA Y PÍDELE A ALGUIEN DE TU FAMILIA QUE LA GRABE EN UN AUDIO DE WHATSSAP PARA LUEGO SER ENVIADO A LA SEÑO.

EL MARINERO BAILA

EL MARINERO BAILA, BAILA, BAILA, BAILA

EL MARINERO BAILA, BAILA CON EL DEDO

CON EL DEDO, DEDO

ASÍ BAILA EL MARINERO.

EL MARINERO BAILA, BAILA, BAILA, BAILA

EL MARINERO BAILA, BAILA CON LA MANO

CON LA MANO, MANO, MANO

CON EL DEDO, DEDO, DEDO


ASÍ BAILA EL MARINERO.

TARJETA N°2

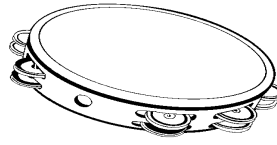
OBSERVA LAS IMÁGENES Y RECONOCE EL INSTRUMENTO MUSICAL. ¿CÓMO SE LLAMAN? COMPLETA SU NOMBRE CON LAS VOCALES QUE FALTAN, EN TU CUADERNO.



VI_L_N



AC_RD_ÓN



P_ND_R_T_

EQUIPO DE CONDUCCIÓN:**DIRECTORA: PROF. SANDRA VERA****VICEDIRECTORA: PROF. ANGELINA MORENO**