

Escuela: Nocturna Minero Sanjuanino

Guía: 15

Docente: Aida Castro

Ciclo / Nivel: 1°Primria Adulto

Turno: Vespertino

Área Curricular: Lengua – Matemática- Ciencias Sociales- Ciencias Naturales.

“Producir en mis tiempos libres”

Contenidos:

LENGUA:

LECTURA Y ESCRITURA DE TEXTOS INSTRUCTIVOS. LAS ACCIONES.

MATEMÁTICA:

NÚMERO Y OPERACIONES. ORDEN MAYOR, MENOR.

LECTURA Y ESCRITURA DE NÚMEROS HASTA EL 500. SITUACIONES PROBLEMÁTICAS.

CIENCIAS SOCIALES: CIRCUITO PRODUCTIVO

CIENCIAS NATURALES: LOS MATERIALES SU ORIGEN.

ACTIVIDADES

DÍA N°1 LENGUA

1-JUGAMOS A LAS ADIVINANZAS. ¡ADIVINA, ADIVINADOR!!!

LO COME PANCRACIO,
ESTÁ EN EL CHAMPÁN;
SI PIENSAS DESPACIO
SABRÁS QUE ES EL...


BLANCO ME CRIE,
AMARILLO ME CONTARON,
LUEGO ME MOLIERON
Y BLANCO ME AMASARÓN

¿DE QUE HABLAN LAS ADIVINANZAS?

¡RECUERDA!!!!

LOS **SUSTANTIVOS** SON PALABRAS QUE SE USAN **PARA** NOMBRAR COSAS, PERSONAS, ANIMALES.

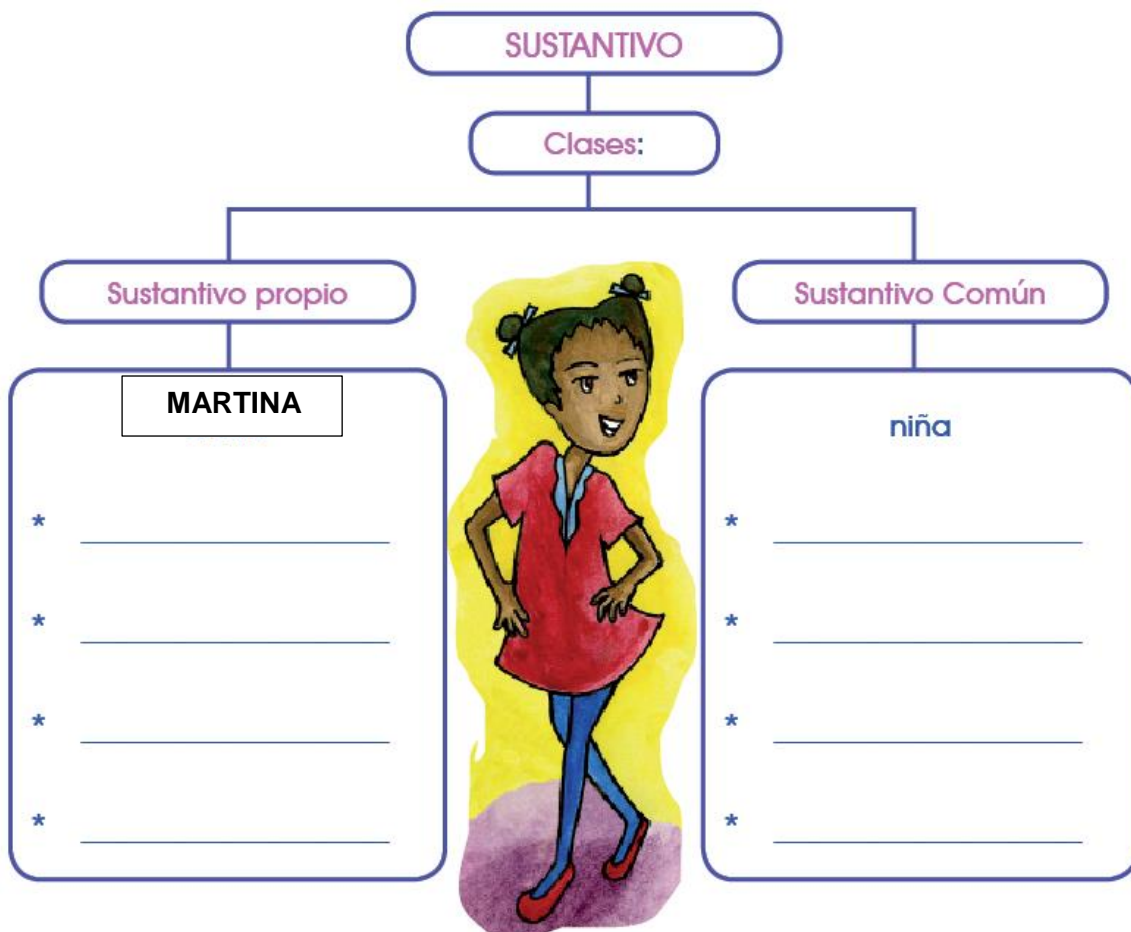
2- ESCRIBE EL NOMBRE A ESTOS SUSTANTIVOS.



2- JUGAMOS AL TUTTI FRUTTI.

Personas	Animales	Cosas

3-COMPLETA EL ESQUEMA COLOCANDO SUSTANTIVOS PROPIOS Y COMUNES.




DÍA N° 2

CIENCIAS SOCIALES

1-OBSERVA LA IMAGEN Y RESPONDE ORALMENTE.

¿CUÁL ES EL LA MATERIA PRIMA?

¿DE DÓNDE LO OBTENEMOS? ¿QUIÉN LO HACE?



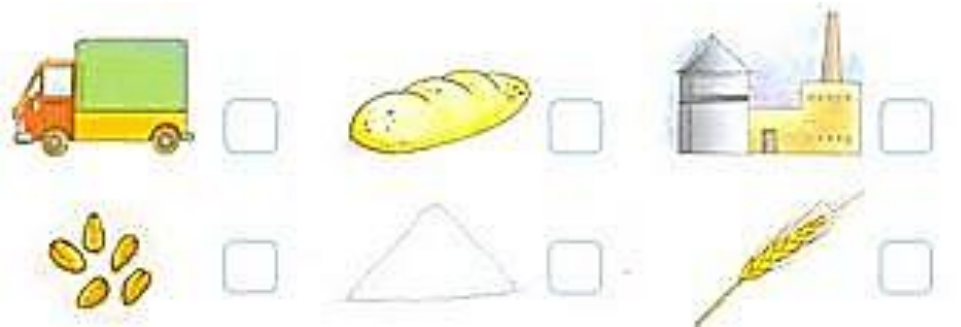
PARA RECORDAR:

LA **MATERIA** EXTRAÍDA DE LA NATURALEZA Y QUE SE TRANSFORMA **PARA** ELABORAR MATERIALES QUE MÁS TARDE SE CONVERTIRÁN EN BIENES DE CONSUMO, SE LLAMA **MATERIA PRIMA**.

2- UNE LOS ALIMENTOS QUE SALEN DE ESTAS MATERIAS PRIMAS.



3- ENUMERA LAS IMAGENES Y REDACTA CON TUS PALABRAS EL CIRCUITO PRODUCTIVO DEL TRIGO.



4- DIBUJA PRODUCTOS QUE SON DERIVADOS DEL TRIGO.

DÍA N°3

CIENCIAS NATURALES

1-LOS MATERIALES CON LOS CUALES HACEN EL PAN, EN CASA O EN UNA PANADERÍA, TIENEN UN ORIGEN.

¿DE QUÉ ORIGEN PROVIENE EL TRIGO?

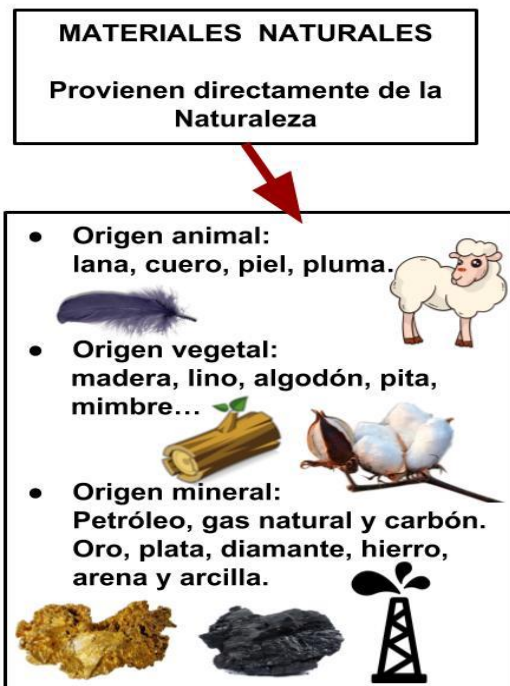
¿ES NATURAL O ARTIFICIAL?

2- NOMBRA QUE OBJETOS PODEMOS OBTENER DESDE LOS DISTINTOS ORIGENES.

ORIGEN VEGETAL: TRIGO----- PAN
MADERA --- MUEBLES

ORIGEN ANIMAL:

ORIGEN MINERAL:



DÍA N°4

MATEMÁTICA

1-COMPLETA EL CASTILO NUMÉRICO.

+	1	2	3	4	5	6	7	8	9
400	401								
410									
420									
430									
440									
450									
460									
470									
480									
490									

2-PIENSA Y RESUELVE



¡Muy bien! ¡Eres seco para los desafíos!

María quiere saltar estos casilleros y quiere comenzar desde el mayor al menor. ¿Le ayudas a ordenar?

308	425	133	244	365	500	103
-----	-----	-----	-----	-----	-----	-----

--	--	--	--	--	--	--

María compró en el supermercado arroz a \$120 y azúcar a \$230.

¿Cuánto gastó en total?

3- ESCRIBE EL NOMBRE DE ESTOS NÚMEROS.



DÍA N°5

COMPLETA LA LISTA DE COTEJO

CRITERIOS	SI	NO
APRENDO LO QUE NOS DA LA NATURALEZA		
RESUELVO PROBLEMAS SOLO		
RECONOZCO EL CIRCUITO PRODUCTIVO		
LEO CARTELES Y OTROS TEXTOS		



DESEO QUE REALICES TODAS TUS TAREAS

DIRECTOR: Jorge González