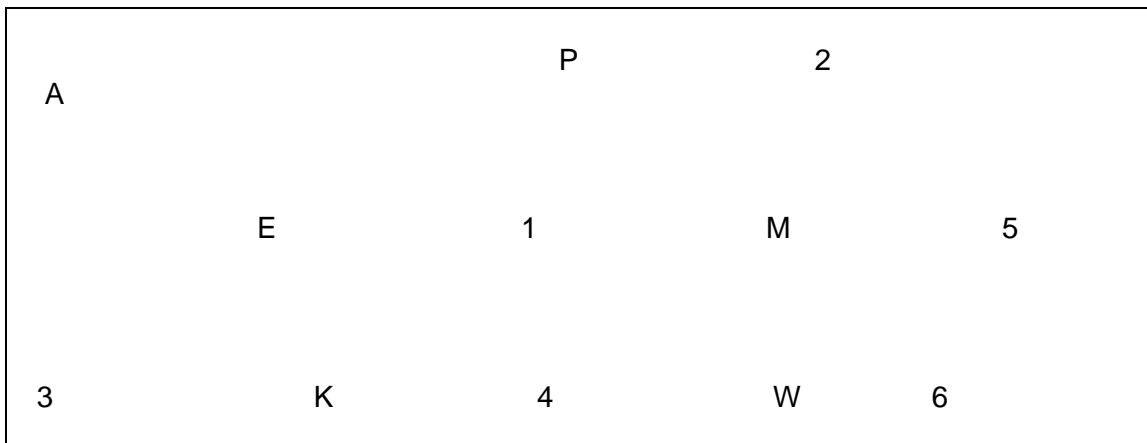


ESCUELA E.E. DOMICILIARIA Y HOSPITALARIA DR. GUILLERMO RAWSON ANEXO DR. MARCIAL QUIROGA.  
GRADO: 1°  
TURNO: MAÑANA  
ÁREA: MATEMÁTICA  
TITULO: " UN MUNDO DE NUMEROS".

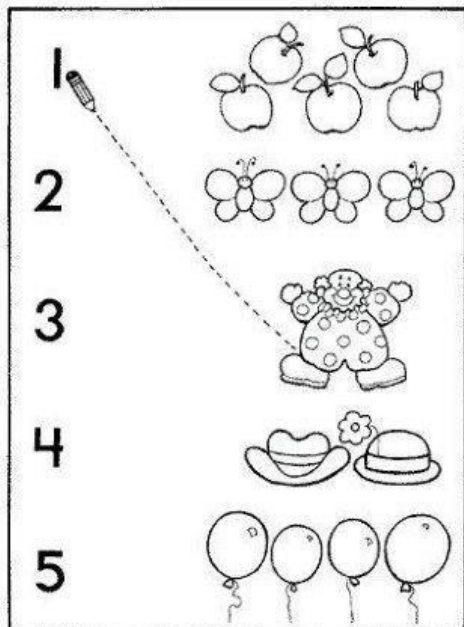
\*ACTIVIDADES A DESARROLLAR:

-Familias es momentos que nos tenemos que cuidar y cuidar a las demás personas, por ese motivo tenemos que trabajar en casa con nuestros niños....

1)- Observa el cuadro e indicamos que hay... luego pinta de color rojo los números y verde las letras.

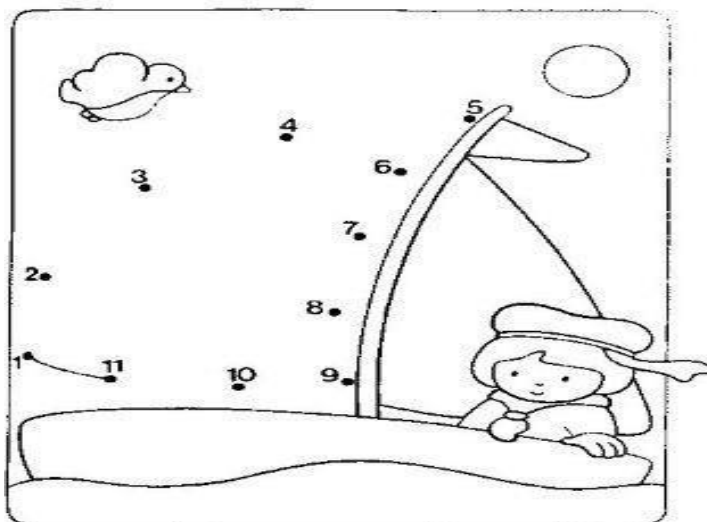


2)- Une con una línea la cantidad con el número que le corresponda.



ESCUELA E.E. DOMICILIARIA Y HOSPITALARIA DR. GUILLERMO RAWSON ANEXO DR. MARCIAL QUIROGA.  
GRADO: 1°  
TURNO: MAÑANA  
ÁREA: MATEMÁTICA  
TÍTULO: " UN MUNDO DE NUMEROS".

3)-Uni los números con línea recta desde el 1 al 11 hasta formar la figura, luego pintar el dibujo.






















4)-Escribe los números en cada renglón, del 1 al 10-

- 1-
- 2-
- 3-
- 4-
- 5-
- 5-
- 6-
- 7-
- 8-
- 8-
- 9-
- 10-

5)-





Cuenta los dedos de cada mano y une con el número correcto

	5	
	10	
	1	
	8	
	4	
	7	
	3	
	2	
	0	
	9	

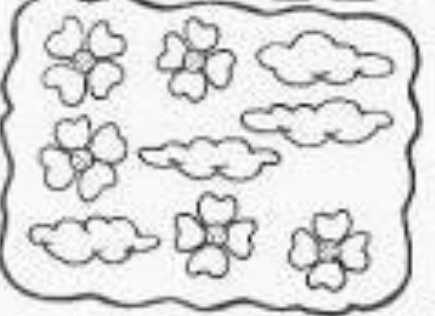





6)-Observa los conjuntos y completa el cuadro.




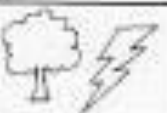
**MODELO:**

			
2	5	7	





  





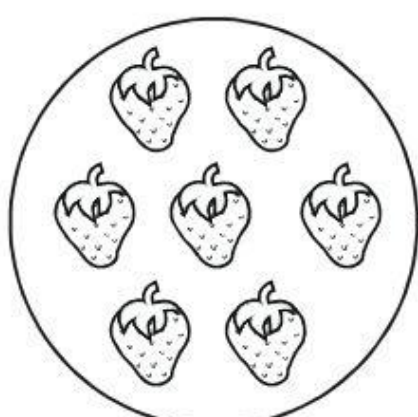

			

# ¡A contar...!

\* Escribe el número que corresponda:

	<input data-bbox="630 739 790 896" type="text"/>		<input data-bbox="1252 739 1412 896" type="text"/>
	<input data-bbox="630 1176 790 1332" type="text"/>		<input data-bbox="1252 1176 1412 1332" type="text"/>
	<input data-bbox="630 1624 790 1780" type="text"/>		<input data-bbox="1252 1624 1412 1780" type="text"/>

8)- ¡ A sumar! .. Conta cada estrella y pone el resultado en el cuadro.

The image contains five rows of addition problems, each represented by a set of stars, a plus sign, another set of stars, an equals sign, and a box for the answer.

- Row 1: 2 red stars + 3 red stars =
- Row 2: 4 purple stars + 2 purple stars =
- Row 3: 3 yellow stars + 3 yellow stars =
- Row 4: 3 teal stars + 4 teal stars =
- Row 5: 6 orange stars + 2 orange stars =