

**ESCUELA:** CENS “SOLDADOS DE MALVINAS”

**DOCENTE:** Claudia Verónica Alvarez

**CORREO ELECTRÓNICO:** [profe.vero1y2@gmail.com](mailto:profe.vero1y2@gmail.com)

**AÑO:** 2º 1ª

**TURNO:** NOCTURNO

**AREA CURRICULAR:** HISTORIA Y GEOGRAFÍA

**GUÍA N°:** 7

**FECHA DE PRESENTACIÓN:** **24 de AGOSTO de 2020**

**TEMA: RASGOS FÍSICOS DE AMÉRICA.**

**Objetivos**

- Caracterizar la diversidad de relieves del Continente Americano.
- Localizar los distintos relieves de América.

**Contenidos**

- Condiciones físico – naturales de América.
- Relieve del Continente Americano.

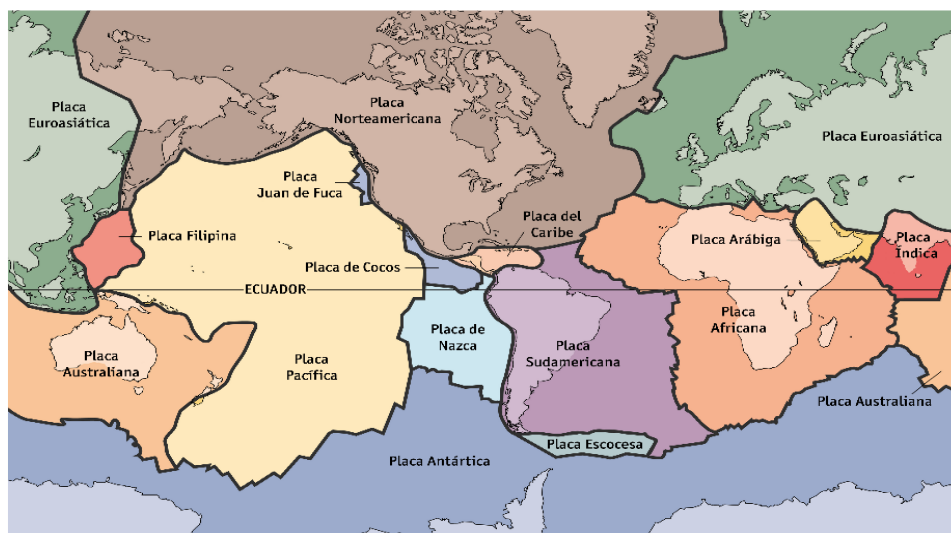
**Capacidad a desarrollar**

- Comprensión lectora.
- Resolución de problemas.

**Actividades**

1. Lee atentamente el texto y observa la imagen.

La Teoría de Tectónica de Placas, nos enseña que la corteza terrestre está fragmentada en placas, las cuales se desplazan en diferentes direcciones. Observa el siguiente mapa y completa según corresponda:



**2. Completa**

AMÉRICA se encuentra sobre las placas ....., la placa ....., y la placa..... Hacia el oeste las placas..... y de..... afectan a las estructuras americanas.

Los procesos exógenos modifican la forma del relieve externo, desgastando su superficie y se lo conoce con el nombre de..... La acumulación de materiales, se denomina.....

Nombre los distintos agentes erosivos que modifican el relieve.....

**3. Responde**

a) ¿Por qué las montañas se encuentran al oeste de América del Norte y del Sur, respectivamente?

**4. Trabajamos con el siguiente esquema. Lee y analiza**



- En Macizos o montañas antiguas (último cuadro) falta Meseta Patagónica.

**5. Nos informamos.**

**Características del Relieve en América**

**El relieve**, es la forma que presenta la superficie terrestre, montañas, llanuras, mesetas, valles. Por su extensión América presenta una gran variedad de relieves, estructuras antiguas (macizos, escudos, mesetas), áreas inestables (montañas) y relieves más jóvenes y estables (llanuras). Ahora vamos a caracterizar cada una de él.

**AMÉRICA DEL NORTE:**

En el occidente se encuentra el Macizo Plegado del Oeste. Constituido por dos cordilleras, una al este llamada Rocallosas y otra al oeste llamada Cadena de la Costa. Entre ambos cordones se encuentran valles muy aprovechados por el hombre mediante la agricultura intensiva con irrigación.

- En el este se encuentran los Montes Apalaches, montañas bajas. Las laderas orientales caen abruptamente hacia la llanura atlántica, por lo que los ríos forman numerosos saltos.
- Las planicies o llanuras ocupan el centro de América del Norte, desde la costa del océano Ártico hasta las del Golfo de México y al sudoeste hasta la costa atlántica. En el norte se encuentra sobre el Escudo Canádico.
- En el extremo norte se extiende el Escudo Canádico es un antiguo macizo sumamente erosionado y convertido en llanura y meseta. Fue fracturado y afectado por la glaciación, por ello abundan cuencas lacustres (lagos). Es un área muy rica en recursos minerales y forestales

### AMÉRICA CENTRAL

Está integrada por un istmo que comunica A. del Norte con A. del Sur y un arco insular que enmarca e Mar Caribe.

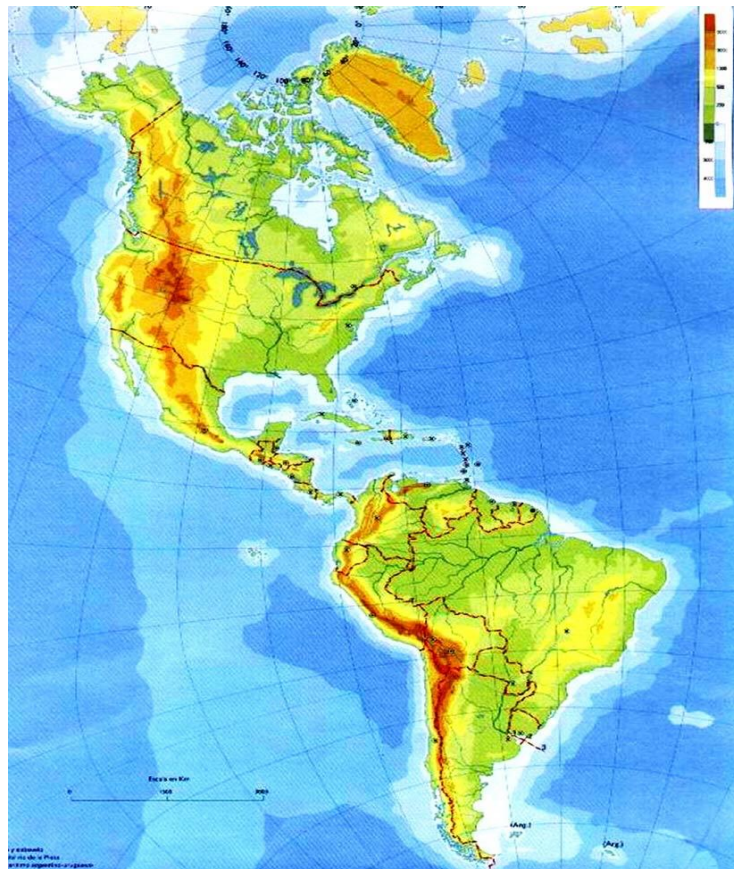
- Parte Ístmica: en el istmo predomina el relieve montañoso con un cordón paralelo al océano Pacífico. De dicho cordón se desprenden hacia el este serranías que se hundan en el Mar Caribe reapareciendo en el sector insular. Estas serranías se abren en forma de abanico y encierran mesetas y valles que desciende a la llanura del Caribe. Las llanuras son litorales, bajas, pantanosas y en continuo crecimiento
- Arco Insular: se lo suele dividir en Grandes Antillas, Pequeñas Antillas e Islas Bahamas. Los relieves montañosos de las Grandes Antillas, adquiere su mayor altura de 3175m. Las Pequeñas Antillas en su mayor parte son de naturaleza volcánica, rodeadas por formaciones coralinas. Las Bahamas son de origen coralino, con suaves colinas de no más de 60m.de altura.

### AMÉRICA EL SUR

✚ Al oeste se encuentra un gran macizo montañoso denominado Cordillera de los Andes. Tiene una dirección general norte-sur, se extiende desde Venezuela, hasta la isla de los Estados, en el sur de argentino. A partir de ella se hunde y forma un arco de la Antillas Australes, reapareciendo en la península antártica con el nombre de Antartandes. Esta Cordillera se divide en tres sectores:

- **Andes Septentrionales:** comprende el área que se encuentra en Venezuela, Ecuador y norte de Perú. Se caracteriza por tener cordones montañosos paralelos reunidos en nudos orográficos
- **Andes Centrales:** ocupan el centro y sur de Perú, oeste de Bolivia, norte de Chile y noroeste de Argentina. Es el sector más ancho, los encadenamientos se distancian y encierran el gran altiplano, de alrededor de 4000m de altura, denominada PUNA. Este sector se caracteriza por su aridez.

- **Andes Meridionales:** caracterizado por las grandes diferencias paisajísticas, entre el norte y el sur del sector. Esta área se divide en los *Andes Áridos*, donde se encuentran las mayores alturas, se destacan el cerro Aconcagua(6959m), el Tupungato (6800m), el Mercedario(6770m). Los *Andes Patagónicos Fueguinos* se presentan en forma de cordones aislados separados por valles que la acción glaciaria ensanchó y profundizó, dando origen a áreas deprimidas ocupadas por agua, formando los lagos.
  - ✚ Al este de los Andes se encuentran los grandes bloques antiguos que fueron fracturados y dislocados durante el plegamiento andino. Ellos son: Guayana, Brasilia y Patagonia. Sobre estos macizos corren los ríos de las cuencas del Orinoco, del Amazonas y de la Plata, por lo que presentan saltos y cascadas.
    - Sobre los bloques hundidos se acumularon sedimentos marinos y continentales, formando las actuales llanuras del Orinoco, del Amazonas y la platense, donde los ríos también contribuyen a la colmatación de las cuencas.
6. Localiza en el siguiente mapa las estructuras de relieve más importantes de América. Recuerda tener en cuenta los colores. Marrón: montaña- Amarillo: Macizo o meseta- Verde: Llanura






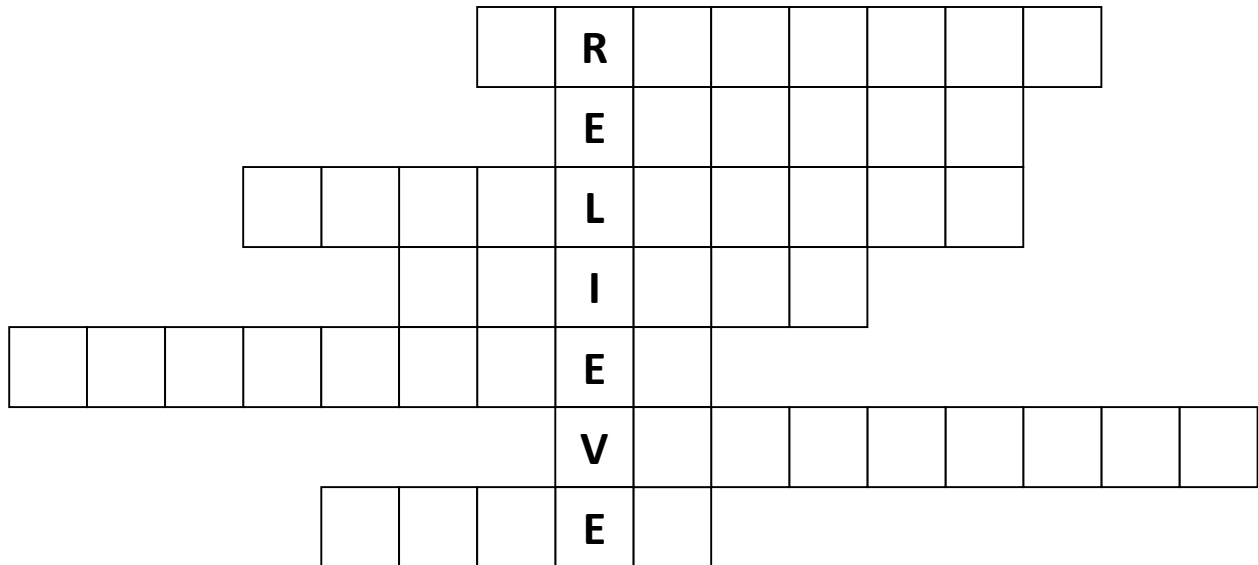
En esta imagen satelital puedes observar las principales estructuras del relieve.

**Actividades:** Luego de la lectura del texto, realiza el siguiente crucigrama

#### **REFERENCIAS**

1. Macizo de América del Sur
2. Relieve al norte de América del Norte
3. Montañas del oeste
4. Sector de los Andes con las máximas alturas
5. Montes al este
6. Las Pequeñas Antillas son de origen...
7. Cordillera que se extiende al oeste
8. Las llanuras de América Central son bajas y ...
9. Llanura de América del Sur
10. Nombre de la cordillera que se encuentra en la Antártida
11. Las Islas Bahamas son de origen...

- 12. Llanura de América del Sur
- 13. Máxima altura de la Cordillera de los Andes
- 14. Altiplanicie



**BIBLIOGRAFÍA**

**Geografía; sociedad y naturaleza en América Latina.** Márquez M. y otros. Ed. Estrada. Buenos Aires, Argentina. 2015

**Geografía: Espacios geográficos de América.** Editorial Santillana

**DIRECTORA: ROMINA A. RIOFRIO DÁVILA**