

GUÍA PEDAGÓGICA N ° 24 DE RETROALIMENTACIÓN- GRUPO 2.

ESCUELA: LEOPOLDO CORRETJER

CUE: 700037200

DOCENTES: CARINA VARGAS, LAURA JOFRÉ, CLAUDIA VALVEDE.

GRADOS: PRIMERO “A”, “B” Y “C”.

TURNO: TARDE

ÁREAS CURRICULARES: MATEMÁTICA – LENGUA - CIENCIAS NATURALES.

DESAFÍO: ARMAR CON MATERIAL DESCARTABLE ANIMALES CON FORMAS DE CUERPOS GEOMÉTRICOS.

CONTENIDOS:

CIENCIAS NATURALES: LOS ANIMALES: COBERTURA Y DESPLAZAMIENTO.

MATEMÁTICA: UBICACIÓN EN EL ESPACIO: POSICIÓN, ORIENTACIÓN Y DISTANCIA. CUERPOS GEOMÉTRICOS. UNIDADES DE MEDIDA: CAPACIDAD.

LENGUA: ESCRITURA DE PALABRAS. NOCIÓN DE ADJETIVO, SUSTANTIVO Y VERBO.

INDICADORES DE EVALUACIÓN PARA LA NIVELACIÓN:

CIENCIAS NATURALES: CLASIFICA LOS ANIMALES SEGÚN SUS CARACTERÍSTICAS DE COBERTURA Y DESPLAZAMIENTO.

MATEMÁTICA: UBICA OBJETOS EN EL ESPACIO. RECONOCE LOS CUERPOS GEOMÉTRICOS. IDENTIFICA INSTRUMENTOS PARA MEDIR CAPACIDADES.

LENGUA: LEE Y COMPRENDE TEXTOS SENCILLOS: ADIVINANZAS. ESCRIBE PALABRAS CON SOPORTE GRÁFICO APLICANDO LA NOCIÓN DE SUSTANTIVO, ADJETIVO Y VERBO.

FECHA: MARTES 24- 11-2020

ÁREA CIENCIAS NATURALES.

ACTIVIDADES

1. OBSERVA CON ATENCIÓN LA SIGUIENTE IMAGEN.



2. RODEA EN LA IMAGEN:

- CON ROJO UN ANIMAL QUE VUELA Y TIENE PLUMAS.

- CON AZUL UN ANIMAL QUE SE ARRASTRA Y TIENE ESCAMAS.
- CON NEGRO UN ANIMAL QUE CAMINA Y TIENE PELOS.

ÁREA LENGUA.

ACTIVIDADES

1. OBSERVA CADA ANIMALITO EXTRAÍDO DE LA IMAGEN Y COMPLETA LA ORACIÓN:



EL..... ES



EL..... TIENE SU CUERPO CUBIERTO CON.....



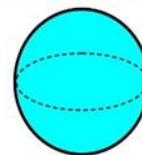
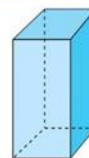
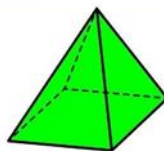
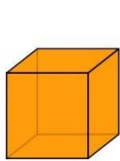
EL MONO.....BANANA.

FECHA: MIÉRCOLES 25-11-2020

ÁREA MATEMÁTICA.

ACTIVIDADES

1. UNE CADA CUERPO GEOMÉTRICO CON EL NOMBRE.



PRISMA

PIRÁMIDE


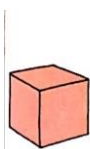
CUBO

CONO

ESFERA

CILINDRO

2. COLOREA EN CADA CASO DOS OBJETOS QUE TIENEN LA MISMA FORMA QUE EL CUERPO GEOMÉTRICO.



ÁREA CIENCIAS NATURALES Y LENGUA.

ACTIVIDADES

1. LEE COMO PUEDAS CADA CARTEL Y UNE CON EL ANIMAL QUE CORRESPONDA.



CAMINA Y TIENE PELOS



NADA Y TIENE ESCAMAS



CAMINA Y TIENE PLUMAS

FECHA: JUEVES 26-11-2020

ÁREA MATEMÁTICA.

ACTIVIDADES

2. MIRA CON ATENCIÓN Y RESPONDE RODEANDO LA RESPUESTA CORRECTA.

• ¿QUÉ ANIMAL ESTÁ ARRIBA DE LA JAULA?

• ¿QUÉ ANIMAL ESTÁ A LA DERECHA DE LA VACA?

• ¿QUÉ ANIMAL ESTÁ DENTRO DE LA JAULA?

• ¿QUÉ ANIMAL ESTÁ ENTRE EL CABALLO Y EL CERDO?

ÁREA LENGUA.

ACTIVIDADES

1. ESCRIBE COMO PUEDAS LOS NOMBRES DE LOS ANIMALES QUE RODEASTE EN EL PUNTO ANTERIOR.

FECHA: VIERNES 27-11-2020.

ÁREA MATEMÁTICA.

ACTIVIDADES

1. PINTA DE ROJO LOS RECIPIENTES QUE CONTIENEN MÁS DE UN LITRO Y DE VERDE, LOS QUE CONTIENEN MENOS DE UN LITRO.



ÁREA CIENCIAS NATURALES, MATEMÁTICA Y LENGUA.

ACTIVIDADES

1. UTILIZANDO MATERIAL DESCARTABLE, CONFECCIONA 3 ANIMALES CON FORMA DE CUERPOS GEOMÉTRICOS, COMO TE MUESTRA EL EJEMPLO.



2. CONFECCIONA UNA FICHA PARA CADA ANIMALITO QUE HICISTE, MARCANDO LA RESPUESTA CORRECTA:

- NOMBRE DEL ANIMAL.....
- ¿CÓMO ES? PEQUEÑO – MEDIANO - GRANDE
- ¿CÓMO SE DESPLAZA? NADA – VUELA – CAMINA – SE ARRASTRA
- ¿CON QUÉ ESTÁ CUBIERTO SU CUERPO? PELOS – PLUMAS - ESCAMAS

EVALUACIÓN: ENVÍALE A TU SEÑO UNA FOTO DE CADA ANIMALITO QUE CONFECCIONASTE CON SU RESPECTIVA FICHA DESCRIPTIVA.

DIRECTORA: ESTELA MARTÍNEZ

VICEDIRECTORA: MARÍA E. JALED