

GUÍA PEDAGÓGICA Nº10

Escuela: Educación Especial India Mariana

C.U.E.7000205-00

Docente: Docente de Apoyo a la Inclusión Lorena Muñoz

Alumna integrada: Jenifer Romero

Turno: Tarde

Grado: 2º “D”

Áreas: Ciencias Sociales, Ciencias Naturales, Matemática, Lengua, Formación Ética y Ciudadana y Especialidades.

Título: “LLEGO EL INVIERNO”

Contenidos:

- **Área Matemática:** Números hasta 199. Regularidades numéricas. Situaciones problemáticas.
- **Área Lengua:** Escucha, comprensión y disfrute de poesías, coplas, canciones, adivinanzas, etc. otros géneros poéticos orales. La escritura autónoma de palabras y oraciones que conforman textos.
- **Área Ciencias Sociales:** Las conmemoraciones históricas para el afianzamiento de la identidad nacional.
- **Área Ciencias Naturales:** Los seres vivos. Características según su hábitat, su desplazamiento, su alimentación su cuerpo.
- **Área Formación Ética y Ciudadana:** Deberes y Derechos, especialmente de los niños, normativa que los ampara.
- **Área Tecnología:** Producto Tecnológico. Materiales y propiedades. Técnicas. Medios Técnicos. Oficios y profesiones.
- **Área Educación Musical. Contenidos:** Sonidos del entorno natural y social.

DÍA 1 ÁREA: MATEMÁTICA.TÍTULO: JUGANDO CON LOS NÚMEROS.

1- Jugamos a las cartas formando números hasta el199.

Materiales para la elaboración de un mazo de 40 cartas.

Si no tienes puedes elaborarlas con cartón, papel o cartulina. Recuerda los números deben ser del 0 al 9. Jugamos en familia.

Se reparten al azar 3 cartas a cada integrante de la familia y se les pide que armen el mayor número posible. Luego comparan los números logrados y se anota un punto el que armó el mayor. Al cabo de 3 vueltas el ganador es el que obtiene más puntos.

RECUERDA formar números menores que 199.

A) Escribe 3 números de los que obtuviste recuerda que debe ser menor que 199, escribe su anterior y posterior.

2- Completa la serie:

100	101	102		104	105	106			109
110		112	113	114	115	116	117		
120	121				125	126	127	128	129
	131	132	133	134	135			138	139
140		142		144		146		148	

A) Pinta de verde los números terminados en 7 y de azul los terminados en 9.

B) Pinta de rojo los números: 100, 115, 121, 132, 140, 144, 149.

DÍA 2 ÁREA: LENGUA. TÍTULO: DISFRUTAMOS DE LA LECTURA.

1- Lee con atención la poesía.

¡BRRRR LLEGA EL INVIERNO!

CON UNA BLANCA BUFANDA

Y LA NARIZ COLORADA,

TRAYENDO FRÍO EN SUS MANOS

ANDA POR CALLES Y PLAZAS.

LOS ARBOLITOS SE QUEDAN

CON SUS RAMITAS PELADAS,

Y LOS CHICOS, ABRIGADOS,

LO MIRAN POR LA VENTANA.

ES QUE LLEGÓ DON INVIERNO

Y, EN UN RINCÓN DE MI CASA,

SOBRE UN ALMOHADÓN MULLIDO,

DUERME PELUSA ¡MI GATA!

2- Coloca una x en la respuesta correcta.

EL INVIERNO TRAE: calor... lluvia... frío...

LOS ARBOLITOS TIENEN LAS RAMAS: peladas..... florecidas.... brotadas...

EN UN RINCÓN DUERME: el perro... la gata... el canario...

A) ¿Cómo se llama la estación del año que ha llegado? Busca su nombre en la poesía y subráyalo.

3- Arma en tu cuaderno un muñeco de nieve, con algodón, papel.

DÍA 3 ÁREAS: MATEMÁTICA Y LENGUA. TÍTULO: MÁS CÁLCULOS.

1- Problemas del frío. Carla y su mamá salieron de compras, éstas son las dos vidrieras que miraron.



2- Responde:

- ¿Cuál de los dos negocios crees que les conviene para comprar? ¿Por qué?

Le ayudamos a Carla




Entre mi mamá y yo tenemos \$ 250 para gastar.

- Si me compro en el local 1 un pantalón y un par de zapatillas. ¿Cuánto dinero gastaré? ¿Cuánto dinero me sobrará? Utiliza los billetes para realizar las cuentas.

ÁREA: LENGUA TÍTULO: ¿QUIÉN ES QUIÉN'?

3- Lee las pistas y trata de descubrir cómo se llama cada uno de éstos chicos



- ✓ A *Luciana* le encanta usar moño en su pelo.
- ✓ *Martín* está siempre de buen humor pero no se nota en el invierno porque es muy friolento.
- ✓ *Ana* nunca se separa de Camila, su muñeca.
- ✓ *Santiago* juega al fútbol como delantero.
- ✓ *Pablo* se puso bufanda porque esta mañana se levantó resfriado. Cuando *Federico* entra a la cancha se saca los lentes para no romperlos.

DÍA 4 ÁREA: MATEMÁTICA TÍTULO: ¡A CALCULAR!

1- Resuelve las sumas (usa los billetes para resolver), pinta aquellas que coincidan con el número.

150 $100 + 50 =$ $50+50+50=$ $150 + 50 =$

130 $100+3=$ $100 +10+20 =$ $100+15+15=$

ÁREA: TECNOLOGÍA DOCENTE: SUSANA ACOSTA

2-Completa con la información solicitada para cada imagen:



3-Nombre del producto:

¿De qué material o materiales es?


¿Para qué sirve?

¿Qué trabajador lo usa? Coloca oficio del trabajador (carpintero, mecánico, agricultor, etc.)

DÍA 5 ÁREA: MÚSICA Y CIENCIAS NATURALES

DOCENTE DE MÚSICA: ANDREA CUELLO TÍTULO: LOS SONIDOS

- Repasamos y practicamos:



- 1- Sonidos Onomatopéyicos – Reproducir las voces de estos animales.
- 2- Busca en Diarios y revistas imágenes, recorta y pega, para luego reproducirlos.
Sonidos del campo y la Ciudad

ÁREA.: CIENCIAS NATURALES TÍTULO: LOS ANIMALES

Observa los siguientes animales y completa:

¿De dónde nacen? ¿De qué tienen cubierto su cuerpo? ¿De qué se alimenta? ¿Por dónde respiran? ¿Es vertebrado o invertebrado?



DÍA 6 ÁREAS: CIENCIAS SOCIALES, FORMACIÓN ÉTICA Y CIUDADANA.

TÍTULO “LOS NIÑOS PRIMERO”

- 1- Mira con atención las situaciones y pinta solamente aquellas que se relacionan con tus derechos.

1-Tener la computadora en mi habitación. 2- Que me llamen por mi nombre. 3- Jugar en mi tiempo libre.

1

2

3




4-Comer golosinas. 5- Ir a la escuela. 6- Que me cuiden cuando me enfermo.

4

5

6



2-Escribe un mensaje de cómo te gustaría que te traten los adultos.

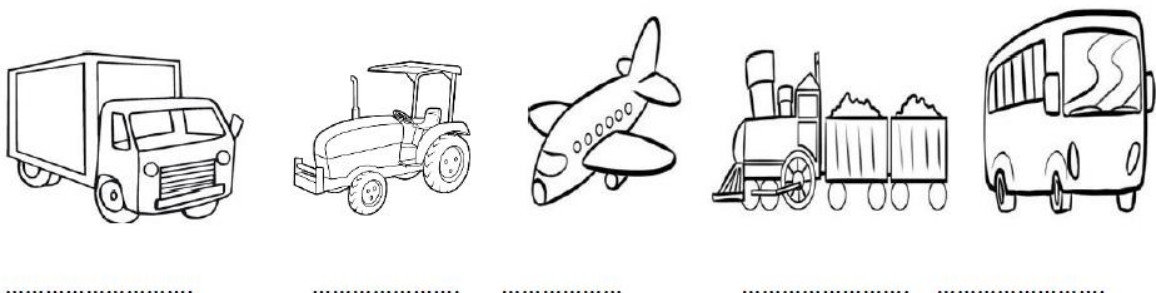
DÍA 7 ÁREA: CIENCIAS SOCIALES. Título: MEDIOS DE TRANSPORTE RURAL Y URBANO.

1- Observa las imágenes



2-Responde:

¿Qué transportes observas en cada imagen? Escribe rural o urbano según corresponda.



.....

DÍA 8: Área CIENCIAS SOCIALES. TÍTULO: ÉFEMERIDES DEL 17 DE AGOSTO.

¿Qué te parece si aprendemos un poquito sobre la vida del General San Martín?

1- Escucha con atención.

José de San Martín nació en un pueblito de nuestro  **llamado**

Yapeyú cuando era chiquito le gustaba jugar con sus 

A los tres años viajó en  **a España,**

siendo muy joven estudió para ser 

Volvió a nuestro país porque quería que todos fuéramos libres.

Se enamoró de una  **llamada Remedios, con ella tuvo**

una hermosa  **llamada Merceditas.**

Para luchar contra los españoles cruzó 

Hoy todos le decimos: “Gracias Padre de la Patria”.

2- Completa las palabras para descubrir cómo era el General de San Martín.

L__ cha__ __r Val__ent__ Res__etu__s__

DIA 9: ÁREA MATEMÁTICA. TÍTULO: DESCUBRE EL VALOR DE LOS NÚMEROS.

1- Escribo que valor ocupa el número que está pintado con rojo.

122

VALE 100

85

VALE.....

151

VALE.....

156

VALE.....

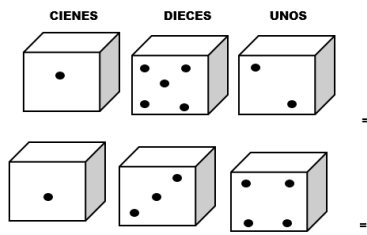
93

VALE.....

148

VALE.....

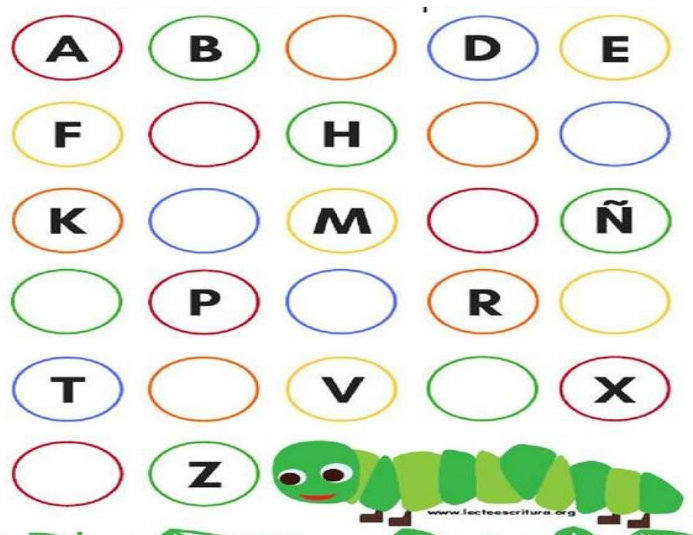
2- Mira los dados y arma los números.



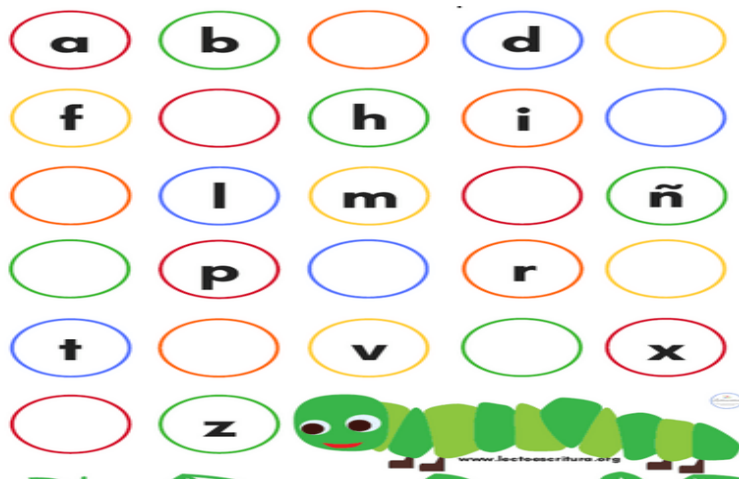
DÍA 10: ÁREA LENGUA. TÍTULO: EL ABECEDARIO.

1- Completo el abecedario.

❖ Con mayúscula imprenta.



❖ Con minúscula imprenta.



2- Busca en revistas, diarios palabras en mayúscula imprenta y minúscula imprenta, pégalas en el cuaderno.