

GUÍA PEDAGÓGICA N° 23 DE RETROALIMENTACIÓN

Grupo 2

Escuela: Provincia de Catamarca

CUE: 700052300

Docentes: Gomis, Laura – Lezcano, Noemí – Echegaray, Cristina- Ochova, Nadia

Grado: 5°A y B

Turno: Mañana

Áreas: Matemática, Ciencias Naturales, Formación Ética y Ciudadana, Artes Visuales y Educación Física.

Título: ¡Del dicho al hecho la salud es un derecho!

Contenidos: Matemática: Numeración hasta el 1.000.000. Operaciones con números naturales (sumas, restas, multiplicaciones). Situaciones problemáticas. Ciencias Naturales: Alimentación, dieta equilibrada y salud. Formación Ética y Ciudadana: Alimentación saludable. Artes Visuales: Elementos plásticos del lenguaje visual: Línea, forma y color. Educación Física: Juego.

Indicadores de Evaluación para la Nivelación:

Matemática

- * Resuelve situaciones que involucren sumas, restas y multiplicaciones de números naturales.
- * Descompone en forma posicional, sumativa y multiplicativa los números naturales.
- * Establece relaciones entre mayor que, menor que, igual que de números naturales.

Formación Ética y Ciudadana

- * Reconoce alimentos saludables considerando un video y el crucigrama como soportes claves para su interpretación.

Ciencias Naturales

- * Distingue alimentos saludables según su función a través de preguntas sencillas que forman parte de la vida cotidiana.
- * Realiza una descripción de las naranjas observando una imagen.
- * Manipula diferentes tipos de naranjas eligiendo las más adecuadas para la preparación del jugo natural.

Artes Visuales

- * Respeta la consiga.
- * Manipula herramientas y materiales.
- * Utiliza los elementos plásticos visuales para la relación de la creatividad entre figura y forma.

Educación Física

- * Participa activamente del juego.


Desafío: **Crear un microemprendimiento de venta de un alimento saludable.**

Actividades

Docentes: Gomis Laura -Lezcano Noemí- Echegaray Cristina y Ochova Nadia.

Lunes, 9 de noviembre de 2020

Matemática 1 La mamá de Belén compró frutas para preparar una rica ensalada de frutas. Tiene **125kg.** de manzanas; de peras **24kg.** ; uvas **16kg;** bananas **12kg** y naranjas **10kg.** Resuelve:



A- ¿Cuántos kilogramos ha comprado en total?

B- Si solo ocupó del tota **150kg** de frutas ¿Cuántos kilos le quedan sin ocupar?

2. Esta es la cantidad de frutas que la mamá de Belén compra al mes, descompone la cifra en forma: **posicional, sumativa y multiplicativa:**

912.025

.....

.....

.....

Ciencias Naturales

1- Señala con una cruz(x) la respuesta correcta:

❖ Comemos varias veces al día. La acción por la cual ingerimos comidas y bebidas ¿se llama?

a) Alimentación.

b) Cena.

❖ Proviene de alimentos de origen animal como la carne, los huevos y la leche.

a) Grasa y lípidos.

b) Proteínas.

❖ Se encuentran en las verduras y frutas, estos nutrientes permiten mantener un crecimiento saludable.

a) Vitaminas y minerales.


b) Carbohidratos.

❖ Las verduras y frutas son alimentos saludables porque...

a) Sirven para una dieta.

b) Aportan vitaminas y minerales.

2- En este laberinto debes ayudar a Belén a buscar la salida de las frutas porque ellas aportan a nuestro cuerpo los nutrientes que necesitas para crecer y para reponer nuestras partes dañadas.



Martes, 10 de noviembre de 2020

Matemática 1. Belén ayuda a su madre a exprimir naranjas. Han comprado 28 cajones y en cada uno hay 235 naranjas. ¡Piensa y resuelve! A- ¿Cuántas frutas deberán exprimir? B –Si dos de los cajones tiene las naranjas en mal estado ¿Cuántas naranjas sanas podrán utilizar para el jugo? 2. Belén y su madre están comparando el dinero recaudado en la venta, de los dos últimos dos años, de jugos naturales. Coloca mayor, menor o igual que... (< , > o =)

2018		2019
\$27.609	\$27.099
\$109.899	\$12.000
\$55.078	\$49.999

Ciencias Naturales: 1- Lee con atención.



Ariel



Lucía

a) ¿Quién tiene razón?
¿Por qué?

b) Busca y escribe el significado de:

Emprender:

Aprender y emprender es lo mismo

¡No es lo mismo Ariel!

Entonces un **microemprendimiento** es un negocio que se crea con poca inversión y puede estar a cargo de una o varias personas. Algunas veces son familiares que deciden hacer realidad un proyecto.

¡Manos a la obra!

2- Escribe y dibuja en un borrador cómo puedes hacer un jugo de naranja.

3- Observa la imagen y describe lo que ves.

4- El microemprendimiento que realizarás con la ayuda de tu familia será hacer jugo natural de naranja.



Miércoles, 11 de noviembre de 2020

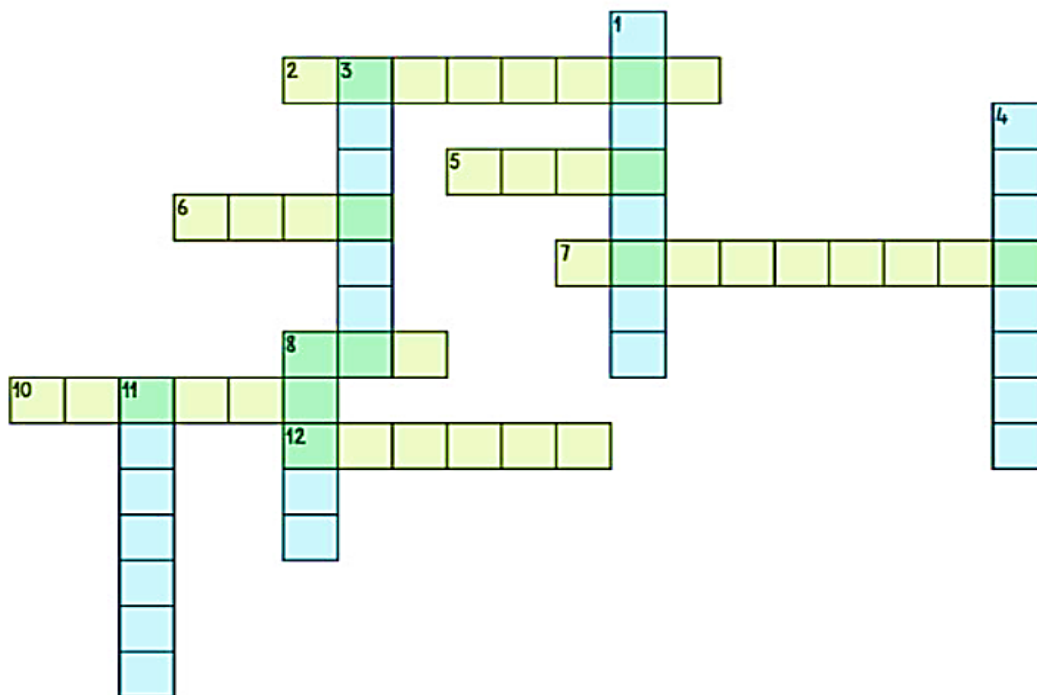
Matemática

1. Estas son distintas cantidades de naranjas compradas mes a mes. Ordena de menor a mayor.

8.989 – 88.084 – 888.000 – 880.099 – 80.999

2. Belén está preparando ensalada de frutas. Cada porción tendrá un costo de \$25 pesos. Piensa: El primer día vendió 286 porciones. ¿Cuánto dinero recaudó?

Formación Ética y Ciudadana 1 Mira el video y con ayuda de las referencias completa el crucigrama. <https://youtu.be/QeXzKq95H8c> “Promoviendo hábitos de alimentación saludables”



VERTICAL.	HORIZONTAL.
1- Si mezclamos tomate, lechuga y cebolla tenemos una...	2- Estación en la que hace frío y se comen guisos, sopa, lentejas...
3- Fruta que tiene el mismo nombre que un color.	5- Cuando tenemos mucha sed, bebemos...
4- Primera comida del día.	6- Animal del que se obtiene la leche.
8- Las uvas secas se llaman...	7- Verdura de color naranja que crece bajo tierra.
11- Actividad en la que se preparan y se cuecen los alimentos.	8- Alimento hecho con harina.
	10- Lugar en la casa donde se preparan los alimentos.
	12- Pescado de color naranja – rosado.

Artes Visuales 1. Diseña la cartelera para tu microemprendimiento utilizando estilos de Arte Callejero. 2. Observa la imagen <https://ar.pinterest.com/pin/22658804357928809/> 3. Realiza el paso a paso según la imagen pero hazlo con el nombre que elegiste para tu microemprendimiento. 4. Píntalo con los colores que quieras y utiliza los materiales que tengas en casa. (Envía una foto del trabajo realizado).

Jueves, 12 de noviembre de 2020

Matemática

1 La mamá de Belén distribuye jugo natural de naranjas. Por día reparte 325 botellitas y las cobra a cada una a \$45 pesos. ¡A pensar! **A** ¿Cuánto dinero recauda en un día? **B**- ¿Y en 7 días? 2. Belén y su madre lograron envasar 486 botellas de jugo de naranja natural y solo tienen 2 heladeras para conservarlas. Piensa: ¿Cuántas botellas colocará en cada heladera?

Ciencias Naturales 1- Belén le muestra el siguiente gráfico a su familia para que observen los grupos de alimentos se han dibujado en un tamaño que refleja la proporción en que se deben comer diariamente. 2- Completa el cuadro con las palabras que corresponden: grasas- minerales- vitaminas- lípidos



Es muy importante comer frutas porque nos aportan -----

2- Revisa la ortografía de la receta del jugo de naranja y pasa en limpio.

3- Distribuye bien los roles de cada integrante de tu familia para la organización, cooperación y participación de todos.

Viernes, 13 de noviembre de 2020

Ciencias Naturales

1- Realiza un juego de compraventa. (Debes preparar el jugo y elementos que necesitarás para vender.)

2- Ensayá con tu familia la venta del jugo de naranja al público y practica cómo vender incorporando el uso de billetes.

Educación Física

1. Juega con tu familia a "Frutas y Verduras".

Todos los participantes estarán sentados alrededor de una mesa con las manos sobre ella pero sin tocarla. El animador se ubica de pie en un costado y nombra diferentes frutas a las que todos los jugadores responden golpeando la mesa suavemente con las manos (un solo golpe). Entre las diferentes frutas que nombra también lo hace con verduras. Cuando esto suceda, nadie debe golpear la mesa.

El jugador que lo hace pierde y sale del juego. Será ganador aquel jugador que esté muy atento y no se equivoca.

2. Observa con atención el video, en donde conocerás la importancia de la actividad física acompañada de una correcta alimentación. <https://youtu.be/jsqONxiLcYM>

3- Responde a) ¿Qué pasa con nuestro corazón cuando realizamos actividad física?

b) ¿Qué beneficios obtengo al realizar actividad física?

4- Envía un video o foto realizando el juego propuesto y las respuestas a las preguntas.

¿Te gustó aprender a preparar y vender jugo de naranja? ¿Por qué?

¡A disfrutar del exquisito jugo natural de naranja que preparaste! Envía las fotos de tu preparación y venta de jugo.



Directora: Coria, Andrea

Vicedirectora: Carpio, Sandra

Docentes: Gomis Laura -Lezcano Noemí- Echegaray Cristina y Ochova Nadia.