

EEE Cura Brochero – Segundo Grado – Áreas Integradas

ESCUELA: E.E. Cura Brochero.

DOCENTES: del Castillo, Flavia- Ramos, Yanina

GRADO: 2° grado Nivel: Primario Apoyo a la Inclusión

TURNO: Mañana.

ÁREAS: Lengua; Matemática; Ciencias Sociales; Ciencias Naturales

TÍTULO DE LA PROPUESTA: “Repasamos lo que aprendimos este año desde casa”.

CONTENIDOS SELECCIONADOS POR ÁREAS:

Lengua:

- Lectura y comprensión de textos.
- Adjetivos calificativos y verbos.
- Producción de oraciones y textos breves.

Matemática:

- Numeración hasta el 9.999
- Números ordinales del primero al décimo.
- Situaciones problemáticas sencillas.

Ciencias Sociales:

- Paisajes rurales y urbanos. Características.
- Circuito productivo de la leche.

Ciencias Naturales:

- El cuerpo humano. Hábitos que favorecen la salud: higiene personal y buena alimentación.

ACTIVIDADES:

EEE Cura Brochero – Segundo Grado – Áreas Integradas

Día 1: Lengua

-Con ayuda de un adulto, lee la siguiente lectura.

UNA BELLA AMISTAD

Pedro y Juan son amigos desde que eran pequeños. Pedro, es delgado, simpático y muy atento, vive en una enorme y ruidosa ciudad, trabaja en un famoso supermercado donde vende alimentos, frutas y verduras, carnes y lácteos. Su tarea ahí es ordenar, limpiar y cobrar.

Juan, es robusto, serio y callado, vive en la tranquilidad del campo y trabaja en una granja muy grande y colorida. Su tarea es alimentar y ordeñar las vacas para que luego esa leche llegue al supermercado donde trabaja Juan para ser vendida a los clientes.

Estos amigos viven muy lejos el uno del otro, pero una vez al mes se juntan con sus respectivas familias para compartir un rico asado y así fortalecer esa bellísima amistad que ambos tienen hace muchos años.

-Según lo leído, responde en el cuaderno:

- ¿Desde cuándo son amigos Pedro y Juan?
- ¿Dónde vive Pedro? ¿En qué trabaja?
- ¿Dónde vive Juan? ¿En qué trabaja?
- ¿Qué hacen una vez al mes?

Día 2: Ciencias Sociales y Lengua

-Imagina cómo es el lugar donde vive Pedro, dibújalo y descríbelo en forma escrita.



-Imagina cómo es el lugar donde vive Juan, dibújalo y descríbelo en forma escrita.



Día 3: Lengua

EEE Cura Brochero – Segundo Grado – Áreas Integradas

-Extrae de la lectura los adjetivos calificativos para completar el cuadro:

¿Cómo es?	Adjetivos calificativos
Pedro	Delgado, simpático...
Juan	
La ciudad	
El supermercado	
El campo	
La granja	


-Extrae de la lectura los verbos para completar el cuadro:

¿Qué hace?	Verbos
Pedro	Trabaja, vende ...
Juan	


Día 4: Ciencias Sociales y Lengua

-Juan trabaja en la granja ordeñando las vacas. Con ayuda de estas imágenes explica, en forma escrita, cómo es el circuito productivo de la leche, para que llegue al supermercado donde trabaja su amigo Pedro.


1




2




3



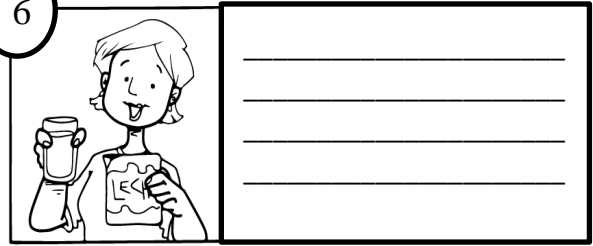
4



5



6




Día 5: Matemática

-Ayuda a Juan a calcular los litros de leche que recolectó al ordeñar las vacas y los litros que vendió durante la semana.

- El día lunes recolectó 5.500 litros de leche y el día martes 3.250 ¿Cuántos litros juntó en total?
- El día jueves recolectó 6.398 litros de leche y vendió 3.500 ¿Cuántos litros le quedaron?
- El día miércoles tenía que ordeñar 3.500 vacas. Si ordeñó 2.000 en la mañana ¿Cuántas vacas le queda para ordeñar a la tarde?
- El día sábado recolectó 4.250 litros de leche, si del viernes le quedaron 2.680 ¿Cuántos litros tiene en total?

Día 6: Ciencias Naturales y Lengua

-Pedro vende muchas cosas en el supermercado donde trabaja. Observa la siguiente imagen y encierra con un círculo verde los alimentos saludables y con un círculo rojo los no saludables.



EEE Cura Brochero – Segundo Grado – Áreas Integradas

-Con algunos alimentos saludables del punto anterior elabora un rico almuerzo para Pedro.

Escribe la receta con los ingredientes y la preparación.

Día 7: Matemática

-¡A Juan se le desordenaron las vacas! ¿Lo ayudas a colocar cada vaca en su corral?

-Lee las características de cada vaca y únela con el corral que corresponde.

- La vaca sin manchas va en el tercer corral.
- La vaca con tres manchas va el quinto corral.
- La vaca negra con cabeza blanca va en el décimo corral.
- La vaca más gorda va en el cuarto corral.
- La vaca con la campana va en séptimo corral.
- La vaca con el ternerito va en el primer corral.
- La vaca con el moño va en el segundo corral.
- La vaca más delgada va en el sexto corral.
- La vaca que está comiendo va en el noveno corral.
- La vaca con una sola mancha va en el octavo corral.

The image shows a matching exercise with two rows of cow illustrations and ten numbered stalls. A red arrow points from the first cow in the top row to the third stall.

Top row of cows (left to right):

- 1. A white cow with no spots.
- 2. A cow with three black spots.
- 3. A very round, stout cow.
- 4. A cow with black and white spots.
- 5. A cow with a bell around its neck.

Bottom row of cows (left to right):

- 6. A cow with a bell around its neck.
- 7. A dark brown cow with a white patch on its head.
- 8. A very thin, emaciated cow.
- 9. A cow with a small calf (ternerito) next to it.
- 10. A cow with its mouth open, appearing to be eating.


Stalls (left to right):


- 1°
- 2°
- 3°
- 4°
- 5°
- 6°
- 7°
- 8°
- 9°
- 10°

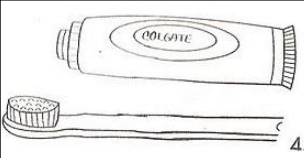
EEE Cura Brochero – Segundo Grado – Áreas Integradas

Día 8: Ciencias Naturales

-Pedro, para ir a trabajar todos los días al supermercado, debe estar bien limpio y presentable. Escribe cómo debe usar Pedro los siguientes elementos para tener una buena higiene personal.

	<hr/> <hr/> <hr/> <hr/> <hr/>
---	-------------------------------







	<hr/> <hr/> <hr/> <hr/> <hr/>
--	-------------------------------

	<hr/> <hr/> <hr/> <hr/> <hr/>
---	-------------------------------

Día 9: Matemática

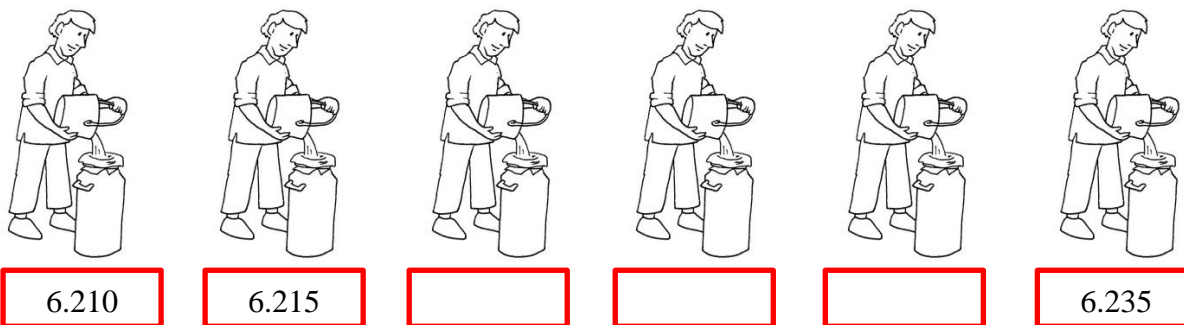
-Juan coloca la leche que extrae de las vacas en tachos de 2, de 5 y de 10 litros.

- Completa la serie de 2 en 2 para ayudarle a Juan en el control de los litros de leche recolectada.

					
2.510		2.514			2.520

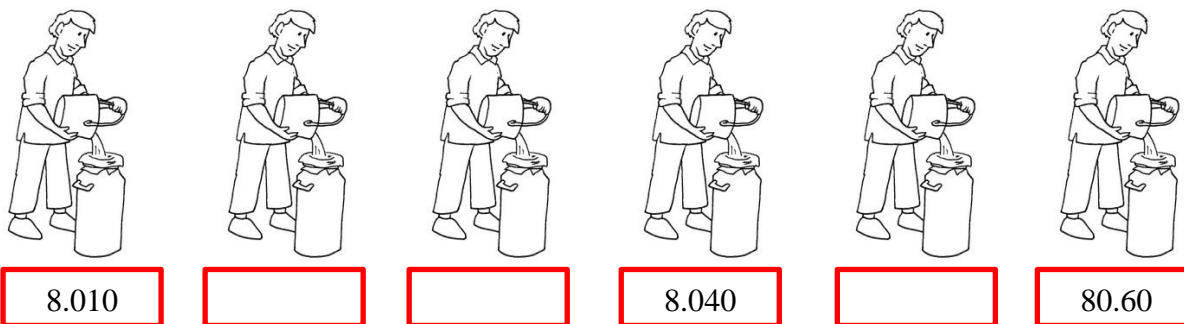
EEE Cura Brochero – Segundo Grado – Áreas Integradas

- Completa la serie de 5 en 5 para ayudarle a Juan en el control de los litros de leche recolectada.



6.210 6.215 6.235

- Completa la serie de 10 en 10 para ayudarle a Juan en el control de los litros de leche recolectada.




8.010 8.040 80.60

Día 10: Lengua

-Escribe cómo te sentiste en este año tan particular que nos tocó vivir, aprendiendo desde casa, con mucha ayuda y contención de tu familia.



QUERIDOS PADRES:



La familia es un pilar de la sociedad por eso agradecemos a los padres, cuyo apoyo es fundamental para sus hijos. Nuestros alumnos cuentan con las mejores herramientas para la vida, el amor de sus padres. Gracias por estar para ellos. La principal escuela es el hogar, gracias padres por la dedicación con sus hijos.



Director: Analía Cáceres