

ESCUELA: UEPA N° 9
PRIMER CICLO
ÁREAS CURRICULAR: ÁREAS INTEGRADAS.



ESCUELA: UEPA N° 9

DOCENTE: LIC. MARGARITA CASTRO

TURNO: NOCHE

ÁREA CURRICULAR: ÁREAS INTEGRADAS – ALFABETIZACIÓN.

TÍTULO DE LA PROPUESTA: CONOCEMOS A NUESTRA PROVINCIA

GUÍA PEDAGÓGICA N° 6

CONTENIDOS:

MATEMÁTICA: NUMEROS HASTA EL 9. ORDEN. CANTIDAD. CARDINALIDAD.

LENGUA: CONVENCIONES BASICAS DE ESCRITURA: LAS VOCALES.

CIENCIAS SOCIALES. EFEMÉRIDES. FUNDACIÓN DE SAN JUAN.

CAPACIDADES:

- **COMUNICACIÓN:**

DESCRIBIR, DE MANERA ORAL Y ESCRITA, SITUACIONES Y OBJETOS.

- **PENSAMIENTO CRÍTICO:**

COMPRENDER LA INFORMACIÓN ORAL Y ESCRITA EXPRESADA EN DISTINTOS SOPORTES.

- **RESOLUCION DE PROBLEMAS:**

DESCRIBIR COMPARAR, ANALIZAR Y RESOLVER PROBLEMAS MEDIANTE DIFERENTES HABILIDADES Y DESTREZAS.

OBJETIVOS:

- RECONOCER LAS VOCALES.
- DIFERENCIAR LOS NÚMEROS.
- CONOCER LA HISTORIA DE LA FUNDACIÓN DE SAN JUAN.

VIERNES 12 DE JUNIO

NOMBRE: _____

CIENCIAS SOCIALES

COMENTA EN FAMILIA

¿QUIÉN FUNDÓ LA PROVINCIA DE SAN JUAN?

.....

¿EN QUÉ LUGAR DE NUESTRA PROVINCIA SE PRODUJO ESTE HECHO?

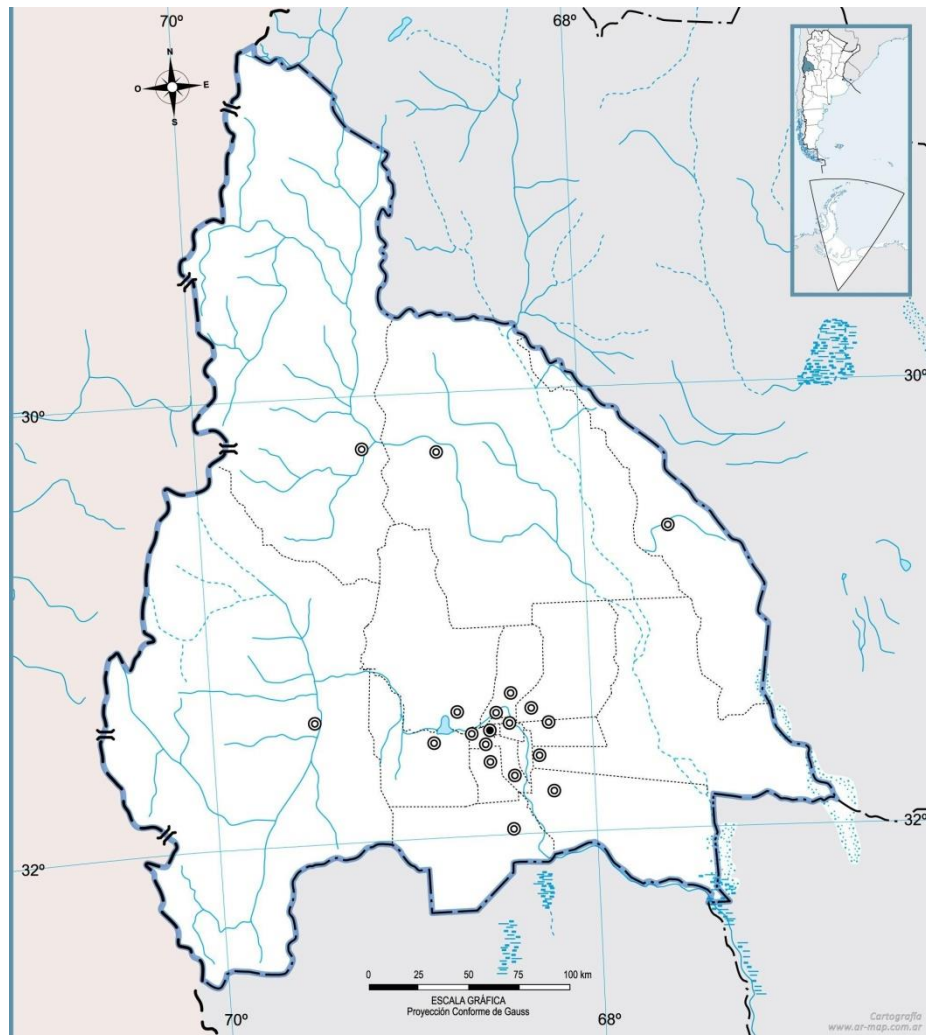
.....

OBSERVA LA SIGUIENTE IMAGEN:



¿A QUIÉNES REPRESENTAN? INTENTA NOMBRARLOS.

MARCA EN EL MAPA DE SAN JUAN EL DEPARTAMENTO CAPITAL Y EL DEPARTAMENTO EN EL QUE VIVES.



LUNES 15 DE JUNIO

NOMBRE: _____

ÁREA: MATEMATICA:

1. BUSCA UN PUÑADO DE FIDEOS (coditos-dedalitos-caracolitos) PARA MANIPULAR.





2. AHORA: CUENTA. AGRUPA. DESARMA. VUELVE A CONTAR DEL 1 A 9.
3. FORMA CON NÚMEROS MÓVILES, LOS N° DE LA TABLA DEL 1 AL 9.
4. CONSTRUYE LA TABLA EN TU CUADERNO. LUEGO DIBUJA LA CANTIDAD DE FIDEOS QUE CORRESPONDE A CADA N°.

1	2	3	4	5	6	7	8	9

- Ahora... ESCRIBE LOS NÚMEROS CON COLORES.

MARTES 16 DE JUNIO

NOMBRE: _____

ÁREA: MATEMÁTICA.

1. BUSCA LA BOLSA DE FIDEOS.

- FORMA 3 GRUPITOS DE 3 FIDEITOS. CONTAMOS ¿CUÁNTOS FIDEOS HAY EN TOTAL?

- AGRUPA TODOS LOS FIDEOS QUE CONTASTE Y LE SACAS 4. CONTÁ ¿CUÁNTOS TE QUEDARON?

2. DIBUJA LAS BOLITAS QUE NECESITES PARA REPRESENTAR EL NÚMERO INDICADO.

1 3 7 9

3. COMPLETA LOS NÚMEROS QUE FALTAN. DIBUJA LA SERIE.

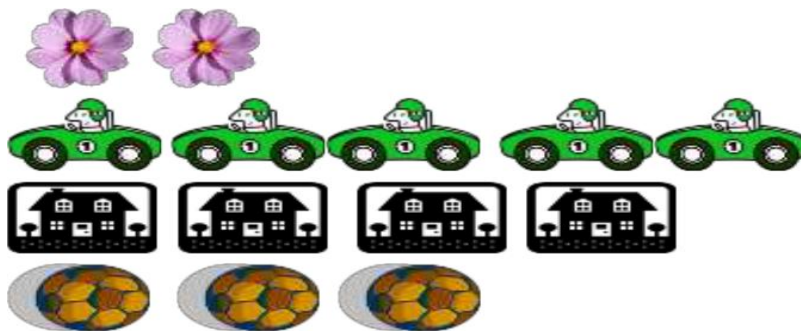


MIÉRCOLES 17 DE JUNIO

NOMBRE: _____

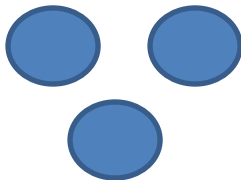
ÁREA: MATEMÁTICA:

1. ¿CUÁNTOS HAY?
2. CUENTA LOS OBJETOS Y ESCRIBE EL NÚMERO CORRECTO.

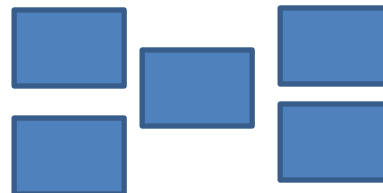


3. COMPLETA DIBUJANDO SEGÚN CORRESPONDA.

MÁS QUE...



MENOS QUE...



4. OBSERVA , LUEGO ESCRIBE LOS NÚMEROS Y SUS NOMBRES.



ÁREA: LENGUA.

LAS VOCALES

1. BUSCA Y RECORTA DE REVISTAS LAS VOCALES: A E I O U. PEGALAS AQUÍ.

2. SE ESCAPARON LAS “A”. VOLVELAS A ESCRIBIR EN SU LUGAR.



3. SOLICITA AYUDA PARA ESCRIBIR 3 PALABRAS QUE COMIENCEN CON A

--	--	--

JUEVES 18 DE JUNIO.

NOMBRE: _____

ÁREA: MATEMÁTICA.

1. BUSCA LOS FIDEOS:

- ARMA 2 GRUPOS DE 3 FIDEOS. A UNO AGREGALE 3 FIDEOS, Y AL OTRO SACALE 2 FIDEOS.

- VOLVÉ A CONTAR Y DIBUJÁ ¿CUÁNTOS QUEDARON EN CADA MONTONCITO?



ACÁ QUEDARON ____ FIDEOS. ACÁ QUEDARON ____ FIDEOS.

2. BUSCA EN UNA REVISTA LOS N° DEL 1 AL 9 . RECORTALOS.

ORDENALOS DE MAYOR A MENOR Y PEGA EN EL CUADERNO.

DIRECTOR: LIC. FABIÁN PÉREZ