

**GUÍA PEDAGÓGICA N°22 DE RETROALIMENTACIÓN****Escuela:** Antenor Flores Vidal**CUE:** 700009300**Docente:** Elena Silva**Grado:** 5° **Segundo Ciclo** **Nivel Primario****Turno:** Único**Áreas:** Matemática y Ciencias Sociales**Título:** “Conociendo mi Argentina”**Contenidos:****Matemática:** Números. Operaciones. Resolución de situaciones problemáticas.**Ciencias Sociales:** Organización y delimitación política del territorio Argentino.**INDICADORES DE EVALUACIÓN PARA LA NIVELACIÓN:**

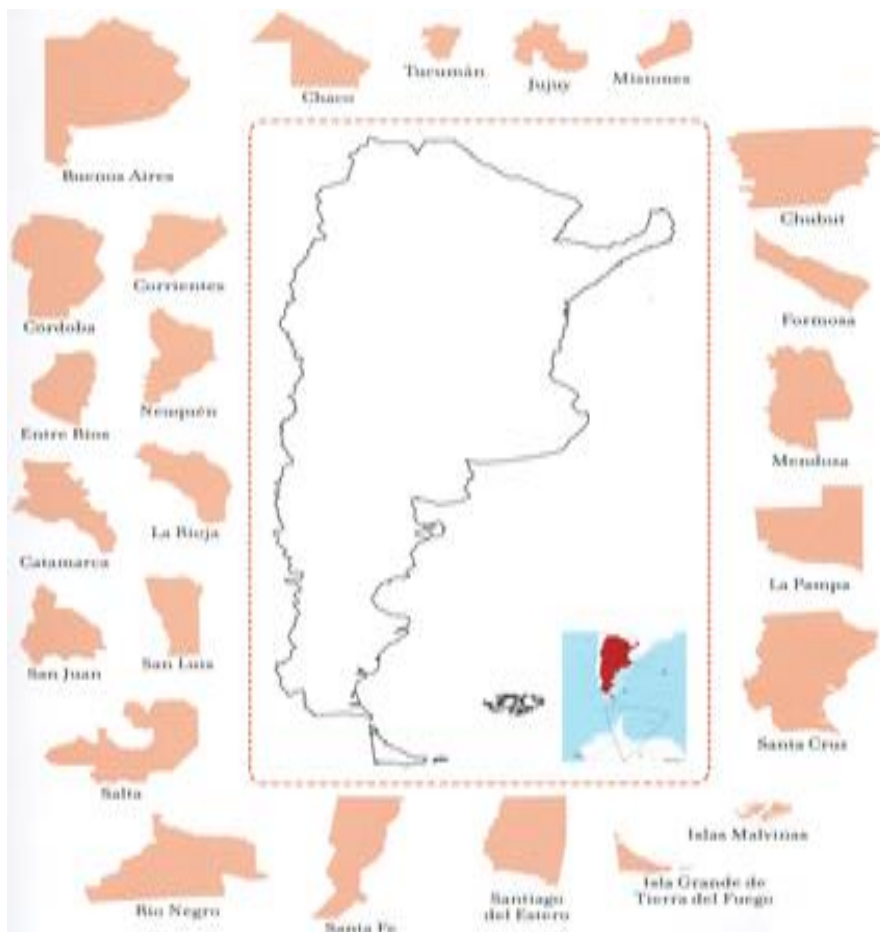
- 1 Localiza a la República Argentina en el mundo.
- 1 Busca y localiza límites.
- 1 Reconoce la forma de gobierno de nuestro País.
- 1 Reconoce sucesión numérica.
- 1 Resuelve situaciones problemáticas usando las operaciones adecuadas.
- 1 Identifica y usa correctamente los sentidos y tipos de operaciones básicas.
- 1 Lee escribe y descompone números menores que 1 millón.

**Actividades**

**Desafío:** Construcción de un rompecabezas, mapa de la República Argentina con sus provincias, usando la técnica collage, con diversos materiales.

1)-Con mucha atención arma el rompecabezas de 2 maneras distintas.





2)-Trabaja en el mapa de Argentina en las siguientes actividades.

a- Marca con quién limita nuestro país.

b- Pinta con rojo nuestra provincia.

c- Pinta con verde la Región de Cuyo. Señala la ciudad Autónoma de Buenos Aires.

3)-Indica con una X la opción correcta

A- La Argentina es un país ubicado en el extremo sur de América:

- SÍ
- NO

B- Nuestro país está conformado por cuántas provincias:

- 23
- 24
- 30



**C - Las Regiones de nuestro país son:**

- Región del Noroeste – Región Nordeste-  
Región de Cuyo –Región Pampeana – Región Patagonia.
- Región del Norte – Región del Centro – Región del Sur.
- Región del Noroeste – Pampeana – Región de Cuyo – Región del Sur.

**D- La Región Patagónica está conformada por las provincias de:**

- Neuquén, Río Negro, Chubut, Santa Cruz y Tierra del Fuego.
- Buenos Aires, Córdoba, Tucumán, Salta.
- San Juan, La Rioja y Misiones.

4)-**Indica** con una **X** la opción correcta:

**A- La forma de gobierno de la República Argentina es:**

- Representativa- Republicana- Federal
- Representativa – Unitaria – Demócrata
- Monárquica – Democrática.

**B- El pueblo argentino ¿Cómo elige a sus representantes?**

- Voto universal, obligatorio y secreto.
- Voto cantado.
- Ninguna es correcta.

**C- Los tres poderes de nuestro gobierno Nacional son:**

- Ejecutivo, Legislativo y Judicial.
- Legislativo, Judicial, Provincial.
- Federal, Legislativo y Judicial

**C- Los derechos de los niños y niñas son:**

- Derecho a no ir a la escuela, a pelear con los compañeros, a no respetar.
- Derecho al amor, a la igualdad, a la protección, a la educación, a la paz.
- Derecho a trabajar como un adulto y a no respetar las reglas.

**E- Todas las Regiones de nuestro país tienen culturas diferentes, nosotros debemos:**

- Ignorar y discriminar otras culturas.

- Todas las culturas son iguales.
- Respetar y valorar otras culturas.

5)- Busca y selecciona diferentes materiales (cartón- goma eva – papel de calcar- fotos – recortes – pinturas, etc.) y en un cartón arma el collage de nuestro país, luego recortarlo para armar el rompecabezas, donde cada provincia formará una pieza.

Luego intenta armarlo, juega reiteradas veces diciendo el nombre de ellas. Saca fotos y envía a la seño.

6)- Observar la siguiente información según el censo realizado en el 2010 y completar:

a)- ¿Cuál es la menor población? ¿A qué provincia corresponde?

b)- ¿Cuál es la mayor población? ¿De qué provincia se trata?

N°	Provincia	Población
01	Buenos Aires	15.625.084
02	Córdoba	3.308.876
03	Santa Fe	3.194.537
04	Ciudad Autónoma de Buenos Aires	2.890.151
05	Mendoza	1.738.929
06	Tucumán	1.448.188
07	Entre Ríos	1.235.994
08	Salta	1.214.441
09	Misiones	1.101.593
10	Chaco	1.055.259
11	Corrientes	992.595
12	Santiago del Estero	874.006
13	San Juan	681.055
14	Jujuy	673.307
15	Rio Negro	638.645
16	Neuquén	551.266
17	Formosa	530.162
18	Chubut	509.108
19	San Luis	432.310
20	Catamarca	367.828
21	La Rioja	333.642
22	La Pampa	318.951
23	Santa Cruz	273.964
24	Tierra del Fuego Antártida e Islas del Atlántico Sur	127.205

Total de la Población	40.117.096
-----------------------	------------

c)- Escribe un número comprendido entre las poblaciones de....

Rio Negro y San Juan.....

Misiones y Salta.....

La Pampa y La Rioja.....

Chubut y Formosa.....

7) Completa el cuadro siguiente

Provincia	Población	Se lee...
Tucumán		
Santa Fe		
Buenos Aires		
Salta		
Córdoba		

8) En un mapa del Continente Americano ubica la República Argentina y los países limítrofes.

Indica y localiza en el mapa los límites del territorio argentino.

Al Norte:.....

Al Este:.....

Al Sur:.....

Al Oeste:.....

9) Ordena, de menor a mayor, las Superficies de las provincias argentinas cuyos nombres comiencen con **S**.

.....

10) Completa el cuadro

Provincia	Población	+10	+100	+1.000	+10.000
Catamarca					
Chaco					
Santa Cruz					
Mendoza					
Misiones					
Buenos Aires					


Opera con números naturales:


¿Cuál es la diferencia entre las superficies de Rio Negro y Mendoza?.....

Mili vive en la provincia de Neuquén y quiere festejar su cumple, organizó todo lo que compró en cotillón en un cuadro.

11) Completa con los datos que faltan.

En la provincia de San Juan, departamento Jáchal llegó un colectivo vendiendo ropa de gaucho

Cantidad de ponchos	 1	2	3	4	5	6	7	8	9	10
Precio	\$ 600									

Cantidad de botas	 1	2	3	4	5	6	7	8	9	10
Precio	\$ 4.000									

12) Lee y resuelve:

Juan va a comprar unas botas de gaucho a \$ 4000 c/u. Como no le alcanza el dinero que tiene para pagar todo el valor, lo hará con su tarjeta de crédito, en 9 cuotas iguales.

a)- ¿Cuánto pagará cada cuota?.....

\* Pedro está mirando la espuela de \$2890 y, como fue su cumpleaños, juntó dinero y prefiere pagarlos de contado. Sino puede hacerlo en 5 cuotas de \$650.

b)- ¿Cuánto dinero se ahorra si paga de contado?.....

\* El abuelo de Julián quiere regalarle el poncho. Piensa pagarlo en cuotas y tiene \$ 550.

¿Cuánto dinero le falta?

**Directora:** Jaquelina Villalba