

Escuela: Dr.: Pablo .A. Ramella -Primer Grado- Áreas: Lengua- Matemática- Ciencias Sociales- Formación Ética y Ciudadana

GUÍA N.º 24 DE RETROALIMENTACIÓN-ESCENARIO 2

ESCUELA: DR. PABLO .A. RAMELLA

CUE: 700064-300

DOCENTES: SONIA MORENO- CAROLINA VALDEZ

GRADOS: 1º “A” Y “B”

TURNO: MAÑANA

DESAFÍO: “CONSTRUIR UN JUEGO DE MESA, QUE INVOLUCREN FIGURAS GEOMÉTRICAS Y SEÑALES VIALES, PARA REALIZAR CÁLCULOS”

CONTENIDOS: LENGUA: LA ESCUCHA, COMPRENSIÓN Y DISFRUTE DE POEMAS. LA ESCUCHA

COMPRESIVA DE TEXTOS LEÍDOS O EXPRESADOS EN FORMA ORAL, POR OTROS ADULTOS. LA ESCRITURA

DE PALABRAS Y DE ORACIONES, QUE CONFORMAN UN TEXTO. **MATEMÁTICA:** NÚMEROS ORDINALES Y

CARDINALES. **CIENCIAS SOCIALES:** PAISAJES RURALES Y URBANOS. CARACTERÍSTICAS. MEDIOS DE

TRANSPORTES. **FORMACIÓN ÉTICA Y CIUDADANA:** EL CONOCIMIENTO DE LAS NORMAS Y SEÑALES

VIALES BÁSICAS.

INDICADORES DE EVALUACIÓN PARA LA NIVELACIÓN: LENGUA: LEE O ESCUCHA EL TEXTO CON

ENTUSIASMO. COMPRENDE LA LECTURA DEL TEXTO, A TRAVÉS DE DIBUJOS. ILUSTRAS LAS REGLAS DEL

JUEGO DIDÁCTICO. **MATEMÁTICA:** DISTINGUE LOS NÚMEROS ORDINALES. RECONOCE Y CONSTRUYE

FIGURAS GEOMÉTRICAS. CONFECCIONA SU TABLERO NUMÉRICO **CIENCIAS SOCIALES:** RECONOCE

CARACTERÍSTICAS DEL PAISAJE URBANO Y RURAL. IDENTIFICA MEDIOS DE TRANSPORTES. **FORMACIÓN**

ÉTICA Y CIUDADANA: IDENTIFICA NORMAS Y SEÑALES DE SEGURIDAD VIAL

ACTIVIDADES DE GUÍA Nº24

FECHA: 24/11/2020

ÁREA: LENGUA

ACTIVIDAD 1: ESCUCHAR EL POEMA.

LOS MEDIOS DE TRANSPORTE

SON MUCHOS LOS MEDIOS DE TRANSPORTE:

LOS HAY TERRESTRES,
COMO EL CAMIÓN.
OTROS SON ACUÁTICOS,
COMO EL GRAN BARCO BLANCO,
Y DE LOS ÁEREOS,
EL MAYOR DE TODOS,
ES EL AVIÓN.



ÁREA: CIENCIAS SOCIALES

ACTIVIDAD 2: ESCRIBIR CÓMO PUEDES O DIBUJAR ¿QUÉ ES CARACTERÍSTICO DE CADA ESPACIO?

RURAL:





URBANO:



FECHA: 25 /11/2.020

ÁREA: MATEMÁTICA

ACTIVIDAD 1: UNIR LA SEÑAL VIAL CON LA FIGURA GEOMÉTRICA CORRECTA.



ÁREA: LENGUA

ACTIVIDAD 2: ESCRIBIR CÓMO PUEDES O DIBUJAR LAS RESPUESTAS CORRECTAS
(RECORDAR, EL TEXTO TRABAJADO EL DÍA MARTES)

A-¿CUÁLES SON LOS MEDIOS DE TRANSPORTES, ¿QUÉ SE NOMBRAN?

TERRESTRE:

ACUÁTICO:

AÉREO:

B-¿CUÁL TE GUSTA? DIBÚJALO.

FECHA: 26 /11/2.020

ÁREA: FORMACIÓN ÉTICA Y CIUDADANA

ACTIVIDAD 1: OBSERVAR CADA VIÑETA Y RESPONDER CON MUY BIEN
O CON MUY MALO.



¿QUÉ SUCEDE EN CADA VIÑETA?



ÁREA: MATEMÁTICA

ACTIVIDAD 2: ORDENAR LOS MEDIOS DE TRANSPORTES, DESDE EL 1º AL 6º.
ESCRIBIR CÓMO PUEDES, EL NOMBRE DE UNO DE ELLOS.



FECHA: 27 /11/2.020

¡HA LLEGADO EL DÍA VIERNES, TRABAJAREMOS LO APRENDIDO, ¡A TRAVÉS DE UN GRAN DESAFÍO!

Escuela: Dr.: Pablo .A. Ramella -Primer Grado- Áreas: Lengua- Matemática- Ciencias Sociales- Formación Ética y Ciudadana

JUGAR, LE PERMITE AL NIÑO EXPERIMENTAR SUS EMOCIONES Y EXPRESAR SUS SENTIMIENTOS.

ÁREA: LENGUA-MATEMÁTICA-CIENCIAS SOCIALES

ACTIVIDAD 1: ARMAR CON DIBUJOS, TUS PROPIAS REGLAS DE JUEGO.

NOMBRE:

MATERIALES:

REGLAS:

JUGADORES:

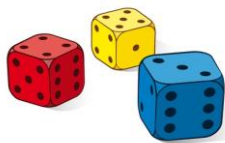
SEÑALES VIALES PARA JUGAR (LA DEBES INVENTAR Y DIBUJAR EN CADA FORMA GEOMÉTRICA)



ACTIVIDAD 2: CONSTRUIR TU TABLERO NUMÉRICO.

PUEDES OCUPAR UNA HOJA BLANCA.

DEBES BUSCAR UN DADO O PUEDES ARMARLO CON UNA CAJITA, PEGARLE PAPELES Y PINTAR LOS PUNTOS DEL 1 AL 6.



DEBES ESCRIBIR ALGUNOS CÁLCULOS, QUE HAS REALIZADO.

JUGADORES	CÁLCULOS
1º JUGADOR	
2º JUGADOR	

AL FINALIZAR PUEDES ENVIAR, UN VIDEO O AUDIO Y FOTO EXPLICANDO TU TRABAJO FINAL.

DIRECTORA: M. ELEA FERNANDES

VICEDIRECTORA.SANDRA HERRERA