

GUÍA PEDAGÓGICA N°24 DE RETROALIMENTACIÓN**GRUPO 1****ESCUELA:** PROVINCIA DE CATAMARCA**CUE:** 7000523-00**DOCENTES:** Vara, Roxana- Jofré, Gabriela- Aballay, Gretel- Echegaray, Cristina**GRADO:** 1º A, B Y C**TURNO:** Mañana**ÁREAS CURRICULARES:** Matemática, Ciencias Naturales y Educación Física.**TÍTULO DE LA PROPUESTA:**“**APRENDEMOS A COMER ALIMENTOS SALUDABLES**”.**CONTENIDOS:**

-MATEMÁTICA: NÚMERO NATURAL INTERVALO (0 AL 100). CONSTRUCCIÓN Y USO DE LA SUCESIÓN DE NÚMEROS NATURALES POR INTERVALOS POR LO MENOS HASTA 100. RELACIONES DE MAYOR Y MENOR. ESCRITURAS EQUIVALENTES DE UN NÚMERO. DESCOMPOSICIÓN ADITIVA DE NÚMEROS EN UNOS Y DIECES. VALOR POSICIONAL. NÚMEROS ORDINALES (PRIMERO HASTA DÉCIMO). OPERACIONES DE SUMA Y RESTA. FIGURAS GEOMÉTRICAS.

-CIENCIAS NATURALES: CUERPO HUMANO. HÁBITOS QUE FAVORECEN A LA SALUD.

-EDUCACIÓN FÍSICA: JUEGO.

INDICADORES DE EVALUACIÓN PARA LA NIVELACIÓN:***-MATEMÁTICA***

-USA NÚMEROS NATURALES HASTA 99 AL DETERMINAR Y COMPARAR CANTIDADES Y POSICIONES.

-IDENTIFICA REGULARIDADES EN LA SERIE NUMÉRICA PARA ESCRIBIR NÚMEROS Y OPERAR CON ELLOS.

-RECONOCE Y USA OPERACIONES DE ADICIÓN Y SUSTRACCIÓN EN SITUACIONES PROBLEMÁTICAS.

-IDENTIFICA CARACTERÍSTICAS DE LAS FIGURAS GEOMÉTRICAS.

-CIENCIAS NATURALES

-RECONOCE ALIMENTOS SALUDABLES Y NO SALUDABLES.

-EDUCACIÓN FÍSICA

-RECONOCE ACTIVIDADES CORPORALES TALES COMO: GIROS, DESPLAZAMIENTOS, POSTURA, MOVIMIENTOS SEGMENTARIOS.

DESAFÍO: **ELABORAR UNA MERIENDA SALUDABLE PARA INCENTIVAR EL CONSUMO DE FRUTAS EN DIFERENTES OPCIONES.**


LUNES, 16 DE NOVIEMBRE**MATEMÁTICA**

1. OBSERVA LA SIGUIENTE IMAGEN.



2. REALIZA EL DIBUJO Y LA CUENTA.

FUI A LA VERDULERÍA A COMPRAR FRUTAS Y VERDURAS PARA REALIZAR EL DESAFÍO QUE ME PROPUSO MI SEÑO Y COMPRÉ:

	DIBUJO	CUENTA
3 TOMATES		$20 + 20 + 20 = 60$
2 LECHUGAS		
4 BERENJENAS		
1 ZANAHORIA Y 2 CEBOLLAS		
1 BANANA, 1 FRUTILLA Y UNA NARANJA		

3. RESUELVE LAS SIGUIENTES SITUACIONES PROBLEMÁTICAS.

A. TENGO \$ 60 PARA GASTAR EN FRUTAS Y VERDURAS ¿CUÁLES PUEDO COMPRAR?

B. TENGO 37 PESOS Y COMPRÉ 2 FRUTILLAS.

- ¿ME ALCANZA?
- ¿ME SOBRA? ¿CUÁNTO?

MARTES, 17 DE NOVIEMBRE

1. COMPLETA LOS NÚMEROS QUE FALTAN EN LA TABLA

0	1	2	3	4	5	6		8	9
10		12	13	14	15	16	17	18	19
20	21		23	24	25	26			
30	31	32			35		37		
40		42		44	45		47	48	49
50	51	52		54	55		57	58	
60	61	62	63	64	65		67	68	69
70		72		74			77	78	79
80					85			88	89
						96		98	

2. LEE Y UNE CON FLECHAS.

- NOVENTA Y DOS 72
- OCHENTA Y CINCO 90
- SETENTA Y DOS 92
- NOVENTA 85

3. RESPONDE Y ESCRIBE LOS NÚMEROS.

- ¿CUÁNTOS UNOS TIENE EL 8?
- ¿CUÁNTOS DIECES TIENE EL 90?
- ¿CUÁNTOS DIECES Y UNOS TIENE EL 73?

4. SUMA O RESTA. ESCRIBE EL NÚMERO.

$10+10+10+10+10+1+1+1+1=$
 $80 - 10=$

$50+20+10+5=$
 $99 - 1=$

MIÉRCOLES, 18 DE NOVIEMBRE**EDUCACIÓN FÍSICA****"ENSALADA DE FRUTAS"**

TODOS LOS PARTICIPANTES SE SIENTAN EN SILLAS FORMANDO UNA RONDA. EL ANIMADOR DARÁ EL NOMBRE DE UNA FRUTA A CADA PARTICIPANTE. LUEGO SE UBICA EN EL CENTRO DE LA RONDA Y DIRÁ EL NOMBRE DE ALGUNAS FRUTAS. LOS PARTICIPANTES QUE TENGAN ESOS NOMBRES SE DEBEN PRESENTAR EN EL CENTRO Y REPENTINAMENTE EL ANIMADOR DIRÁ "ENSALADA DE FRUTAS", EN ESE MOMENTO TODOS TRATAN DE SENTARSE LO MÁS RÁPIDO QUE PUEDAN, INCLUSIVE EL ANIMADOR. EL QUE SE QUEDE SIN SILLA CONTINUARÁ CON EL JUEGO.

COMPRANDO FRUTAS Y VERDURAS


1. DIBUJA BILLETES DE 10 Y MONEDAS DE 1 PESO.



\$32




\$33 C/U



\$15 C/U



\$36



\$25 C/U

2. ORDENA LOS PRECIOS DEL PUNTO ANTERIOR DE MENOR A MAYOR.

JUEVES, 19 DE NOVIEMBRE

1 ESCRIBE EL NOMBRE DE LAS SIGUIENTES FRUTAS Y VERDURAS SEGÚN EL ORDEN EN QUE ESTÁN UBICADAS.

PRIMER LUGAR

TERCER LUGAR

SEXTO LUGAR

DÉCIMO LUGAR



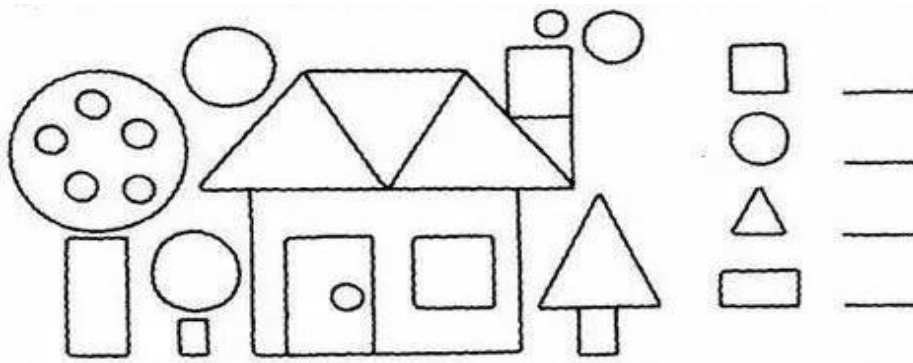
1. ESCRIBE CUÁNTAS FIGURAS HAY EN CADA FORMA GEOMÉTRICA.
2. COLOREA SEGÚN EL CÓDIGO.

ROJO LOS TRIÁNGULOS

VERDE LOS CÍRCULOS

AZUL LOS CUADRADOS

MARRÓN LOS RECTÁNGULOS



VIERNES, 20 DE NOVIEMBRE

CIENCIAS NATURALES

1. ENCIERRA CON UN CÍRCULO LOS ALIMENTOS SEGÚN EL COLOR DEL SEMÁFORO SALUDABLE QUE APRENDISTE EN LA GUÍA 20.

RECORDAMOS LOS COLORES DEL SEMÁFORO: ROJO AMARILLO VERDE



2. PARA CULMINAR EL DESAFÍO REALIZA UN LICUADO CON TU FRUTA PREFERIDA. NO OLVIDES ENVIAR UNA FOTO A TU SEÑO TE PUEDES AYUDAR SIGUIENDO ESTOS PASOS.

BATIDO DE FRUTAS

INGREDIENTES: 1 BANANA, 4 FRUTILLAS (OPCIONAL) O LA FRUTA QUE PREFIERAS, 300 CC DE LECHE Y UN POCO DE AZÚCAR.

PASOS: COLOCAR TODOS LOS INGREDIENTES EN LA BATIDORA Y BATIRLOS HASTA QUE QUEDE TODO COMO UNA CREMA. SERVIRLO EN UN VASO.

DIRECTORA: CORIA, ANDREA



VICEDIRECTORA: CARPIO, SANDRA