

GUÍA PEDAGÓGICA Nº 7

Docente: Claudia Báez

Curso: 1º Ciclo Primario

Turno: Nocturno

Áreas Integradas: Lengua - Matemática - Ciencias Sociales - Ciencias Naturales - Formación Ética y Ciudadanía

Título: “UNIDADES BÁSICAS DE ESCRITURA: LETRA, SÍLABA, PALABRA”



LENGUA

1. OBSERVA LA HISTORIETA.



A). RESPONDA.

- ¿QUIÉNES SON LOS PERSONAJES?
- ¿QUÉ HACE EL GATO?.....
- ¿Y EL RATÓN?.....
- FINAL DE LA HISTORIA.....

RECUERDA



2. EXTRAE LOS SUSTANTIVOS DE LA HISTORIETA

.....

RECUERDA

LAS PALABRAS ESTÁN FORMADAS POR SÍLABAS,
LAS SÍLABAS SE FORMAN POR LETRAS.

3. SEPARA EN SÍLABAS LAS PALABRA DEL RECUERDA. ejemplo

LETRAS → C - A - B - A - L - L - O

SÍLABAS → CA - BA - LLO

PALABRA → CABALLO



4. BUSCA SUSTANTIVOS QUE EMPIECEN CON LAS SÍLABAS INDICADAS.


MA - ME - MI - MO - MU

5. RECORTA CADA PALABRA Y LUEGO PEGA EN EL CUADERNO.

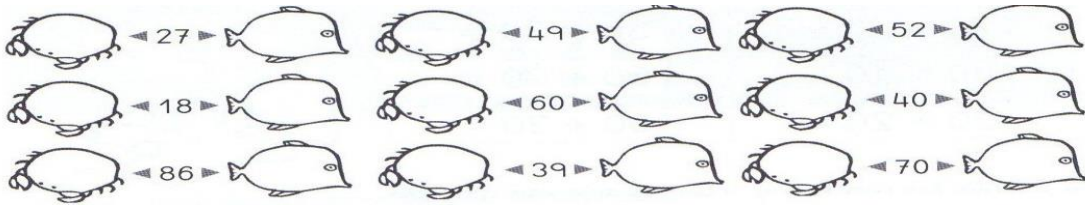
MATEMÁTICA

1. RESUELVA LAS CUENTAS Y PINTA EL DIBUJO SEGÚN EL RESULTADO.


- CON ROJO: LOS RESULTADOS QUE DAN 25.
- CON VERDE: LOS RESULTADOS QUE DAN 50.
- CON AZUL: LOS RESULTADOS QUE DAN 100.



2. ESCRIBA EL ANTERIOR Y EL POSTERIOR DE CADA NÚMERO.



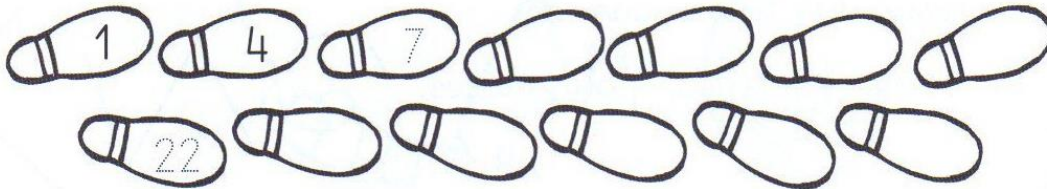
3. ORDENA DE MENOR A MAYOR



4. ESCRIBA CUATRO NÚMEROS.

- Mayores que 17 ►
- Mayores que 30 ►
- Mayores que 62 ►


5. SUMA 3 CADA VEZ Y CONTINÚA LA SERIE.



Recuerda

$$\begin{array}{c} \text{MINUENDO} \quad \text{SUSTRAENDO} \quad \text{RESTO} \\ \leftarrow 8 - 2 = 6 \rightarrow \\ \quad \quad \quad \uparrow \end{array}$$

6. RESUELVA



A). EN UN ESTANQUE HAY 52 PATOS. UN CAMIÓN TOCA LA BOCINA Y SE VAN VOLANDO 21 PATOS. ¿CUANTOS PATOS QUEDAN EN EL ESTANQUE?

GEOMETRÍA


1). COLOREA LOS TRIÁNGULOS DE ROJO, LOS CUADRADOS DE AZUL, LOS RECTÁNGULOS DE VERDE Y LOS CÍRCULOS DE AMARILLO.

Recuerda

Círculo	Cuadrado	Triángulo	Rectángulo

FORMACIÓN ÉTICA

✦ ¿CÓMO ME SIENTO HOY?



1). CAMBIA EL LUGAR DE LAS LETRAS



✦ FORMA NUEVAS PALABRAS SIN AGREGAR OTRAS. (MÍNIMO SEIS PALABRAS) EJEMPLO. EDAD

.....

2). RESPONDA

a) ¿POR QUÉ ES IMPORTANTE DECIR SIEMPRE LA VERDAD?.....

3). BUSCA EL SIGNIFICADO DE LA PALABRA VERDAD Y ANÓTALO EN EL CUADERNO.

CIENCIAS SOCIALES

CIUDADES Y BARRIOS

- EN UNA CIUDAD HAY MUCHOS BARRIOS.
- UN BARRIO ES UN CONJUNTO DE MANZANAS CON CASA Y EDIFICIOS. LAS MANZANAS ESTÁN RODEADAS POR CALLES QUE TIENEN NOMBRES ESCRITOS EN CARTELES, LAS CASAS Y LOS EDIFICIOS TIENEN NÚMEROS, PARA PODER IDENTIFICARLOS.
- LOS BARRIOS SON DISTINTOS. HAY BARRIOS CON MUCHAS VIVIENDAS Y OTROS CON POCAS; ALGUNOS TIENEN PLAZAS Y EN OTROS FALTAN. TAMBIÉN ENCONTRAMOS NEGOCIOS, ESCUELAS, HOSPITALES, ETCÉTERA.
- NUESTRO BARRIO ES ESPECIAL PORQUE EN ÉL SE HAYA NUESTRA CASA Y VIVEN ALGUNOS DE NUESTROS AMIGOS Y NUESTROS VECINOS.



✦ RESPONDA

✦ ¿QUÉ ES UN BARRIO?

✦ ¿CÓMO ES TU BARRIO?.....

✦ LUGAR DONDE VIVES

CIENCIAS NATURALES

1). ENUMERA LAS IMÁGENES DEL PROCESO PRODUCTIVO:


1.PRODUCCIÓN

2.TRANSFORMACIÓN

3.DISTRIBUCIÓN

4.COMERCIALIZACIÓN

5. CONSUMO.



2). ESCRIBA LO QUE TÚ ENTIENDAS POR:

PRODUCCIÓN:

TRANSFORMACIÓN:.....

DISTRIBUCIÓN:.....

COMERCIALIZACIÓN:.....

CONSUMO:.....

SR. DIRECTOR CARLOS ESPEJO