

Escuela: Nocturna Monseñor Audino Rodríguez y Olmos

Docente: Marisa Gomez


Ciclo: 1º y 2º

Título: "Conociendo los animales"

Actividades del Primer y Segundo Ciclo

Mes de agosto desde el 10/08 al 14/08 de 2020 Guía Nª11


Actividades de repaso de Lengua y Matemática

 Oralidad con un miembro de la familia: ¿Conocías el delfín? ¿Lo viste en alguna película? ¿En alguna revista?

 Lee con atención el siguiente texto

EL DELFIN

El delfín es un animal asombroso: inteligente y sumamente afectuoso con los seres humanos, con una sonrisa contagiosa que tiene por naturaleza. No duerme nunca, porque sus dos hemisferios cerebrales se van alternando a la manera de un equipo. Mientras un hemisferio descansa durante dos o tres horas, el otro se queda en vigilia. Siempre está en estado consciente, no conoce el sueño", explica una investigadora de terapias asistidas con delfines.

 Responde según el texto que leíste.

- * ¿Cómo se comporta el delfín con los seres humanos?
- * ¿Cómo es su sonrisa?
- * ¿Cuántas horas duerme?
- * ¿Dónde te parece que habitan los delfines y cómo se desplazan?
- * ¿Te animas a buscar una imagen de un delfín? Podes recortar y pegar o dibujar.



Agrega un adjetivo a cada palabra. ¿Cómo es?

Delfín _____

Ballena _____

Pecera _____



Encuentra los animales en la sopa de letras y pinta con diferentes colores sus nombres

M	A	N	T	A	R	A	Y	A	U	K	V	U	I	M	N	G
X	L	V	H	L	A	N	G	O	S	T	A	E	F	E	K	O
K	R	E	A	N	G	U	I	L	A	T	U	I	Z	D	I	I
P	E	Z	G	L	O	B	O	O	F	S	V	T	A	U	Y	P
C	P	E	Z	P	A	Y	A	S	O	D	P	N	E	S	O	S
E	A	Y	T	B	U	F	F	Y	A	U	E	H	W	A	C	E
U	S	N	I	T	Y	X	I	W	D	U	Z	S	M	I	N	H
R	A	U	G	P	P	E	Z	E	S	P	A	D	A	G	T	O
A	T	Z	Q	R	D	P	T	M	U	E	N	L	U	F	O	D
W	C	V	X	E	E	Y	D	Q	P	Y	G	Y	T	Z	R	Q
C	M	Y	C	H	L	J	I	W	D	V	E	G	C	U	T	H
E	R	T	M	P	F	X	O	F	N	A	L	Y	P	Q	U	J
S	H	M	I	V	I	A	P	U	L	P	O	M	N	I	G	F
E	Y	J	E	F	N	C	Y	V	K	U	N	M	L	M	A	O
T	I	B	U	R	O	N	V	Y	U	E	N	R	V	I	V	I
C	A	B	A	L	L	I	T	O	D	E	M	A	R	E	N	I
E	S	T	R	E	L	L	A	D	E	M	A	R	L	Z	R	D

Pulpo	Tiburón	Cangrejo	Anguila
Pez espada	Caballito de mar	Mantaraya	Tortuga
Estrella de mar	Delfín	Pez ángel	Pez payaso
Pez globo	Medusa	Langosta	



Realiza una lista (recordar que es una palabra arriba de la otra) con los animales que encontraste, y luego separa en sílabas cada uno.



Ordena alfabéticamente



Mira la siguiente imagen y escribe una breve historia. (que contenga 7 oraciones)

Usa los conectores: “Un día”, “Luego”, “Finalmente”, etc.



BUSCA ,ENCUENTRA Y PINTA TRES
SUSTANTIVOS COMUNES Y TRES
SUSTANTIVOS PROPIOS QUE ESTAN
ESCONDIDOS EN ESTA SOPA DE LETRAS

x	z	c	a	s	a	w	q
M	a	u	l	l	i	n	x
w	p	z	w	q	z	q	w
x	e	C	h	i	l	e	z
w	l	z	q	x	w	z	w
x	o	z	P	e	d	r	o
z	x	q	w	m	a	n	o

Matemática



Marca con una cruz el número que cumpla los requisitos que se piden.

¿Qué número es mayor que 88?

- 79
- 80
- 87
- 76
- 98

¿Qué número es menor que 34?

- 85
- 22
- 92
- 35
- 40

¿Qué número es mayor que 11?

- 5
- 8
- 10
- 7
- 12

¿Qué número es mayor que 63?

- 31
- 60
- 36
- 83
- 15

¿Qué número es menor que 77?

- 79
- 80
- 95
- 76
- 70

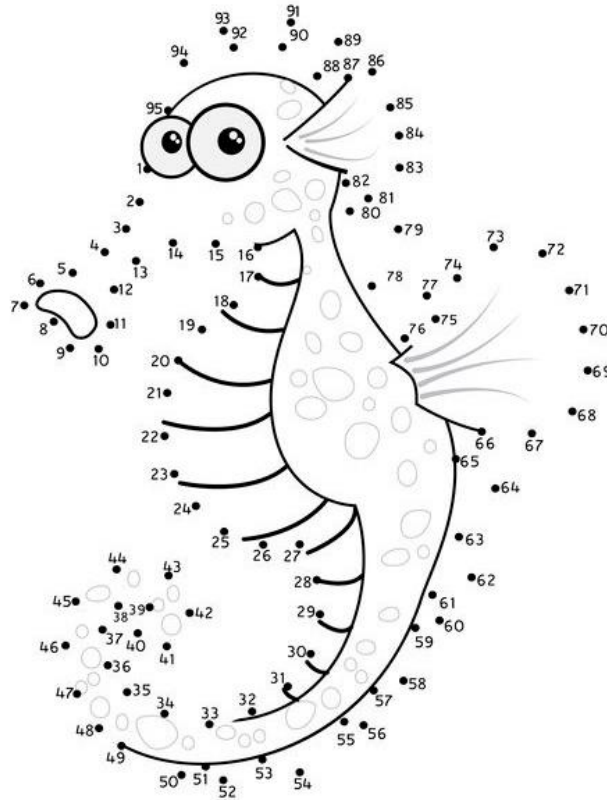
¿Qué número es mayor que 39?

- 33
- 18
- 25
- 46
- 12



Une los puntos con los números en orden para armar la figura.

etapainfantil.com



Calcula cuanto duermen



20 horas



16 horas



14 horas



4 horas



16 horas

- ¿Qué animales duermen menos que la tortuga? -----
- ¿Qué animales duermen más que la ardilla? -----
-
- ¿Qué animales duermen la misma cantidad de horas? -----

- ¿Cuál es el animal que duerme más horas? -----
- Encuentra dos animales que en total duerman horas.....



Resuelve

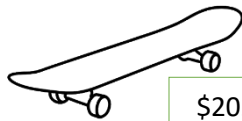
BILLETES DE \$100 BILLETES DE MONEDAS DE \$1
\$10

128			
241			
179			
25			
83			



Lee lo que dicen los chicos y rodea la respuesta correcta.

Tengo menos de \$200, ¿Qué puedo comprar?



\$202



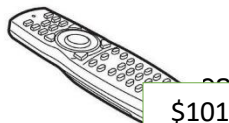
\$112



\$92

Tengo entre \$100 y \$200 ¿Qué puedo comprar?

ona cor



\$101



\$243



\$180


Circulo

Cuadrado

Rectángulo

Triángulo

Rombo





Lee, piensa y resuelve

♥ Graciela envasó 23 frascos de dulce de tomate y 32 de membrillo. ¿Cuántos frascos envasó en total?

Planteo.....Respuesta:

♥ A Martin su profesor le envió un mensaje por celular en donde debía realizar los siguientes ejercicios en su casa: 43 flexiones de brazos y 22 abdominales. ¿Cuántos ejercicios hizo en total?

Planteo:Respuesta:



Completa el cuadro como en el ejemplo

36	$30 + 6$	Treinta y seis
28		
143		
251		
12		
189		
29		