

Pro. P.A.A. Zona Norte UE 060

Docente: Nélide Moreno

Ciclo: Primero

Turno: Tarde

Coordinadora: Lic. Juanita Luna

GUÍA PEDAGÓGICA DE RETROALIMENTACIÓN 1

➤ Propósito general

• Desarrollar:

Hábitos de trabajo individual, de esfuerzo y de responsabilidad en el estudio

➤ Capacidades

• Comunicación Aprender a aprender

➤ Contenidos:

Matemática: Numeración Figuras/ Lengua Texto Oración/ Ciencias Naturales: Seres vivos/ Ciencias Sociales: El día de la tradición/ Formación Ética: Valores para la vida/ Formación para el trabajo: Uso de nuevas herramientas digitales de trabajo

➤ DESARROLLO DE ACTIVIDADES

LENGUA



1-Presta atención al diálogo entre el gaucho y la paisana



Completa teniendo en cuenta lo leído

- Los personajes de las coplas son.....y.....
- El gaucho no quiere que le tire con.....
- El gaucho quiere que la paisana lo mire con.....

Recuerda: las coplas son una forma graciosa e ingeniosa de comunicarse entre dos o más Personas al compás de una tonada rimando cada verso y son parte de nuestra tradición.

2- Lee y escribe un sustantivo propio

El gaucho.....toma mate.

.....la paisana usa un pañuelo.

3-Redacta una oración con la palabra gaucho

4- coloca un adjetivo

Paisana

Mate

Empanada

CIENCIAS SOCIALES

6- Observa y responde

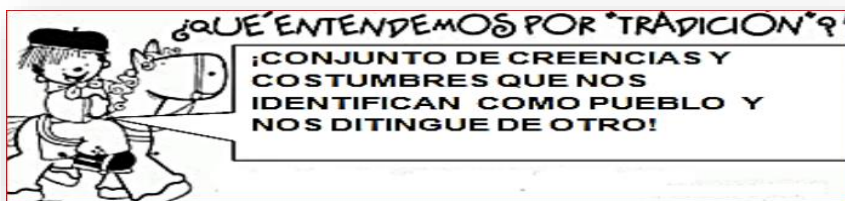
6- a ¿En qué lugar viven el gaucho y la paisana en esa imagen?

6- b ¿Cómo son sus casas?

6- c Escribe características del campo y la ciudad



7- Lee con mucha atención, lo que le tocó a este gaucho, explicar, un 10 de noviembre, sobre las tradiciones.



7. a Envía un audio (WhatsApp) explicándome qué significa tradición?



MATEMÁTICA

8- Adivina el número

- Estoy entre el 300 y el 400. Termino en 5.

-Soy más grande que el 350. Soy más chico que el 390

- Estoy entre el 550 y el 650. Termino en 0. Si me suman 10 me convierto en el 620.

Comentado [NMC1]:

9-Resuelve mentalmente y coloca el resultado

a) $600 + 200 =$ _____

b) $300 + 500 =$ _____



c) $400 + 600 =$ _____

d) $500 + 400 =$ _____

9.a Ordena estos números de menor a mayor

129 -67 -451 -12 -198 -244 -761- 311- 326 -161

9-b Coloca el nombre a las siguientes figuras



9-c Piensa y resuelve

De cada pizza de las que prepara Fernando, salen 8 porciones

Si prepara 3 pizzas, ¿cuántas porciones obtiene? _____

¿Y si prepara 4 pizzas? _____

En cada bandeja de medialunas que venden en el supermercado, vienen 3. ¿Cuántas medialunas tiene un cliente que compró 6 bandejas? _____



Ciencias Naturales

10-Responde según visto en guías anteriores

Docente: Nérida Moreno

10-a ¿Cuáles son las características de los seres vivos?

10-b Observa la siguiente imagen distingue y escribe en una columna correspondiente **seres vivos** y **no vivos**

