

Escuela: Hernando de Magallanes.

Docente: Patricia Roldán.

Turno: Mañana.

Grado: Primero Nivel: Primario

Guía Pedagógica de Retroalimentación N° 24.

Título: “Un esfuerzo más y llegamos”

Desafío: Realizar un abanico con los hábitos saludables que nos ayudan a estar sanos.

Contenidos:

Números y operaciones: Respecto del número y el sistema de numeración.

El número natural 0 hasta por lo menos 70. Funciones y uso en la vida cotidiana.

Construcción y uso de la sucesión de números naturales de forma oral y escrita.

Regularidades de la numeración oral y escrita hasta 70.

Relaciones de mayor, igual, menor, anterior, siguiente, entre.

Figuras geométricas.

La alimentación.

Hábitos saludables.

Indicadores de evaluación para la nivelación.

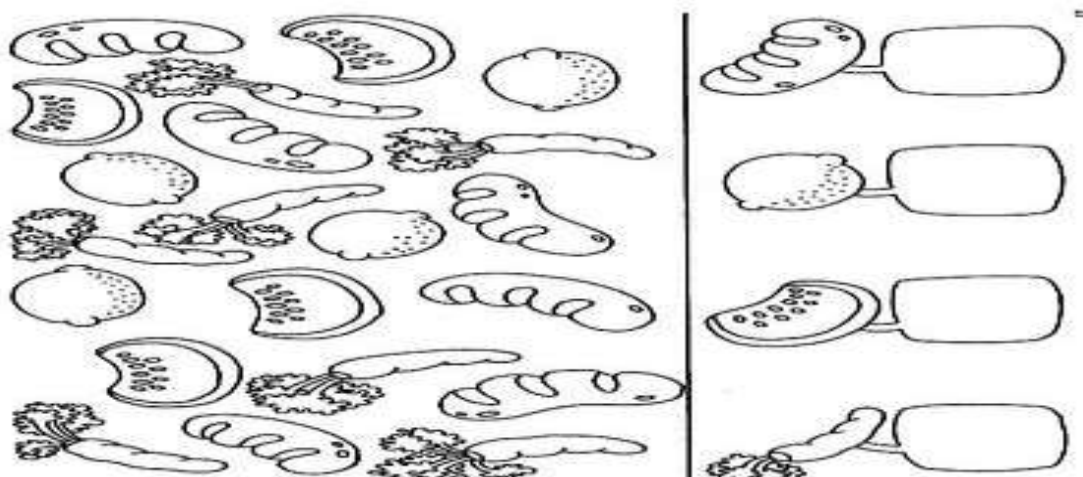
Reconoce, identifica, construye y utiliza números hasta 70.

Identifica las figuras geométricas y sus nombres.

Fomenta el desarrollo de actitudes responsables para el cuidado del cuerpo.

Actividades:




-¡A CONTAR! CUENTO CADA OBJETO Y COLOCO LA CANTIDAD QUE CORRESPONDA.



-ESCRIBO EL NOMBRE DE LOS NÚMEROS QUE COLOQUÉ.

.....
.....
.....
.....

-DIBUJO LA CANTIDAD:

7 	10 	15 
---	--	--


-OBSERVO LOS DIBUJOS Y PINTO LA CARITA FELIZ SI ES UN HABITO SALUDABLE Y PINTO LA CARITA TRISTE SI NO LO ES.

-COMPLETO LAS FAMILIAS.

0	1	2	3	4	5	6	7	8	9
10									
20									
30									
40									

ESCRIBO EL ANTERIOR Y POSTERIOR DE:

4	5	6	20	30
1	2	3	27	48
6	7	8	39			
.....	10	45			
.....	12						
.....	16						

-COMPLETO CON LOS NÚMEROS QUE FALTAN.

50									
60									
70									

-ESCRIBO EL NOMBRE DE LOS NÚMEROS QUE ESCRIBÍ EN LOS CUADROS DE COLOR.

.....

.....

.....

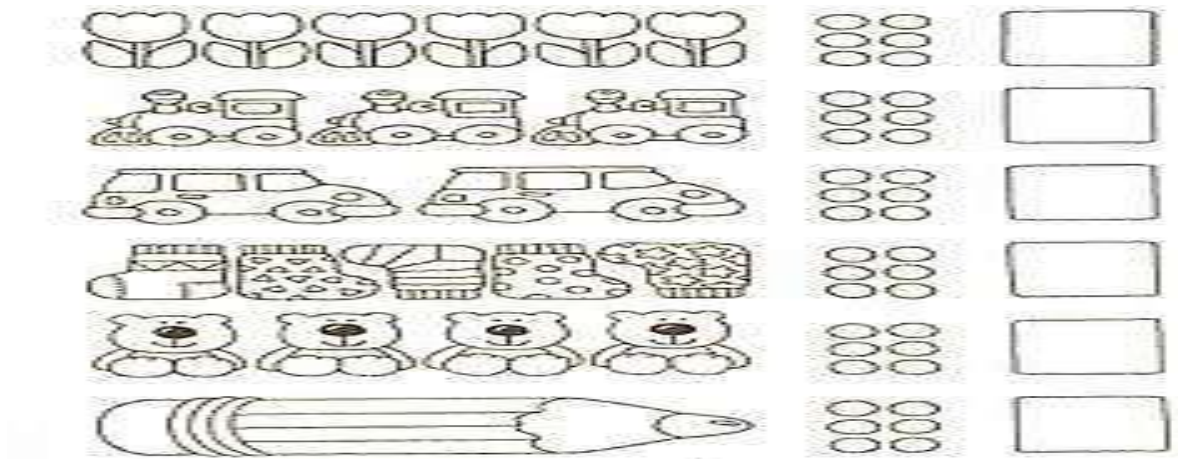
.....



-PINTO TANTOS CÍRCULOS COMO OBJETOS HAY EN CADA HILERA.

-ESCRIBO EL NÚMERO CORRESPONDIENTE EN EL CASILLERO.

-PINTO TODOS LOS OBJETOS.

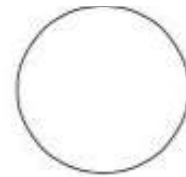


-UNO CADA FIGURA CON SU NOMBRE.

CUADRADO



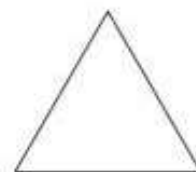
TRIÁNGULO



RECTÁNGULO



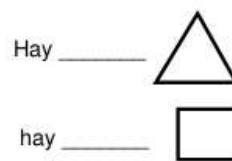
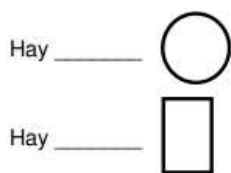
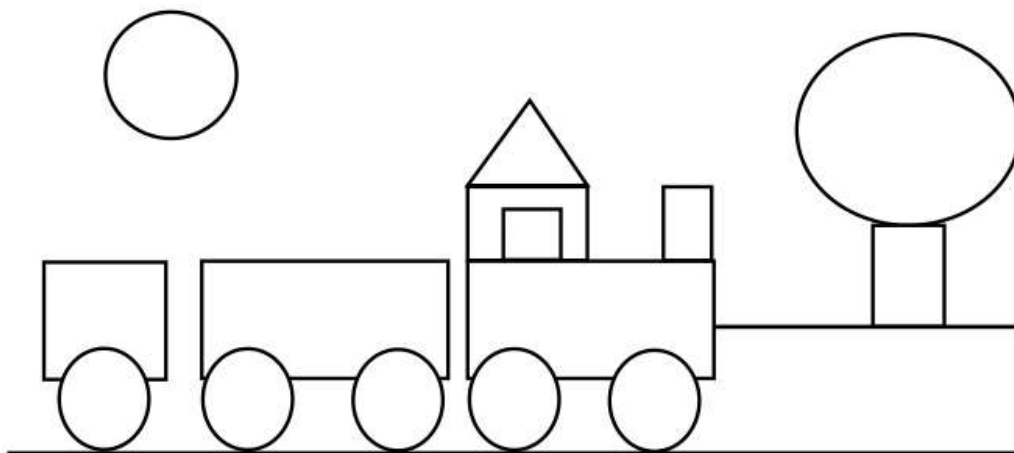
CÍRCULO



-COMPLETO SEGÚN INDICA CADA CASILLERO.

Número justo antes de		Número entre			Número justo después de	
	12	14		16	9	
	15	34		36	30	
	27	23		25	25	
	11	27		29	17	
	26	31		33	42	

-PINTO LAS FIGURAS SEGÚN LO INDICA Y LUEGO CUENTO CADA UNA Y COMPLETO CON EL NÚMERO CORRECTO.



-COMPLETA LA ESCALERA DE LA METACOGNICIÓN.

