

GUÍA PEDAGÓGICA Nº 20 DE RETROALIMENTACIÓN

ESCUELA: JUAN JUFRÉ

CUE: 700049200

DOCENTES: 1 "A" MARÍA ISABEL PONTORIERO, 1 "B" GLORIA HERRERA, 1 "C" ELIZABETH VILLARRUEL.

GRADO: 1º A, B, C

TURNO: MAÑANA.

TÍTULO: "PEPITO FELIZ DE VIVIR EN EL CAMPO"

CONTENIDOS:

ÁREA MATEMÁTICA: NÚMEROS HASTA 49. RELACIONES NUMÉRICAS. ESCRITURA DE NUMERALES. SITUACIONES PROBLEMÁTICAS.

CIENCIAS SOCIALES: EL CAMPO Y LA CIUDAD

FORMACIÓN ÉTICA: LA FAMILIA: DERECHOS

INDICADORES PARA LA EVALUACIÓN	LO HICE 	NECESITE AYUDA 	NO LO HICE 
ESCRIBO NÚMEROS HASTA 49.			
DIBUJO LOS NÚMEROS CORRECTAMENTE.			
COMPLETO EL ANTERIOR Y POSTERIOR			
ORDENO LOS NÚMEROS DE MAYOR A MENOR			
RESUELVO PROBLEMAS CON NÚMEROS			
RECONOZCO COMO ES LA CIUDAD Y EL CAMPO.			
ME DOY CUENTA CUÁLES SON MIS DERECHOS.			

DESAFÍO: CONSTRUIR UNA MAQUETA DE UNA GRANJA COMO LA DE PEPITO

ACTIVIDADES

TAREA 1 MATEMÁTICA

¡DE PASEO EN LA GRANJA DE PEPITO!

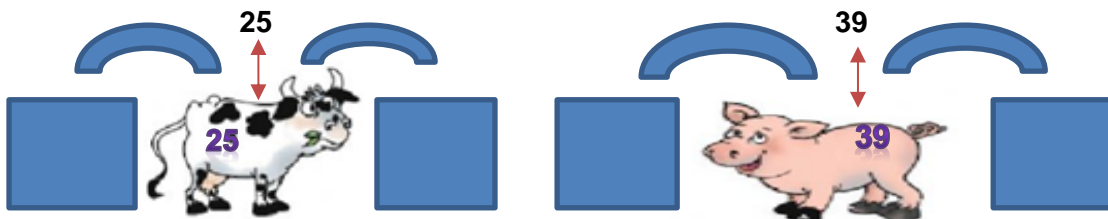
1-OBSERVA, COMPLETA Y TRABAJA.

PEPITO ES UN NIÑO QUE VIVE EN EL CAMPO Y TIENE UNA HERMOSA GRANJA. TODAS LAS MAÑANAS ORDEÑA SU VACA Y ANOTA LOS BALDES DE LECHE QUE OBTIENE POR DÍA. EN LA HOJA SE LE BORRARON ALGUNOS NÚMEROS. ¿TE ANIMAS A COMPLETAR LOS CASILLEROS VACÍOS?



0	1	2		4	5		7		9
10		12				16			
			23					28	
30				34					39
	41				45			48	

2-CADA ANIMAL TIENE UN NÚMERO PARA PODER ALIMENTARLOS A TODOS.
ESCRIBE EL ANTERIOR Y POSTERIOR



3- ESCRIBE EL NOMBRE DE LOS NÚMEROS.




4- MAMÁ ME DICTA 10 NÚMERITOS Y YO LOS ESCRIBO SOLITO.

TAREA 2 CIENCIAS SOCIALES

¡NUESTRO GRANJERO NOS PRESENTA SU CANCIÓN! PEPITO TODOS LOS DÍAS CANTA UNA LINDA CANCIÓN. <https://www.youtube.com/watch?v=yMW3psDUE3Y> .

1-ESCRIBE LOS NOMBRES DE LOS ANIMALES QUE APARECEN EN LA CANCIÓN.

2-DONDE VIVEN LOS ANIMALES QUE MENCIONASTE EN EL PUNTO 1.RODEA LA RESPUESTA CORRECTA.



← **CIUDAD**

← **CAMPO**

1- COMPLETA LA FICHA.

EN EL CAMPO	
LAS CASAS ESTÁN
HAY NEGOCIOS.
NO RUIDO.
HAY TRACTORES Y CAMIONES.	
TODOS LOS
SE CONOCEN.
HAY GENTE.

¡MANOS A LA OBRA!

**CONTRUYE CON MATERIAL
RECICLABLE TODO LO QUE
OBSERVAS EN LA FICHA QUE
COMPLETASTE DE LO QUE
HAY EN EL CAMPO.
EJEMPLOS: CASAS,
TRACTORES, CAMIONES.**



TAREA 3 MATEMÁTICA



1- A LOLA LE ENCANTA RESOLVER DISTINTAS SITUACIONES PROBLEMÁTICAS. ¿LA AYUDAS A RESOLVERLAS?

A-¿CUÁNTAS PATAS HAY EN TOTAL ENTRE VACA, CHANCHO Y CABALLO?

B-¿CUÁNTAS PATAS HAY EN TOTAL ENTRE UNA PATA, DOS PATITOS Y DOS GALLINAS?

❖ PARA RESOLVER ESTAS SITUACIONES DEBERÁS UTILIZAR PLASTILINA Y REALIZAR LOS ANIMALITOS ASÍ TE RESULTA MÁS FÁCIL CONTAR. ENVIAR UNA FOTO A LA SEÑO DEL TRABAJO REALIZADO.

TAREA 4 CIENCIAS SOCIALES - FORMACIÓN ÉTICA

1-COMO YA HEMOS VISTO EN LAS GUÍAS ANTERIORES, EN LA CIUDAD Y EN EL CAMPO HAY DIVERSOS TRABAJOS. EN TU CASA ¿QUIÉNES TRABAJAN Y QUÉ TRABAJOS REALIZAN?

2-COMPLETA


LOS ADULTOS TIENEN DERECHOS A: -----

LOS NIÑOS TIENEN DERECHO A: -----

3-DIBUJA DOS DERECHOS QUE TÚ TIENES Y ESCRIBE CUÁLES SON.

MATEMÁTICA

- 1- JUGAMOS AL BINGO EN FAMILIA (EXPLICACIÓN POR LA SEÑO)
- 2- OBSERVO LOS CARTONES DEL BINGO Y TRABAJO.



3-TRABAJA CON LOS NÚMEROS DE LOS CARTONES DEL PUNTO 2

- A- ES UN NÚMERO MAYOR A 45.
- B- ES MENOR QUE 17.
- C- ESTÁN EN LA FAMILIA DEL 20.

4-ELIGE UN CARTÓN DE BINGO Y ORDENA LOS NÚMEROS DEL MAYOR AL MENOR.




TAREA 5 MATEMÁTICA

- 1- OBSERVA CON MUCHA ATENCIÓN EL LUGAR DONDE SE DIVIerte LOLA LA HERMANA DE PEPITO Y CUENTA.



ATENCIÓN: PARA REALIZAR EL CONTEO TENDRÁS QUE HACER LOS ÁRBOLES, MANZANAS, FLORES Y ANIMALES ASÍ TE RESULTA MÁS FÁCIL. PUEDES UTILIZAR PLASTILINA, MASA DE SAL, CARTULINA, CARTÓN ETC.

2-AHORA COMPLETO EL CUADRO UTILIZANDO EL MATERIAL ANTERIOR.

TENGO	AGREGO 5 MÁS	TOTAL
		
		
		

TAREA FINAL: ¡CUMPLO EL DESAFÍO!

CON TODO EL MATERIAL QUE REALIZASTE PARA TRABAJAR EN LAS DISTINTAS ACTIVIDADES DEBERÁS REALIZAR UNA MAQUETA DEL LUGAR, LA GRANJA, DONDE VIVE PEPITO Y SU HERMANA LOLA. ÉL ENVIÓ LA SIGUIENTE FOTO:



¡SUERTE!

VICEDIRECCIÓN: MARÍA CELIA FERNÁNDEZ.

DOCENTES: MARÍA ISABEL PONTORIERO, GLORIA HERRERA Y ELIZABETH VILLARRUEL