

## Escuela Nocturna "Gendarmería Nacional" Primer Ciclo Áreas integradas

### Guía de retroalimentación (primer escenario)

**Escuela:** Nocturna "Gendarmería Nacional"

**Docentes:** Cristina Burgoa, Natalia Páez, Rosana Peñaloza, Viviana Valdes, Elizabeth Acutis.

### Primer Ciclo

**Turno:** Noche

**Áreas integradas:** Lengua -Ciencias Naturales-Matemática.


**Tema:** "Un esfuerzo más, no dejemos dormir nuestras neuronas"

### Contenidos:

- ✓ Numeración, operaciones.
- ✓ Comprensión lectora
- ✓ Higiene y prevención del covid 19.

### Actividades:

1. Lee el poema con ayuda de un familiar





# Escuela Nocturna "Gendarmería Nacional" Cuarto Ciclo Áreas integradas

2. Ahora responde en el cuaderno

- ¿A quién escuchan y dónde?

.....

- ¿Cómo imaginas que es el personaje? descríbelo en un breve

.....

3. Pinta en el poema las vocales aprendidas
4. Luego extrae palabras que lleven las siguientes letras M, S, L, R, P, D
5. Intento escribir oraciones con cada una de ellas.
6. Copia en letra imprenta mayúscula el poema.
7. Dibuja al personaje del texto.
8. Completa la serie numérica sin errores

### Cada familia en su casillero

1			4	5					10
	12				16	17		19	
		23	24				28		30
31	32			35		37			
		43			46		48	49	
51			54	55		57			60
	62			65	66		68		
71		73	74			77			80

- Elige 10 números del casillero y escribe como se llaman.
- De esos mismos números extraídos, escribe el Anterior y Posterior.

### **OPERACIONES SENCILLAS**

- Suma y Resta

$9-3 = \text{-----}$

$32+5 = \text{-----}$

$24+2 = \text{-----}$

$37 -4 = \text{-----}$

$56+9 = \text{-----}$

$45-7 = \text{-----}$

$28-8 = \text{-----}$

$55 + 7 = \text{-----}$



- Me dictan números.

72. 40. 9. 67. 28. 59. 31

- Ordeno de menor a mayor los números del dictado.

**¡A PENSARI**

- **LEEMOS SOLOS EL PROBLEMA:**

**A. "LA VERDULERÍA DE SUSANA"**

\*LALO TOMÓ 10 TOMATES, 7 PAPAS. ¿CUÁNTAS VERDURAS TOMÓ LALO?

\*MI TÍA TETÉ, PUSO 6 BANANAS, 2 NARANJAS Y 10 MELONES.

¿CUÁNTAS FRUTAS COMPRÓ?

RESPUESTA: .....

\*MATEO COMIÓ 15 UVAS, 1 ANANÁ Y 12 PERAS.

¿CUÁNTAS FRUTAS COMIÓ?

RESPUESTA: .....

**B. EI ZOOLOGICO DE PEDRO**


Ayudamos a separar las aves de los demás animales e insectos.

¿CUÁNTAS SON EN TOTAL LAS AVES? \_\_\_\_\_

¿CUÁNTOS INSECTOS ENCONTRASTE? \_\_\_\_\_

¿HAY ALGÚN ANIMAL QUE NO CONOCÍAS? \_\_\_\_\_

**ARAÑA, ABEJA, OVEJA, ELEFANTE, OSO, PEZ, URRACA, SAPO, IGUANA, PERRO, ZORRO, GALLINA, PALOMA, PATO, FOCA, ASNO, LORO, VACA, GALLO, ÁGUILA, JIRAFa, Y DRAGÓN**



**¡A PENSAR!**

❖ PEDRO TIENE: 1 LORO, 2 GATOS Y 3 PATOS.

¿CUÁNTOS ANIMALES TIENE PEDRO?

RESPUESTA: .....

❖ LITO COME: 1 MANZANA, 2 BANANAS, 4 PERAS.

¿CUÁNTAS FRUTAS COMIÓ LITO?


RESPUESTA: .....

❖ EMA CAMINA: 8 PASOS LUEGO, CAMINA 6 PASOS

¿CUÁNTOS PASOS CAMINÓ EMA?

RESPUESTA: .....

- Elige las letras necesarias para escribir el nombre de animales y contestar las preguntas.



.....

¿DE QUÉ COLOR ES?

.....



.....

¿CUÁNTAS PATAS TIENE?

.....



.....

¿QUÉ COME?

.....



## Escuela Nocturna “Gendarmería Nacional” Cuarto Ciclo Áreas integradas

- Dibuja y escribe que función cumple cada uno de los elementos de higiene que aprendiste durante el año escolar.
- Lee y une

# CORONAVIRUS

(COVID-19)



**DIFICULTAD  
RESPIRATORIA**

**DOLOR DE  
GARGANTA**

**FIEBRE  
Y TOS**